

Semestrální zkouška ISS, 2. opravný termín 6.2.2009, skupina A

Login:

Podpis:

Příklad 1 Jaká je stejnosměrná složka (střední hodnota) signálu $x(t) = 5 \cos(100\pi t) + 5$?

A	B	C	D
-2.5	0	2.5	5

Příklad 2 Pilovitý periodický signál je v intervalu $t \in [0, 2)$ definován: $x(t) = -3t$ a má periodu $T_1 = 2$. Určete, jakou hodnotu bude mít zpožděný signál $y(t) = x(t - 1)$ v čase $t = 1$.

A	B	C	D
$y(1) = 0$	$y(1) = -1.5$	$y(1) = -3$	$y(1) = -4.5$

Příklad 3 Na vstup $x_1(t) = \cos(100\pi t)$ reaguje systém výstupem $y_1(t) = 10 \cos(100\pi t)$.

Na vstup $x_2(t) = \cos(200\pi t)$ reaguje systém výstupem $y_2(t) = 50 \cos(200\pi t)$.

Na vstup $x_3(t) = \cos(100\pi t) + \cos(200\pi t)$ reaguje systém výstupem $y_3(t) = 6 + 10 \cos(100\pi t) + 50 \cos(200\pi t)$.

Jedná se o lineární systém ?

A	B	C	D
lineární	nelineární	nedá se určit	na mezi linearity

Příklad 4 Je dán obdélníkový signál se spojitým časem: $x_1(t) = \begin{cases} 1 & \text{pro } 0 \leq t < 1 \\ 0 & \text{jinde} \end{cases}$

Signál $x_2(t)$ je stejný: $x_2(t) = x_1(t)$. Jaká je konvoluce obou signálů $y(t) = x_1(t) \star x_2(t)$?

A	B
$y(t) = \begin{cases} t/2 & \text{pro } 0 \leq t < 2 \\ 0 & \text{jinde} \end{cases}$	$y(t) = \begin{cases} e^t & \text{pro } 0 \leq t < 1 \\ e^{-t} & \text{pro } 1 \leq t < 2 \\ 0 & \text{jinde} \end{cases}$
C	D
$y(t) = \begin{cases} -(x-1)^2 + 1 & \text{pro } 0 \leq t < 2 \\ 0 & \text{jinde} \end{cases}$	$y(t) = \begin{cases} t & \text{pro } 0 \leq t < 1 \\ 2-t & \text{pro } 1 \leq t < 2 \\ 0 & \text{jinde} \end{cases}$

Příklad 5 Je dán **komplexní** signál se spojitým časem $x(t) = -45e^{j100\pi t}$. Jaké jsou jeho koeficienty Fourierovy řady ?

A	B	C	D
pouze $c_1 = -22.5$	pouze $c_1 = -45$	pouze $c_{-1} = -22.5$	pouze $c_{-1} = -45$

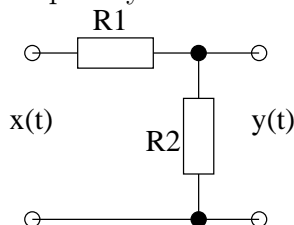
Příklad 6 Signál má nenulové koeficienty Fourierovy řady od c_{-5} do c_5 . Signál je vynásoben hodnotou 5. Jak se změjí jeho koeficienty FR?

A	B	C	D
všechny $c_{-5} \dots c_5$ vzrostou 5 krát.	pouze c_0 vzroste 5 krát.	všechny $c_{-5} \dots c_5$ se zvětší o 5.	pouze c_0 se zvětší o 5.

Příklad 7 Jaký je modul spektrální funkce posunutého Diracova impulsu $x(t) = \delta(t - 5)$?

A	B	C	D
$ X(j\omega) = 0$	$ X(j\omega) = 1$	$ X(j\omega) = e^{-j5\omega}$	$ X(j\omega) = -5j\omega$

Příklad 8 Systém se spojitým časem je odporový dělič s hodnotami rezistorů $R_1 = 12 \text{ k}\Omega$, $R_2 = 12 \text{ k}\Omega$.



Jaká je komplexní kmitočtová charakteristika tohoto systému ?

A	B	C	D
$H(j\omega) = \frac{1}{2}e^{-j\omega}$	$H(j\omega) = \frac{1}{2}e^{+j\omega}$	$H(j\omega) = \frac{1}{2}$	$H(j\omega) = j\frac{1}{2}$

Příklad 9 Máme za úkol navrhnout vzorkovač pro zachycení kmitů zemské kůry, které mají maximální frekvenci $f_{max} = 16 \text{ Hz}$. Jaká bude maximální vzorkovací perioda T_{max} ?

A	B	C	D
$T_{max} = \frac{1}{8} \text{ s}$	$T_{max} = \frac{1}{16} \text{ s}$	$T_{max} = \frac{1}{32} \text{ s}$	je třeba určit minimální vzorkovací periodu T_{min}

Příklad 10 Frekvenční analýza signálu pomocí FFT vrátila vektor 512 koeficientů (číslované od nuly). 61. koeficient má maximální hodnotu. Na jaké frekvenci v Hz toto maximum leží, je-li vzorkovací frekvence 48 kHz ?

A	B	C	D
5.71 kHz	6.16 kHz	11.02 kHz	61 kHz

Příklad 11 Obrazem konvoluce dvou signálů se spojitým časem $x(t) \star y(t)$ ve spektrální oblasti je:

A součet spektrálních funkcí $X(j\omega) + Y(j\omega)$	B součin spektrálních funkcí $X(j\omega)Y(j\omega)$	C konvoluce spektrálních funkcí $X(j\omega) \star Y(j\omega)$	D nula
--	---	---	-----------

Příklad 12 Výsledkem periodické konvoluce dvou posloupností $x_1[n] = [3 \ 5 \ 2]$, $x_2[n] = [3 \ -1 \ 1]$ je posloupnost

A $y[n] = [\dots \ 14 \ 4 \ 12 \ 14 \ 4 \ 12 \ 14 \ \dots]$	B $y[n] = [\dots \ 0 \ 0 \ 12 \ 14 \ 4 \ 0 \ 0 \ \dots]$
C $y[n] = [\dots \ 16 \ 20 \ 14 \ 16 \ 20 \ 14 \ 16 \ \dots]$	D $y[n] = [\dots \ 0 \ 0 \ 16 \ 20 \ 14 \ 0 \ 0 \ \dots]$

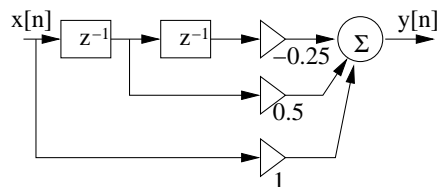
Příklad 13 Diskrétní signál o délce $N = 16$ má pro $n = 0 \dots 15$ pouze dva nenulové vzorky: $x[0] = 1$, $x[2] = -1$. Určete koeficient $X[5]$ jeho diskrétní Fourierovy transformace.

A $0.6173 - j0.9239$	B $1 - j$	C $1.3827 - j 0.9239$	D $1.7071 - j0.7071$
-------------------------	--------------	--------------------------	-------------------------

Příklad 14 Jsou vypočítány koeficienty diskrétní Fourierovy řady harmonického diskrétního signálu s periodou $N_1 = 16$. Koeficient $\tilde{X}[1] = 5$. Jaká je hodnota koeficientu $\tilde{X}[7]$?

A nedá se určit	B $\tilde{X}[7] = 0$	C $\tilde{X}[7] = 5$	D $\tilde{X}[7] = -5$
--------------------	-------------------------	-------------------------	--------------------------

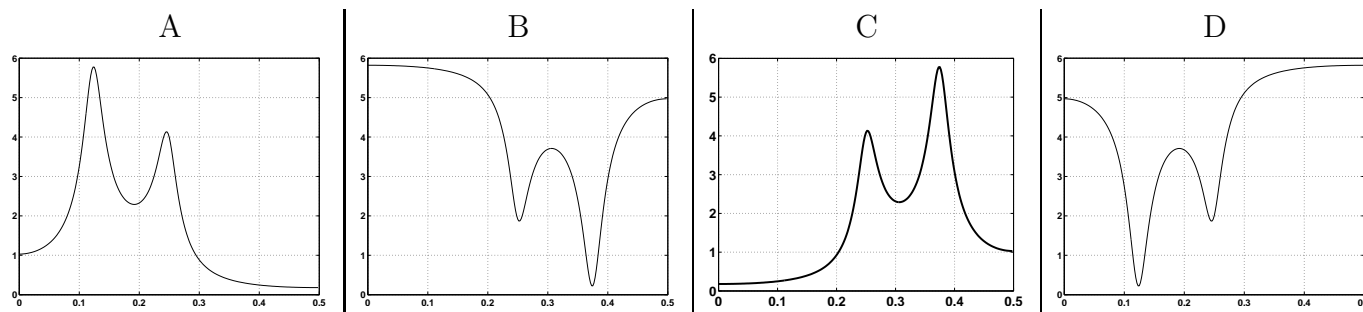
Příklad 15 Na vstupu číslicového filtru na obrázku je (pro časy $n = 0 \dots 5$) signál: $x[n] = [1 \ 1 \ 0 \ 0 \ 0]$.



Na výstupu filtru bude pro tyto časy $y[n] =$

A $[1 \ 0.50 \ -0.75 \ -0.25 \ 0]$	B $[1 \ 0.50 \ -0.25 \ 0.25 \ 0]$	C $[1 \ 1.50 \ 0.75 \ 0.25 \ 0]$	D $[1 \ 1.50 \ 0.25 \ -0.25 \ 0]$
---------------------------------------	--------------------------------------	-------------------------------------	--------------------------------------

Příklad 16 Diskrétní systém je popsán dvěma dvojicemi pólů: $p_{1,2} = 0.9e^{\pm j\frac{3\pi}{4}}$, $p_{3,4} = 0.9e^{\pm j\frac{\pi}{2}}$. Určete, na kterém obrázku je modul jeho kmitočtové charakteristiky (frekvence jsou zobrazeny jako normované od nuly do poloviny vzorkovací frekvence).



Příklad 17 Funkce hustoty rozdělení pravděpodobnosti náhodného procesu má tvar obdélníka: $p(x) = \begin{cases} r & \text{pro } -3 \leq x \leq 3 \\ 0 & \text{jinde} \end{cases}$

Určete hodnotu r .

$$A \quad \left| \quad B \quad \right| \quad C \quad \left| \quad D \right.$$

$$r = 0 \quad \left| \quad r = \frac{1}{6} \quad \right| \quad r = \frac{1}{3} \quad \left| \quad r = 1 \right.$$

Příklad 18 Náhodný signál má hodnoty rovnoměrně rozdělené od -1 do 1 a jeho vzorky nejsou korelovány (dva vzorky vedle sebe jsou tedy naprosto nezávislé). Náhodný signál je na vstupu FIR filtru s impulsní odezvou (pro $n = [0 \ 1]$): $h[n] = [1 \ 0.6]$. Jakých hodnot může nabývat signál na výstupu?

$$A \quad \left| \quad B \quad \right| \quad C \quad \left| \quad D \right.$$

$$[0, +3.2] \quad \left| \quad [-0.4, +0.4] \quad \right| \quad [-1.6, +1.6] \quad \left| \quad [-3.2, +3.2] \right.$$

Příklad 19 Hodnota spektrální hustoty výkonu náhodného signálu $x[n]$ na normované kruhové frekvenci 0.1π je $G_x(e^{j0.1\pi}) = 7$. Signál prochází filtrem, který má na této normované kruhové frekvenci hodnotu komplexní kmitočtové charakteristiky $H(e^{j0.1\pi}) = 16e^{-j0.72}$. Určete hodnotu spektrální hustoty výkonu náhodného signálu $y[n]$ na normované kruhové frekvenci 0.1π na výstupu tohoto filtru: $G_y(e^{j0.1\pi})$

$$A \quad \left| \quad B \quad \right| \quad C \quad \left| \quad D \right.$$

$$84.2-73.8j \quad \left| \quad 5.2 - 4.6j \quad \right| \quad 112 \quad \left| \quad 1792 \right.$$

Příklad 20 Střední výkon bílého šumu se střední hodnotou 0 a směrodatnou odchylkou 1 je $P_s = 1$. Jakou hodnotou musíme tento šum násobit, abychom dostali střední výkon $P_s = 62$?

$$A \quad \left| \quad B \quad \right| \quad C \quad \left| \quad D \right.$$

$$1 \quad \left| \quad 62 \quad \right| \quad \sqrt{62} \quad \left| \quad \text{středního výkonu } P_s = 62 \text{ se nedá dosáhnout} \right.$$