

Semestrální zkouška ISS, řádný termín, 2.1.2020, skupina C

Login: Příjmení a jméno: Podpis:
(prosím čitelně!)

Příklad 1 Signál se spojitým časem je dán jako: $x(t) = \begin{cases} 1-t & \text{pro } 0 \leq t \leq 1 \\ 0 & \text{jinde} \end{cases}$
Nakreslete tento signál a do stejného obrázku nakreslete signál $y(t) = x(t-1)$.

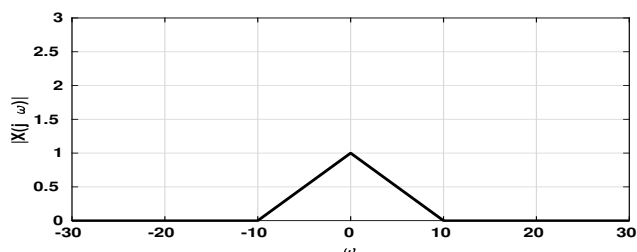
Příklad 2 Periodický signál se spojitým časem je dán jako: $x(t) = 1.5 + 16 \cos(200\pi t + 0.3\pi)$.
Určete hodnotu nultého koeficientu jeho Fourierovy řady (FR).

$c_0 = \dots\dots\dots$

Příklad 3 Ukažte na zvoleném periodickém **komplexním** signálu se spojitým časem $x(t)$, že pro jeho koeficienty Fourierovy řady (FR) **neplatí** symetrie platná pro reálné signály: $c_k = c_{-k}^*$

Příklad 4 Nakreslete průběh modulu a argumentu spektrální funkce $X(j\omega)$ pro signál: $x(t) = 12\delta(t+1)$, kde $\delta(t)$ je Diracův impuls.

Příklad 5 Na obrázku je modul spektrální funkce $|X(j\omega)|$ signálu $x(t)$. Nakreslete do stejného obrázku modul spektrální funkce $|Y(j\omega)|$ zpomaleného signálu $y(t) = x(\frac{t}{2})$



Příklad 6 Přenosová funkce $H(s)$ systému se spojitým časem nemá žádné nulové body a má dva póly:

$$p_1 = -1 + j2500, p_2 = -1 - j2500$$

Nakreslete přibližně průběh modulu frekvenční charakteristiky tohoto systému $|H(j\omega)|$ pro kruhové frekvence ω od 0 do 4000 rad/s a napište, na které kruhové frekvenci má maximum.

Příklad 7 Přenosová funkce $H(s)$ systému se spojitým časem je dána takto: $H(s) = \frac{s+1}{s^2+2s+1}$

Určete, zda je systém stabilní.

Příklad 8 Nakreslete průběh modulu frekvenční charakteristiky anti-aliasingového filtru $|H_{aa}(j\omega)|$ pro vzorkování na vzorkovací frekvenci $F_s = 1$ MHz

Frekvenční osu můžete kreslit v radiánech za sekundu nebo v Hertzích, jasně označte, kterou jste použili.

Příklad 9 Dokažte libovolným způsobem, že spektrální funkce $\tilde{X}(e^{j\omega})$ (ω je normovaná kruhová frekvence) signálu s diskretním časem $x[n]$ je **periodická**.

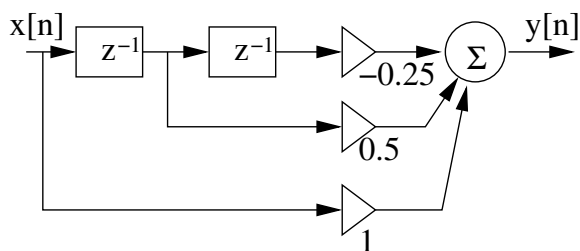
Příklad 10 Signál s diskretním časem je dán takto: $x[n] = \begin{cases} 1 & \text{pro } n = 1 \\ 0 & \text{jinde} \end{cases}$. Vypočítejte a nakreslete

průběh modulu i argumentu jeho spektrální funkce $\tilde{X}(e^{j\omega})$ pro normované kruhové frekvence ω od $-\pi$ rad do $+\pi$ rad. Pomůcka: k výpočtu použijte Fourierovu transformaci s diskretním časem (DTFT).

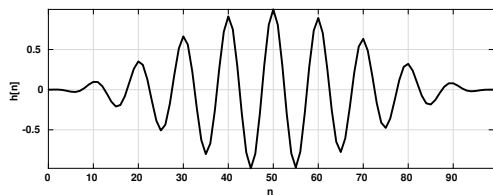
Příklad 11 Signál s diskretním časem o délce $N = 4$ je pro $n = [0 \ 1 \ 2 \ 3]$ dán takto: $x[n] = [0 \ 1 \ 0 \ 0]$. Vypočítejte všechny koeficienty jako diskretní Fourierovy transformace (DFT): $X[k]$. Pomůcka: můžete provést kontrolu: hodnoty koeficientů $X[k]$ vzorkují průběh DTFT (předcházející příklad) na normovaných kruhových frekvencích $k\frac{2\pi}{N}$.

$X[0] = \dots\dots\dots X[1] = \dots\dots\dots X[2] = \dots\dots\dots X[3] = \dots\dots\dots$

Příklad 12 Určete, zda je číslicový filtr se schématem na obrázku stabilní. Svě tvrzení krátce zdůvodněte.



Příklad 13 Impulsní odezva číslicového filtru má délku $N = 100$ vzorků a je na obrázku. Byla vygenerována jako $h[n] = w[n] \cos(\frac{2\pi}{10}n)$, kde $w[n]$ je okno tlumící na okrajích. Nakreslete přibližně průběh modulu frekvenční charakteristiky tohoto systému $|H(e^{j\omega})|$ pro normované kruhové frekvence ω od 0 do π rad a napište, na které frekvenci má maximum.



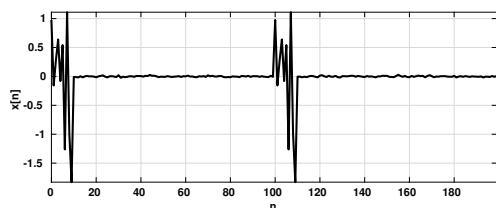
Příklad 14 Přenosová funkce $H(z)$ číslicového filtru má dva nulové body: $n_1 = n_2 = 0$ a dva póly: $p_1 = 0.99e^{j\frac{\pi}{4}}$, $p_2 = 0.99e^{-j\frac{\pi}{4}}$. Určete modul a argument jeho frekvenční charakteristiky pro normovanou kruhovou frekvenci $\omega = \frac{\pi}{4}$. Pomůcka: $\sqrt{2} = 1.4$, $\frac{1}{\sqrt{2}} = 0.7$.

$|H(e^{j\frac{\pi}{4}})| = \dots\dots\dots$, $\arg H(e^{j\frac{\pi}{4}}) = \dots\dots\dots$

Příklad 15 Stacionární náhodný signál “Sportka” $\xi[n]$ nabývá diskretních hodnot $X_1 = 1$ až $X_{49} = 49$, které jsou stejně pravděpodobné. Nakreslete distribuční funkci $F(x)$ tohoto náhodného signálu.

Příklad 16 Stacionární náhodný signál $\xi[n]$ má spojité hodnoty v intervalu od -50 do $+50$. Vzorek $\xi[n]$ se od předcházejícího $\xi[n-1]$ liší maximálně o 3, tedy $|\xi[n] - \xi[n-1]| < 3$. Nakreslete, jak bude přibližně vypadat sdružená funkce hustoty rozdělení pravděpodobnosti $p(x_1, x_2, k)$ náhodného signálu pro sousední vzorky (tedy $k = 1$) a krátce zdůvodněte. Pomůcka: funkce bude 2D, doporučuji osu x_1 vodorovně, x_2 svisle a jako hodnoty stupně šedi (příp. stupně barvy Vaší tužky).

Příklad 17 Na obrázku je průběh náhodného signálu $x[n]$. Nakreslete přibližně průběh jeho korelačních koeficientů $R[k]$ pro k od -150 do $+150$. Použijte vychýlený odhad. Na absolutní velikosti koeficientů nezáleží.



Příklad 18 Odvoďte vztah pro poměr signálu k šumu způsobenému kvantováním pro náhodný vstupní signál, jehož funkce hustoty rozdělení pravděpodobnosti je konstantní od hodnoty $-A$ do A , nulová jinde. Máme k dispozici b bitů, tedy $L = 2^b$ kvantovacích hladin. Ty jsou rozmístěny od $-A$ do A ; na nejbližší kvantovací hladinu zaokrouhlujeme. Pomůcka: postup jsme viděli na přednášce, jediným rozdílem je, že na vstupu není cosinusovka, ale náhodný signál.

Příklad 19 Nakreslete obrázek o rozměrech $K = 100$ řádků a $L = 100$ sloupců s pixely danými vztahem: $x[k, l] = \frac{1}{2} + \frac{1}{2} \cos(2\pi \frac{2}{100} k)$, kde k je svislé počítadlo řádků a l je vodorovné počítadlo sloupců. Bílá (papír) je nula, černá (nebo barva Vaší tužky) je 1.

Příklad 20 Na prvním obrázku je vstupní obrázek $x[k, l]$, na druhém jeho vyfiltrovaná verze. Bílá (papír) je nula, černá je 1. Jednalo se o filtraci pomocí masky (konvolučního jádra, matice) $h[k, l]$ o rozměrech 3×3 . Napište hodnoty $h[k, l]$ pro tuto filtraci.

