

# TIN: 3. demonstrační cvičení

## $\mathcal{L}_2$ jazyky a rozhodnutelnost

Tomáš Kocourek

Brno University of Technology, Faculty of Information Technology  
Božetěchova 1/2, 612 00 Brno – Královo Pole  
xkocou10@fit.vutbr.cz



October 18, 2024

# Bezkontextové jazyky

Konstrukce RZA nad abecedou  $\Sigma = \{a, b, c\}$

Sestrojte RZA přijímající jazyk  $\{a^n b^n c^n \mid n \geq 1\}$

Konstrukce RZA nad abecedou  $\Sigma = \{a, b, c\}$

Sestrojte RZA přijímající jazyk  $\{a^n b^n c^n \mid n \geq 1\}$

ZA

- $\delta : Q \times (\Sigma \cup \{\epsilon\}) \times \Gamma \rightarrow 2^{Q \times \Gamma^*}$

Konstrukce RZA nad abecedou  $\Sigma = \{a, b, c\}$

Sestrojte RZA přijímající jazyk  $\{a^n b^n c^n \mid n \geq 1\}$

ZA

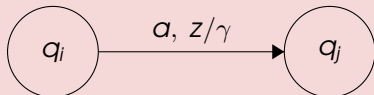
- $\delta : Q \times (\Sigma \cup \{\epsilon\}) \times \Gamma \rightarrow 2^{Q \times \Gamma^*}$
- Odstraňujeme právě jeden symbol z vrcholu zásobníku

Konstrukce RZA nad abecedou  $\Sigma = \{a, b, c\}$

Sestrojte RZA přijímající jazyk  $\{a^n b^n c^n \mid n \geq 1\}$

ZA

- $\delta : Q \times (\Sigma \cup \{\epsilon\}) \times \Gamma \rightarrow 2^{Q \times \Gamma^*}$
- Odstraňujeme právě jeden symbol z vrcholu zásobníku

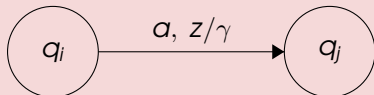


Konstrukce RZA nad abecedou  $\Sigma = \{a, b, c\}$

Sestrojte RZA přijímající jazyk  $\overline{\{a^n b^n c^n \mid n \geq 1\}}$

ZA

- $\delta : Q \times (\Sigma \cup \{\epsilon\}) \times \Gamma \rightarrow 2^{Q \times \Gamma^*}$
- Odstraňujeme právě jeden symbol z vrcholu zásobníku



RZA

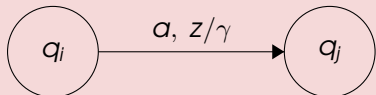
- $\delta : Q \times (\Sigma \cup \{\epsilon\}) \times \Gamma^* \rightarrow 2^{Q \times \Gamma^*}$

Konstrukce RZA nad abecedou  $\Sigma = \{a, b, c\}$

Sestrojte RZA přijímající jazyk  $\overline{\{a^n b^n c^n \mid n \geq 1\}}$

ZA

- $\delta : Q \times (\Sigma \cup \{\epsilon\}) \times \Gamma \rightarrow 2^{Q \times \Gamma^*}$
- Odstraňujeme právě jeden symbol z vrcholu zásobníku



RZA

- $\delta : Q \times (\Sigma \cup \{\epsilon\}) \times \Gamma^* \rightarrow 2^{Q \times \Gamma^*}$
- Odstraňujeme libovolný počet symbolů z vrcholu zásobníku

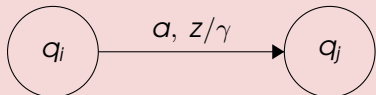


Konstrukce RZA nad abecedou  $\Sigma = \{a, b, c\}$

Sestrojte RZA přijímající jazyk  $\overline{\{a^n b^n c^n \mid n \geq 1\}}$

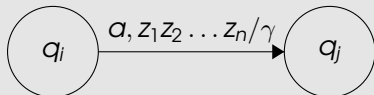
ZA

- $\delta : Q \times (\Sigma \cup \{\epsilon\}) \times \Gamma \rightarrow 2^{Q \times \Gamma^*}$
- Odstraňujeme právě jeden symbol z vrcholu zásobníku



RZA

- $\delta : Q \times (\Sigma \cup \{\epsilon\}) \times \Gamma^* \rightarrow 2^{Q \times \Gamma^*}$
- Odstraňujeme libovolný počet symbolů z vrcholu zásobníku



Konstrukce RZA nad abecedou  $\Sigma = \{a, b, c\}$

Sestrojte RZA přijímající jazyk  $\overline{\{a^n b^n c^n \mid n \geq 1\}}$

- Pracujeme s abecedou  $\Sigma = \{a, b, c\}$
- $\overline{\{a^n b^n c^n \mid n \geq 1\}} =$

Konstrukce RZA nad abecedou  $\Sigma = \{a, b, c\}$

Sestrojte RZA přijímající jazyk  $\overline{\{a^n b^n c^n \mid n \geq 1\}}$

- Pracujeme s abecedou  $\Sigma = \{a, b, c\}$
- $\overline{\{a^n b^n c^n \mid n \geq 1\}} =$ 
  - 1  $\{xyz \in \{a, b, c\}^* \mid y \in \{ac, ba, ca, cb\}\} \cup$

Konstrukce RZA nad abecedou  $\Sigma = \{a, b, c\}$

Sestrojte RZA přijímající jazyk  $\overline{\{a^n b^n c^n \mid n \geq 1\}}$

- Pracujeme s abecedou  $\Sigma = \{a, b, c\}$
- $\overline{\{a^n b^n c^n \mid n \geq 1\}} =$ 
  - 1  $\{xyz \in \{a, b, c\}^* \mid y \in \{ac, ba, ca, cb\}\} \cup$
  - 2  $\{w \in \{a, b, c\}^* \mid \#_a(w) \neq \#_b(w)\} \cup$

Konstrukce RZA nad abecedou  $\Sigma = \{a, b, c\}$

Sestrojte RZA přijímající jazyk  $\overline{\{a^n b^n c^n \mid n \geq 1\}}$

- Pracujeme s abecedou  $\Sigma = \{a, b, c\}$
- $\overline{\{a^n b^n c^n \mid n \geq 1\}} =$ 
  - 1  $\{xyz \in \{a, b, c\}^* \mid y \in \{ac, ba, ca, cb\}\} \cup$
  - 2  $\{w \in \{a, b, c\}^* \mid \#_a(w) \neq \#_b(w)\} \cup$
  - 3  $\{w \in \{a, b, c\}^* \mid \#_a(w) \neq \#_c(w)\} \cup$

Konstrukce RZA nad abecedou  $\Sigma = \{a, b, c\}$

Sestrojte RZA přijímající jazyk  $\overline{\{a^n b^n c^n \mid n \geq 1\}}$

- Pracujeme s abecedou  $\Sigma = \{a, b, c\}$
- $\overline{\{a^n b^n c^n \mid n \geq 1\}} =$ 
  - 1  $\{xyz \in \{a, b, c\}^* \mid y \in \{ac, ba, ca, cb\}\} \cup$
  - 2  $\{w \in \{a, b, c\}^* \mid \#_a(w) \neq \#_b(w)\} \cup$
  - 3  $\{w \in \{a, b, c\}^* \mid \#_a(w) \neq \#_c(w)\} \cup$
  - 4  $\{w \in \{a, b, c\}^* \mid \#_b(w) \neq \#_c(w)\} \cup$

Konstrukce RZA nad abecedou  $\Sigma = \{a, b, c\}$

Sestrojte RZA přijímající jazyk  $\overline{\{a^n b^n c^n \mid n \geq 1\}}$

- Pracujeme s abecedou  $\Sigma = \{a, b, c\}$
- $\overline{\{a^n b^n c^n \mid n \geq 1\}} =$ 
  - 1  $\{xyz \in \{a, b, c\}^* \mid y \in \{ac, ba, ca, cb\}\} \cup$
  - 2  $\{w \in \{a, b, c\}^* \mid \#_a(w) \neq \#_b(w)\} \cup$
  - 3  $\{w \in \{a, b, c\}^* \mid \#_a(w) \neq \#_c(w)\} \cup$
  - 4  $\{w \in \{a, b, c\}^* \mid \#_b(w) \neq \#_c(w)\} \cup$
  - 5  $\{\epsilon\}$

Konstrukce RZA nad abecedou  $\Sigma = \{a, b, c\}$

Sestrojte RZA přijímající jazyk  $\{a^n b^n c^n \mid n \geq 1\}$



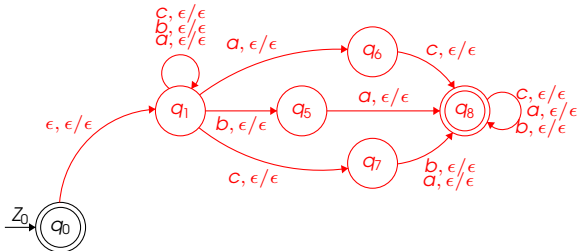
Konstrukce RZA nad abecedou  $\Sigma = \{a, b, c\}$

Sestrojte RZA přijímající jazyk  $\{a^n b^n c^n \mid n \geq 1\}$



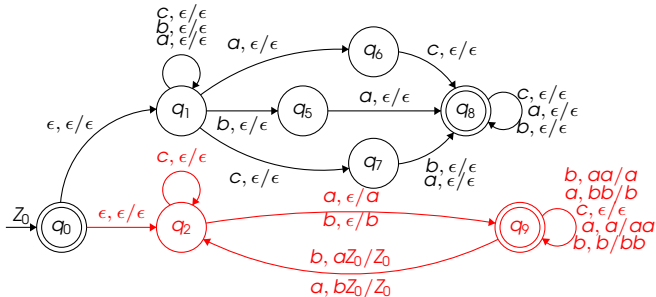
Konstrukce RZA nad abecedou  $\Sigma = \{a, b, c\}$

Sestrojte RZA přijímající jazyk  $\{a^n b^n c^n \mid n \geq 1\}$



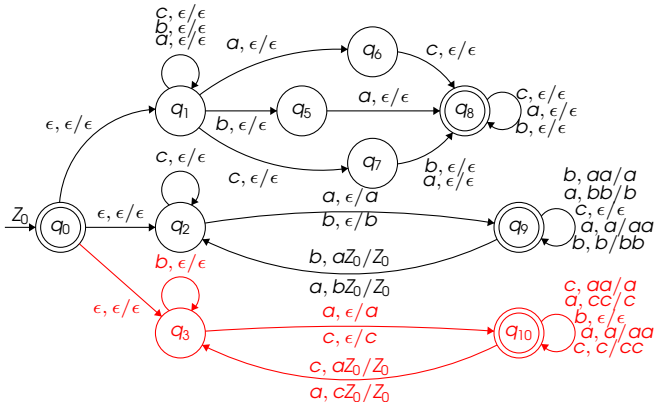
Konstrukce RZA nad abecedou  $\Sigma = \{a, b, c\}$

Sestrojte RZA přijímající jazyk  $\{a^n b^n c^n \mid n \geq 1\}$



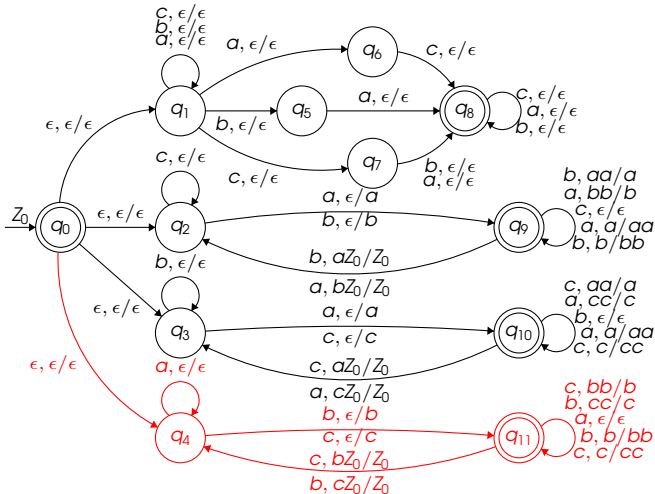
Konstrukce RZA nad abecedou  $\Sigma = \{a, b, c\}$

Sestrojte RZA přijímající jazyk  $\{a^n b^n c^n \mid n \geq 1\}$



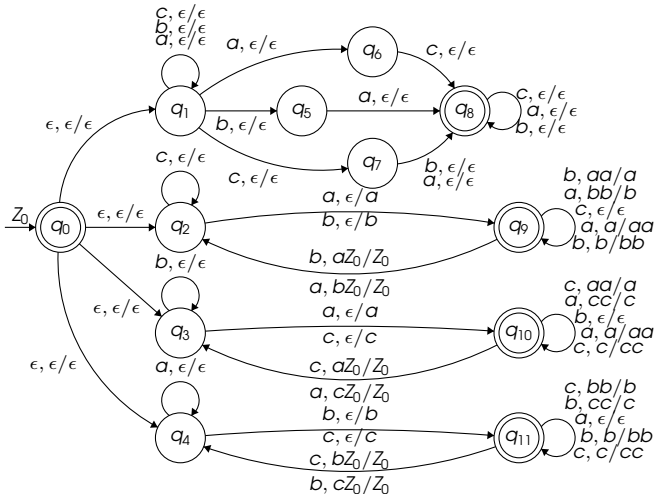
Konstrukce RZA nad abecedou  $\Sigma = \{a, b, c\}$

Sestrojte RZA přijímající jazyk  $\{a^n b^n c^n \mid n \geq 1\}$



Konstrukce RZA nad abecedou  $\Sigma = \{a, b, c\}$

Sestrojte RZA přijímající jazyk  $\{a^n b^n c^n \mid n \geq 1\}$



Konstrukce RZA nad abecedou  $\Sigma = \{a, b, c\}$

Sestrojte RZA přijímající jazyk  $\{a^n b^n c^n \mid n \geq 1\}$

- Jazyk  $L = \{a^n b^n c^n \mid n \geq 1\}$  lze přijímat RZA

Konstrukce RZA nad abecedou  $\Sigma = \{a, b, c\}$

Sestrojte RZA přijímající jazyk  $\{a^n b^n c^n \mid n \geq 1\}$

- Jazyk  $L = \{a^n b^n c^n \mid n \geq 1\}$  lze přijímat RZA
- Důsledky:



Konstrukce RZA nad abecedou  $\Sigma = \{a, b, c\}$

Sestrojte RZA přijímající jazyk  $\{a^n b^n c^n \mid n \geq 1\}$

- Jazyk  $L = \{a^n b^n c^n \mid n \geq 1\}$  lze přijímat RZA
- Důsledky:
  - 1  $L$  lze přijímat i obyčejným ZA

Konstrukce RZA nad abecedou  $\Sigma = \{a, b, c\}$

Sestrojte RZA přijímající jazyk  $\{a^n b^n c^n \mid n \geq 1\}$

- Jazyk  $L = \{a^n b^n c^n \mid n \geq 1\}$  lze přijímat RZA
- Důsledky:
  - 1  $L$  lze přijímat i obyčejným ZA
  - 2  $L \in \mathcal{L}_2$

Konstrukce RZA nad abecedou  $\Sigma = \{a, b, c\}$

Sestrojte RZA přijímající jazyk  $\overline{\{a^n b^n c^n \mid n \geq 1\}}$

- Jazyk  $L = co - \{a^n b^n c^n \mid n \geq 1\}$  lze přijímat RZA
- Důsledky:
  - 1  $L$  lze přijímat i obyčejným ZA
  - 2  $L \in \mathcal{L}_2$
  - 3 třída  $\mathcal{L}_2$  není uzavřena na doplněk
    - to plyne z faktu, že  $co - L \notin \mathcal{L}_2$

Konstrukce RZA nad abecedou  $\Sigma = \{a, b, c\}$

Sestrojte RZA přijímající jazyk  $\overline{\{a^n b^n c^n \mid n \geq 1\}}$

- Jazyk  $L = co - \{a^n b^n c^n \mid n \geq 1\}$  lze přijímat RZA
- Důsledky:
  - 1  $L$  lze přijímat i obyčejným ZA
  - 2  $L \in \mathcal{L}_2$
  - 3 třída  $\mathcal{L}_2$  není uzavřena na doplněk
    - to plyne z faktu, že  $co - L \notin \mathcal{L}_2$
  - 4  $\mathcal{L}_{DZA} \subset \mathcal{L}_2$ 
    - to plyne z výše uvedeného a z uzavřenosti  $\mathcal{L}_{DZA}$  na doplněk

Konstrukce RZA nad abecedou  $\Sigma = \{a, b, c\}$ Sestrojte RZA přijímající jazyk  $\overline{\{a^n b^n c^n \mid n \geq 1\}}$ 

- Jazyk  $L = co - \{a^n b^n c^n \mid n \geq 1\}$  lze přijímat RZA
- Důsledky:
  - 1  $L$  lze přijímat i obyčejným ZA
  - 2  $L \in \mathcal{L}_2$
  - 3 třída  $\mathcal{L}_2$  není uzavřena na doplněk
    - to plyne z faktu, že  $co - L \notin \mathcal{L}_2$
  - 4  $\mathcal{L}_{DZA} \subset \mathcal{L}_2$ 
    - to plyne z výše uvedeného a z uzavřenosti  $\mathcal{L}_{DZA}$  na doplněk
  - 5 třída  $\mathcal{L}_{DZA}$  není uzavřena na sjednocení

## Algoritmy nad zásobníkovými automaty

Formálně zapište algoritmus pro sestavení průniku **ZA** a **KA**

## Algoritmy nad zásobníkovými automaty

Formálně запиšte algoritmus pro sestrojení průniku ZA a KA

## Průnik KA

- třída  $\mathcal{L}_3$  je uzavřena na průnik
- $L_1 \cap L_2 = \overline{\overline{L_1} \cup \overline{L_2}}$

## Algoritmy nad zásobníkovými automaty

Formálně zapište algoritmus pro sestrojení průniku ZA a KA

## Průnik KA

- třída  $\mathcal{L}_3$  je uzavřena na průnik
- $L_1 \cap L_2 = \overline{\overline{L_1} \cup \overline{L_2}}$



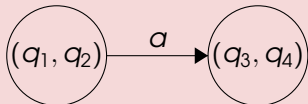


## Algoritmy nad zásobníkovými automaty

Formálně запиšte algoritmus pro sestrojení průniku ZA a KA

## Průnik KA

- třída  $\mathcal{L}_3$  je uzavřena na průnik
- $L_1 \cap L_2 = \overline{\overline{L_1} \cup \overline{L_2}}$

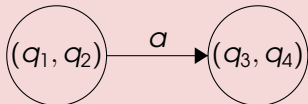


## Algoritmy nad zásobníkovými automaty

Formálně запиšte algoritmus pro sestrojení průniku ZA a KA

## Průnik KA

- třída  $\mathcal{L}_3$  je uzavřena na průnik
- $L_1 \cap L_2 = \overline{\overline{L_1} \cup \overline{L_2}}$



## Průnik ZA

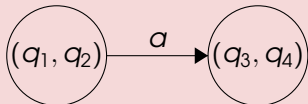
- třída  $\mathcal{L}_2$  není uzavřena na průnik

## Algoritmy nad zásobníkovými automaty

Formálně запиšte algoritmus pro sestrojení průniku ZA a KA

## Průnik KA

- třída  $\mathcal{L}_3$  je uzavřena na průnik
- $L_1 \cap L_2 = \overline{\overline{L_1} \cup \overline{L_2}}$



## Průnik ZA

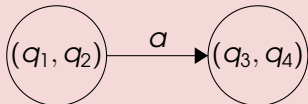
- třída  $\mathcal{L}_2$  není uzavřena na průnik
- $L_1 = \{a^n b^n c^m \mid m, n \geq 0\}$

## Algoritmy nad zásobníkovými automaty

Formálně запиšte algoritmus pro sestrojení průniku ZA a KA

## Průnik KA

- třída  $\mathcal{L}_3$  je uzavřena na průnik
- $L_1 \cap L_2 = \overline{\overline{L_1} \cup \overline{L_2}}$



## Průnik ZA

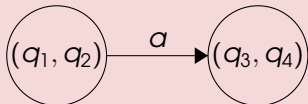
- třída  $\mathcal{L}_2$  není uzavřena na průnik
- $L_1 = \{a^n b^n c^m \mid m, n \geq 0\}$
- $L_2 = \{a^m b^n c^n \mid m, n \geq 0\}$

## Algoritmy nad zásobníkovými automaty

Formálně запиšte algoritmus pro sestrojení průniku ZA a KA

## Průnik KA

- třída  $\mathcal{L}_3$  je uzavřena na průnik
- $L_1 \cap L_2 = \overline{\overline{L_1} \cup \overline{L_2}}$



## Průnik ZA

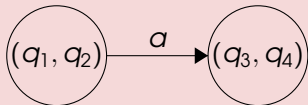
- třída  $\mathcal{L}_2$  není uzavřena na průnik
- $L_1 = \{a^n b^n c^m \mid m, n \geq 0\}$
- $L_2 = \{a^m b^n c^n \mid m, n \geq 0\}$
- $L_3 = L_1 \cap L_2$

## Algoritmy nad zásobníkovými automaty

Formálně запиšte algoritmus pro sestrojení průniku ZA a KA

## Průnik KA

- třída  $\mathcal{L}_3$  je uzavřena na průnik
- $L_1 \cap L_2 = \overline{\overline{L_1} \cup \overline{L_2}}$



## Průnik ZA

- třída  $\mathcal{L}_2$  není uzavřena na průnik
- $L_1 = \{a^n b^n c^m \mid m, n \geq 0\}$
- $L_2 = \{a^m b^n c^n \mid m, n \geq 0\}$
- $L_3 = L_1 \cap L_2$
- $L_3 = \{a^n b^n c^n \mid n \geq 0\} \notin \mathcal{L}_2$

## Algoritmy nad zásobníkovými automaty

Formálně zapište algoritmus pro sestavení průniku **ZA** a **KA**

- Vstup:

## Algoritmy nad zásobníkovými automaty

## Formálně запиšte algoritmus pro sestavení průniku ZA a KA

- Vstup:

① ZA  $A_1 = (Q_1, \Sigma_1, \Gamma_1, \delta_1, q_0^1, Z_0^1, F_1)$



## Algoritmy nad zásobníkovými automaty

## Formálně запиšte algoritmus pro sestrojení průniku ZA a KA

## • Vstup:

$$① \text{ ZA } A_1 = (Q_1, \Sigma_1, \Gamma_1, \delta_1, q_0^1, Z_0^1, F_1)$$

$$② \text{ KA } A_2 = (Q_2, \Sigma_2, \delta_2, q_0^2, F_2)$$

## Algoritmy nad zásobníkovými automaty

## Formálně zapište algoritmus pro sestavení průniku ZA a KA

## • Vstup:

$$① \text{ ZA } A_1 = (Q_1, \Sigma_1, \Gamma_1, \delta_1, q_0^1, Z_0^1, F_1)$$

$$② \text{ KA } A_2 = (Q_2, \Sigma_2, \delta_2, q_0^2, F_2)$$

## • Výstup:

## Algoritmy nad zásobníkovými automaty

## Formálně запиšte algoritmus pro sestrojení průniku ZA a KA

## • Vstup:

$$\textcircled{1} \text{ ZA } A_1 = (Q_1, \Sigma_1, \Gamma_1, \delta_1, q_0^1, Z_0^1, F_1)$$

$$\textcircled{2} \text{ KA } A_2 = (Q_2, \Sigma_2, \delta_2, q_0^2, F_2)$$

## • Výstup:

$$\bullet \text{ ZA } A = (Q, \Sigma, \Gamma, \delta, q_0, Z_0, F), \text{ kde } L(A) = L(A_1) \cap L(A_2)$$

## Algoritmy nad zásobníkovými automaty

## Formálně запиšte algoritmus pro sestrojení průniku ZA a KA

## • Vstup:

$$① \text{ ZA } A_1 = (Q_1, \Sigma_1, \Gamma_1, \delta_1, q_0^1, Z_0^1, F_1)$$

$$② \text{ KA } A_2 = (Q_2, \Sigma_2, \delta_2, q_0^2, F_2)$$

## • Výstup:

- ZA  $A = (Q, \Sigma, \Gamma, \delta, q_0, Z_0, F)$ , kde  $L(A) = L(A_1) \cap L(A_2)$

## • Algoritmus:

## Algoritmy nad zásobníkovými automaty

## Formálně запиšte algoritmus pro sestrojení průniku ZA a KA

## • Vstup:

$$\textcircled{1} \text{ ZA } A_1 = (Q_1, \Sigma_1, \Gamma_1, \delta_1, q_0^1, Z_0^1, F_1)$$

$$\textcircled{2} \text{ KA } A_2 = (Q_2, \Sigma_2, \delta_2, q_0^2, F_2)$$

## • Výstup:

$$\bullet \text{ ZA } A = (Q, \Sigma, \Gamma, \delta, q_0, Z_0, F), \text{ kde } L(A) = L(A_1) \cap L(A_2)$$

## • Algoritmus:

$$\textcircled{1} Q = Q_1 \times Q_2$$

## Algoritmy nad zásobníkovými automaty

## Formálně запиšte algoritmus pro sestrojení průniku ZA a KA

## • Vstup:

$$① \text{ ZA } A_1 = (Q_1, \Sigma_1, \Gamma_1, \delta_1, q_0^1, Z_0^1, F_1)$$

$$② \text{ KA } A_2 = (Q_2, \Sigma_2, \delta_2, q_0^2, F_2)$$

## • Výstup:

- ZA  $A = (Q, \Sigma, \Gamma, \delta, q_0, Z_0, F)$ , kde  $L(A) = L(A_1) \cap L(A_2)$

## • Algoritmus:

$$① Q = Q_1 \times Q_2$$

$$② \Sigma = \Sigma_1 \cup \Sigma_2$$

- nebo  $\Sigma = \Sigma_1 \cap \Sigma_2$  a zvlášť ošetřit případ, kdy  $\Sigma_1 \cap \Sigma_2 = \emptyset$

## Algoritmy nad zásobníkovými automaty

## Formálně запиšte algoritmus pro sestrojení průniku ZA a KA

## • Vstup:

$$① \text{ ZA } A_1 = (Q_1, \Sigma_1, \Gamma_1, \delta_1, q_0^1, Z_0^1, F_1)$$

$$② \text{ KA } A_2 = (Q_2, \Sigma_2, \delta_2, q_0^2, F_2)$$

## • Výstup:

$$\bullet \text{ ZA } A = (Q, \Sigma, \Gamma, \delta, q_0, Z_0, F), \text{ kde } L(A) = L(A_1) \cap L(A_2)$$

## • Algoritmus:

$$① Q = Q_1 \times Q_2$$

$$② \Sigma = \Sigma_1 \cup \Sigma_2$$

- nebo  $\Sigma = \Sigma_1 \cap \Sigma_2$  a zvlášť ošetřit případ, kdy  $\Sigma_1 \cap \Sigma_2 = \emptyset$

$$③ \Gamma = \Gamma_1$$

## Algoritmy nad zásobníkovými automaty

## Formálně запиšte algoritmus pro sestrojení průniku ZA a KA

## • Vstup:

- 1 ZA  $A_1 = (Q_1, \Sigma_1, \Gamma_1, \delta_1, q_0^1, Z_0^1, F_1)$

- 2 KA  $A_2 = (Q_2, \Sigma_2, \delta_2, q_0^2, F_2)$

## • Výstup:

- ZA  $A = (Q, \Sigma, \Gamma, \delta, q_0, Z_0, F)$ , kde  $L(A) = L(A_1) \cap L(A_2)$

## • Algoritmus:

- 1  $Q = Q_1 \times Q_2$

- 2  $\Sigma = \Sigma_1 \cup \Sigma_2$

- nebo  $\Sigma = \Sigma_1 \cap \Sigma_2$  a zvlášť ošetřit případ, kdy  $\Sigma_1 \cap \Sigma_2 = \emptyset$

- 3  $\Gamma = \Gamma_1$

- 4  $q_0 = (q_0^1, q_0^2)$



## Algoritmy nad zásobníkovými automaty

## Formálně запиšte algoritmus pro sestrojení průniku ZA a KA

## • Vstup:

$$① \text{ ZA } A_1 = (Q_1, \Sigma_1, \Gamma_1, \delta_1, q_0^1, Z_0^1, F_1)$$

$$② \text{ KA } A_2 = (Q_2, \Sigma_2, \delta_2, q_0^2, F_2)$$

## • Výstup:

- ZA  $A = (Q, \Sigma, \Gamma, \delta, q_0, Z_0, F)$ , kde  $L(A) = L(A_1) \cap L(A_2)$

## • Algoritmus:

$$① Q = Q_1 \times Q_2$$

$$② \Sigma = \Sigma_1 \cup \Sigma_2$$

- nebo  $\Sigma = \Sigma_1 \cap \Sigma_2$  a zvlášť ošetřit případ, kdy  $\Sigma_1 \cap \Sigma_2 = \emptyset$

$$③ \Gamma = \Gamma_1$$

$$④ q_0 = (q_0^1, q_0^2)$$

$$⑤ Z_0 = Z_0^1$$

## Algoritmy nad zásobníkovými automaty

## Formálně запиšte algoritmus pro sestrojení průniku ZA a KA

## • Vstup:

- 1 ZA  $A_1 = (Q_1, \Sigma_1, \Gamma_1, \delta_1, q_0^1, Z_0^1, F_1)$

- 2 KA  $A_2 = (Q_2, \Sigma_2, \delta_2, q_0^2, F_2)$

## • Výstup:

- ZA  $A = (Q, \Sigma, \Gamma, \delta, q_0, Z_0, F)$ , kde  $L(A) = L(A_1) \cap L(A_2)$

## • Algoritmus:

- 1  $Q = Q_1 \times Q_2$

- 2  $\Sigma = \Sigma_1 \cup \Sigma_2$

- nebo  $\Sigma = \Sigma_1 \cap \Sigma_2$  a zvlášť ošetřit případ, kdy  $\Sigma_1 \cap \Sigma_2 = \emptyset$

- 3  $\Gamma = \Gamma_1$

- 4  $q_0 = (q_0^1, q_0^2)$

- 5  $Z_0 = Z_0^1$

- 6  $F = F_1 \times F_2$

## Algoritmy nad zásobníkovými automaty

**Formálně запиšte algoritmus pro sestrojení průniku ZA a KA**

$$7 \quad \forall q_A^1, q_B^1 \in Q_1 : \forall q_A^2, q_B^2 \in Q_2 : \forall a \in \Sigma : \forall z \in \Gamma : \forall \gamma \in \Gamma^* :$$

## Algoritmy nad zásobníkovými automaty

**Formálně zapište algoritmus pro sestrojení průniku ZA a KA**

$$\begin{aligned} 7 \quad & \forall q_A^1, q_B^1 \in Q_1 : \forall q_A^2, q_B^2 \in Q_2 : \forall a \in \Sigma : \forall z \in \Gamma : \forall \gamma \in \Gamma^* : \\ & ((q_B^1, q_B^2), \gamma) \in \delta((q_A^1, q_A^2), a, z) \Leftrightarrow \end{aligned}$$

## Algoritmy nad zásobníkovými automaty

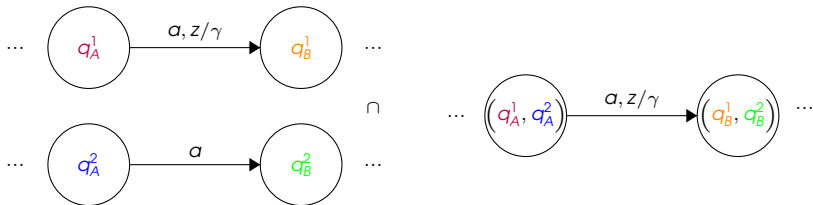
Formálně zapište algoritmus pro sestrojení průniku ZA a KA

$$\begin{aligned} 7 \quad & \forall q_A^1, q_B^1 \in Q_1 : \forall q_A^2, q_B^2 \in Q_2 : \forall a \in \Sigma : \forall z \in \Gamma : \forall \gamma \in \Gamma^* : \\ & ((q_B^1, q_B^2), \gamma) \in \delta((q_A^1, q_A^2), a, z) \Leftrightarrow \\ & ((q_B^1, \gamma) \in \delta(q_A^1, a, z) \wedge q_B^2 \in \delta(q_A^2, a)) \end{aligned}$$

## Algoritmy nad zásobníkovými automaty

## Formálně запиšte algoritmus pro sestrojení průniku ZA a KA

- 7  $\forall q_A^1, q_B^1 \in Q_1 : \forall q_A^2, q_B^2 \in Q_2 : \forall a \in \Sigma : \forall z \in \Gamma : \forall \gamma \in \Gamma^* :$   
 $((q_B^1, q_B^2), \gamma) \in \delta((q_A^1, q_A^2), a, z) \Leftrightarrow$   
 $((q_B^1, \gamma) \in \delta(q_A^1, a, z) \wedge q_B^2 \in \delta(q_A^2, a))$



## Algoritmy nad zásobníkovými automaty

**Formálně zapište algoritmus pro sestrojení průniku ZA a KA**

$$8 \quad \forall q_A^1, q_B^1 \in Q_1 : \forall q_A^2, q_B^2 \in Q_2 : \forall z \in \Gamma : \forall \gamma \in \Gamma^* :$$

## Algoritmy nad zásobníkovými automaty

**Formálně zapište algoritmus pro sestrojení průniku ZA a KA**

$$\textcircled{8} \quad \forall q_A^1, q_B^1 \in Q_1 : \forall q_A^2, q_B^2 \in Q_2 : \forall z \in \Gamma : \forall \gamma \in \Gamma^* : \\ ((q_B^1, q_B^2), \gamma) \in \delta((q_A^1, q_A^2), \epsilon, z) \Leftrightarrow$$



## Algoritmy nad zásobníkovými automaty


Formálně zapište algoritmus pro sestrojení průniku ZA a KA

$$\begin{aligned} 8 \quad & \forall q_A^1, q_B^1 \in Q_1 : \forall q_A^2, q_B^2 \in Q_2 : \forall Z \in \Gamma : \forall \gamma \in \Gamma^* : \\ & ((q_B^1, q_B^2), \gamma) \in \delta((q_A^1, q_A^2), \epsilon, Z) \Leftrightarrow \\ & ((q_B^1, \gamma) \in \delta(q_A^1, \epsilon, Z) \wedge q_A^2 = q_B^2) \end{aligned}$$

## Algoritmy nad zásobníkovými automaty

## Formálně запиšte algoritmus pro sestrojení průniku ZA a KA

$$\begin{aligned}
 & \textcircled{8} \quad \forall q_A^1, q_B^1 \in Q_1 : \forall q_A^2, q_B^2 \in Q_2 : \forall Z \in \Gamma : \forall \gamma \in \Gamma^* : \\
 & \quad ((q_B^1, q_B^2), \gamma) \in \delta((q_A^1, q_A^2), \epsilon, Z) \Leftrightarrow \\
 & \quad ((q_B^1, \gamma) \in \delta(q_A^1, \epsilon, Z) \wedge q_A^2 = q_B^2)
 \end{aligned}$$



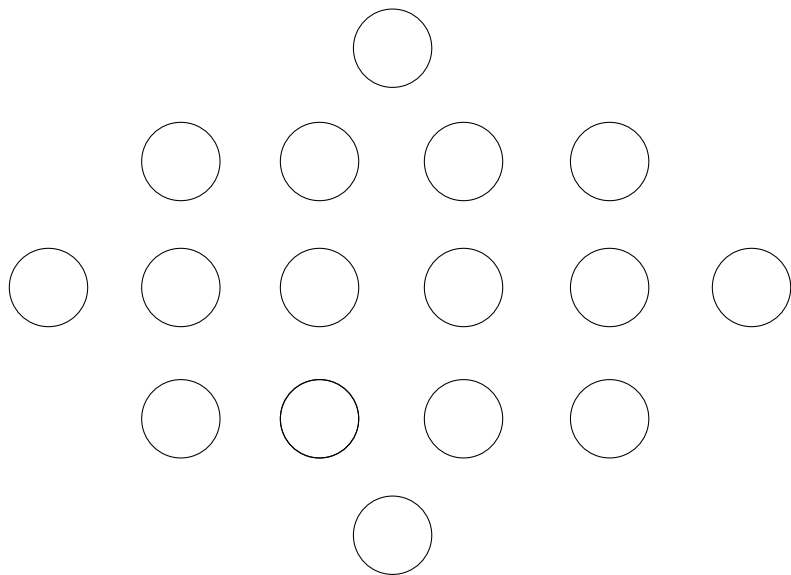
## Algoritmy nad zásobníkovými automaty

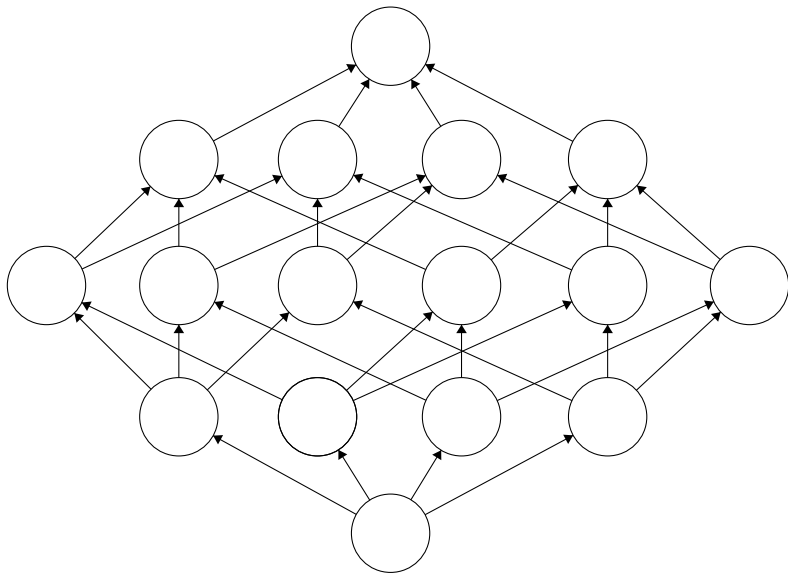
## Formálně zapište algoritmus pro sestrojení průniku ZA a KA

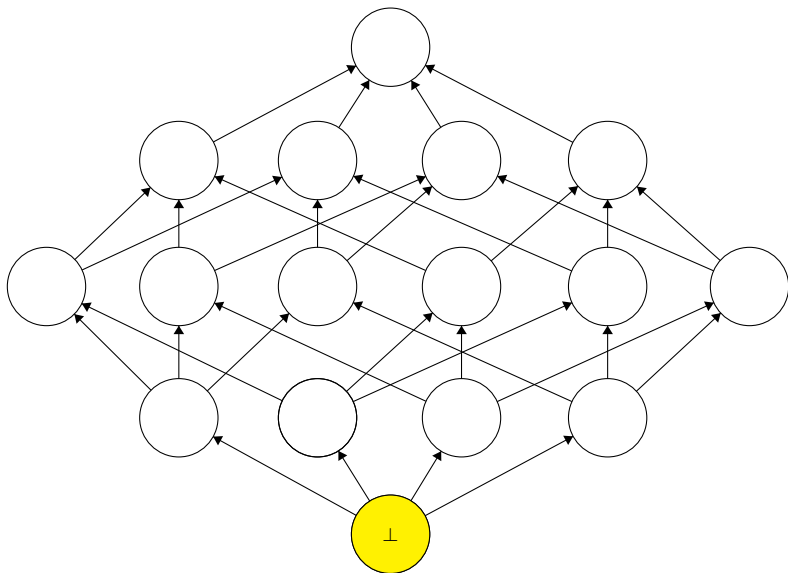
Pozn.: nelze napsat

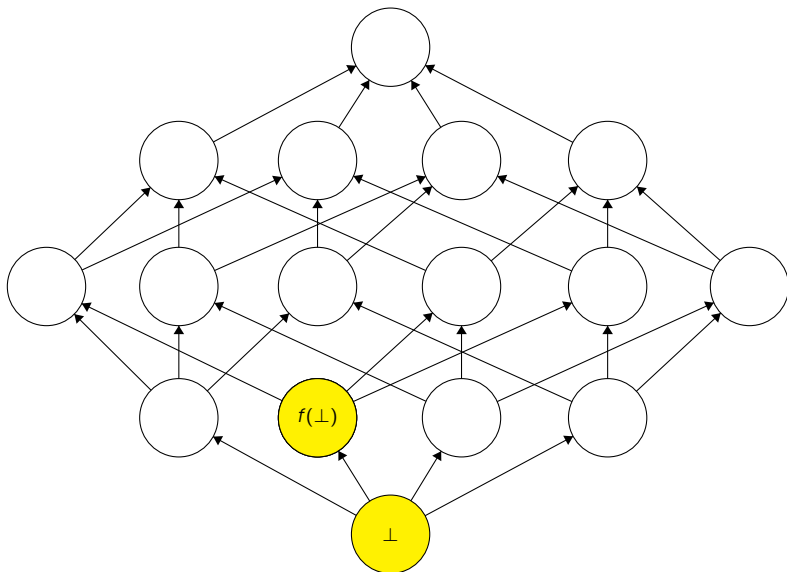
- $\forall q_A^1, q_B^1 \in Q_1 : \forall q \in Q_2 : \forall z \in \Gamma : \forall \gamma \in \Gamma^* :$   
 $((q_B^1, q), \gamma) \in \delta((q_A^1, q), \epsilon, z) \Leftrightarrow (q_B^1, \gamma) \in \delta(q_A^1, \epsilon, z)$

Algoritmy zpřesňující odhad výsledku

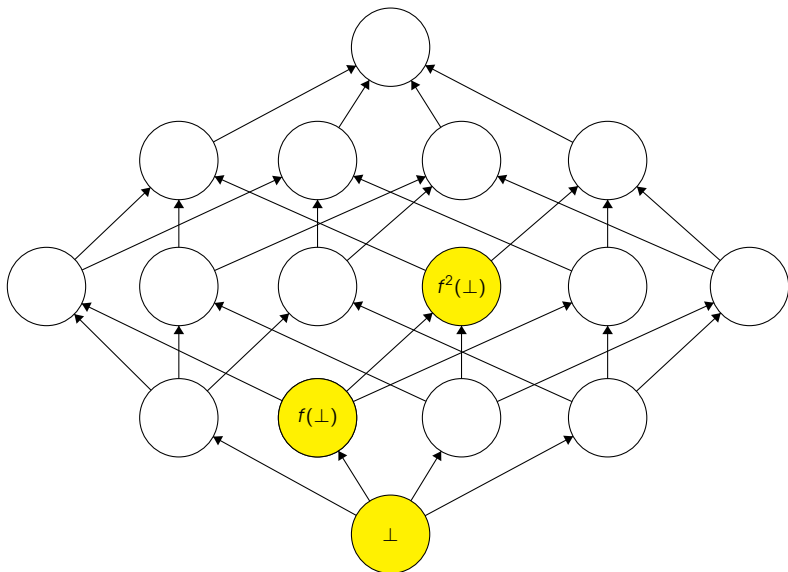


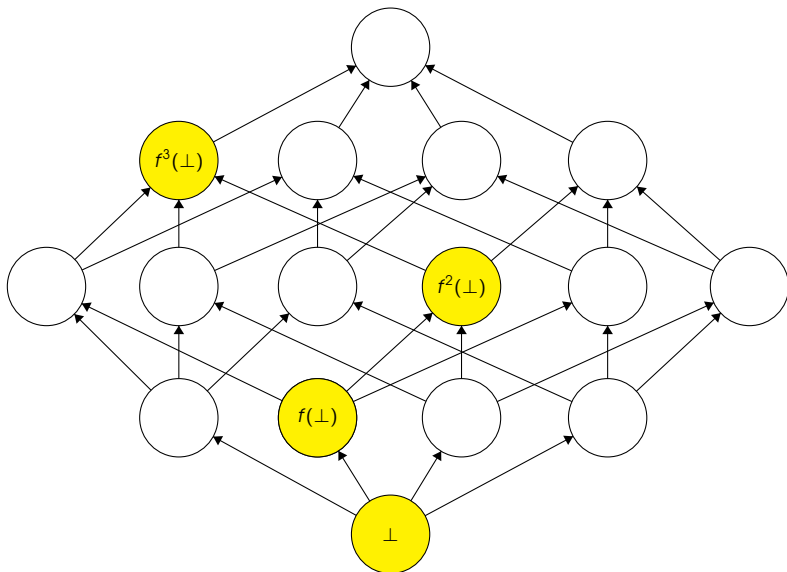


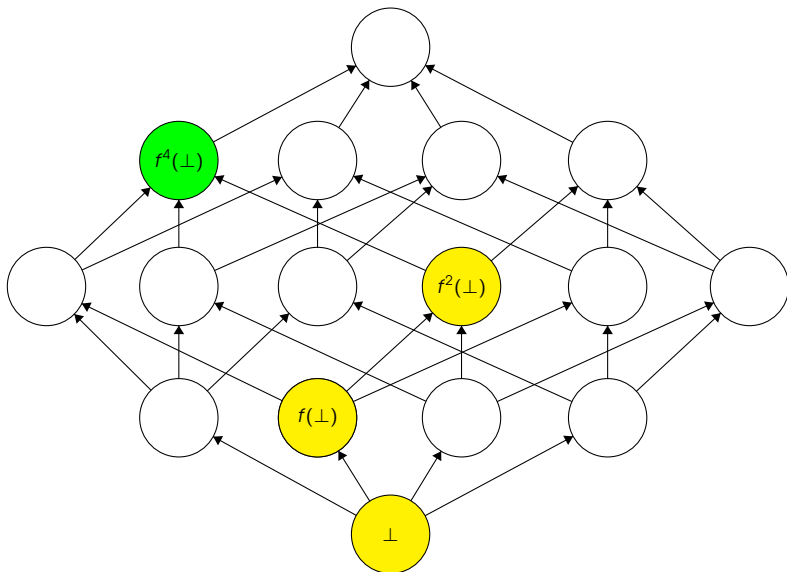












## Poset

- dvojice  $(D, \sqsubseteq)$
- $D$  je nosná množina
- $\sqsubseteq \subseteq D^2$  je uspořádání na  $D$

## Poset

- dvojice  $(D, \sqsubseteq)$
- $D$  je nosná množina
- $\sqsubseteq \subseteq D^2$  je uspořádání na  $D$

## Pevný bod funkce

- $f : X \rightarrow X$
- $a \in X$  je pevný bod  $f$ ,  
pokud  $f(a) = a$

## Poset

- dvojice  $(D, \sqsubseteq)$
- $D$  je nosná množina
- $\sqsubseteq \subseteq D^2$  je uspořádání na  $D$

## Pevný bod funkce

- $f : X \rightarrow X$
- $a \in X$  je pevný bod  $f$ , pokud  $f(a) = a$

## Úplný svaz

- šestice  $(D, \sqsubseteq, \sqcup, \sqcap, \top, \perp)$
- supremum  $\sqcup$ , infimum  $\sqcap$
- největší prvek  $\top$
- nejmenší prvek  $\perp$
- existuje  $\sqcup, \sqcap$  pro každou podmnožinu nosiče  $D$

## Poset

- dvojice  $(D, \sqsubseteq)$
- $D$  je nosná množina
- $\sqsubseteq \subseteq D^2$  je uspořádání na  $D$

## Pevný bod funkce

- $f : X \rightarrow X$
- $a \in X$  je pevný bod  $f$ , pokud  $f(a) = a$

## Úplný svaz

- šestice  $(D, \sqsubseteq, \sqcup, \sqcap, \top, \perp)$
- supremum  $\sqcup$ , infimum  $\sqcap$
- největší prvek  $\top$
- nejmenší prvek  $\perp$
- existuje  $\sqcup, \sqcap$  pro každou podmnožinu nosiče  $D$

## Monotónní funkce

- $(D, \sqsubseteq)$  je poset
- $f : D \rightarrow D$  je zobrazení
- mon. rostoucí:  $\forall a, b \in D : a \sqsubseteq b \Rightarrow f(a) \sqsubseteq f(b)$
- mon. klasající:  $\forall a, b \in D : a \sqsubseteq b \Rightarrow f(b) \sqsubseteq f(a)$

## Knaster-Tarskiho teorém

**Pevné body monotónního zobrazení  $f : D \rightarrow D$  nad úplným svazem  $(D, \sqsubseteq, \sqcup, \sqcap, \top, \perp)$  tvoří opět úplný svaz.**

(To garantuje existenci nejmenšího/největšího pevného bodu  $f$ )



## Knaster-Tarskiho teorém

**Pevné body monotónního zobrazení  $f : D \rightarrow D$  nad úplným svazem  $(D, \sqsubseteq, \sqcup, \sqcap, \top, \perp)$  tvoří opět úplný svaz.**

(To garantuje existenci nejmenšího/největšího pevného bodu  $f$ )

Nejmenší pevný bod

## Knaster-Tarskiho teorém

**Pevné body monotónního zobrazení  $f : D \rightarrow D$  nad úplným svazem  $(D, \sqsubseteq, \sqcup, \sqcap, \top, \perp)$  tvoří opět úplný svaz.**

(To garantuje existenci nejmenšího/největšího pevného bodu  $f$ )

## Nejmenší pevný bod

- iniciační hodnota  $\perp$

## Knaster-Tarskiho teorém

**Pevné body monotónního zobrazení  $f : D \rightarrow D$  nad úplným svazem  $(D, \sqsubseteq, \sqcup, \sqcap, \top, \perp)$  tvoří opět úplný svaz.**

(To garantuje existenci nejmenšího/největšího pevného bodu  $f$ )

## Nejmenší pevný bod

- iniciační hodnota  $\perp$
- $f$  je mon. rostoucí

## Knaster-Tarskiho teorém

**Pevné body monotónního zobrazení  $f : D \rightarrow D$  nad úplným svazem  $(D, \sqsubseteq, \sqcup, \sqcap, \top, \perp)$  tvoří opět úplný svaz.**

(To garantuje existenci nejmenšího/největšího pevného bodu  $f$ )

## Nejmenší pevný bod

- iniciační hodnota  $\perp$
- $f$  je mon. rostoucí
- $\perp \sqsubseteq f(\perp) \Rightarrow f(\perp) \sqsubseteq f(f(\perp))$

## Knaster-Tarskiho teorém

**Pevné body monotónního zobrazení  $f : D \rightarrow D$  nad úplným svazem  $(D, \sqsubseteq, \sqcup, \sqcap, \top, \perp)$  tvoří opět úplný svaz.**

(To garantuje existenci nejmenšího/největšího pevného bodu  $f$ )

## Nejmenší pevný bod

- iniciační hodnota  $\perp$
- $f$  je mon. rostoucí
- $\perp \sqsubseteq f(\perp) \Rightarrow f(\perp) \sqsubseteq f(f(\perp))$
- postupně počítáme  $f(\perp), f(f(\perp)), f(f(f(\perp))), \dots$

## Knaster-Tarskiho teorém

**Pevné body monotónního zobrazení  $f : D \rightarrow D$  nad úplným svazem  $(D, \sqsubseteq, \sqcup, \sqcap, \top, \perp)$  tvoří opět úplný svaz.**

(To garantuje existenci nejmenšího/největšího pevného bodu  $f$ )

## Nejmenší pevný bod

- iničiální hodnota  $\perp$
- $f$  je mon. rostoucí
- $\perp \sqsubseteq f(\perp) \Rightarrow f(\perp) \sqsubseteq f(f(\perp))$
- postupně počítáme  $f(\perp), f(f(\perp)), f(f(f(\perp))), \dots$
- $\exists k \in \mathbb{N} : f^k(\perp) = f^{k+1}(\perp)$

## Knaster-Tarskiho teorém

**Pevné body monotónního zobrazení  $f : D \rightarrow D$  nad úplným svazem  $(D, \sqsubseteq, \sqcup, \sqcap, \top, \perp)$  tvoří opět úplný svaz.**

(To garantuje existenci nejmenšího/největšího pevného bodu  $f$ )

## Nejmenší pevný bod

- iniciační hodnota  $\perp$
- $f$  je mon. rostoucí
- $\perp \sqsubseteq f(\perp) \Rightarrow f(\perp) \sqsubseteq f(f(\perp))$
- postupně počítáme  $f(\perp), f(f(\perp)), f(f(f(\perp))), \dots$
- $\exists k \in \mathbb{N} : f^k(\perp) = f^{k+1}(\perp)$
- $f^k(\perp)$  je nejmenší pevný bod zobrazení  $f$

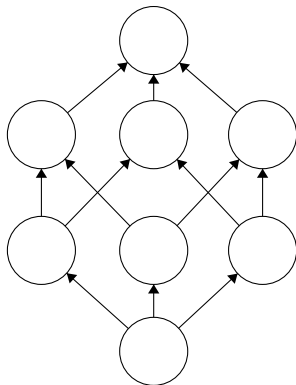
## Knaster-Tarskiho teorém

**Pevné body monotónního zobrazení  $f : D \rightarrow D$  nad úplným svazem  $(D, \sqsubseteq, \sqcup, \sqcap, \top, \perp)$  tvoří opět úplný svaz.**

(To garantuje existenci nejmenšího/největšího pevného bodu  $f$ )

### Nejmenší pevný bod

- iniciační hodnota  $\perp$
- $f$  je mon. rostoucí
- $\perp \sqsubseteq f(\perp) \Rightarrow f(\perp) \sqsubseteq f(f(\perp))$
- postupně počítáme  $f(\perp), f(f(\perp)), f(f(f(\perp))), \dots$
- $\exists k \in \mathbb{N} : f^k(\perp) = f^{k+1}(\perp)$
- $f^k(\perp)$  je nejmenší pevný bod zobrazení  $f$





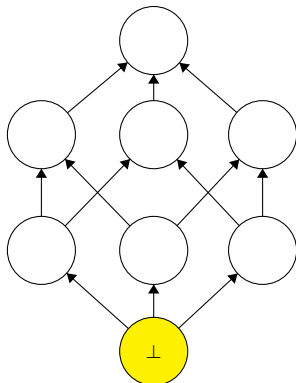
## Knaster-Tarskiho teorém

**Pevné body monotónního zobrazení  $f : D \rightarrow D$  nad úplným svazem  $(D, \sqsubseteq, \sqcup, \sqcap, \top, \perp)$  tvoří opět úplný svaz.**

(To garantuje existenci nejmenšího/největšího pevného bodu  $f$ )

### Nejmenší pevný bod

- iniciační hodnota  $\perp$
- $f$  je mon. rostoucí
- $\perp \sqsubseteq f(\perp) \Rightarrow f(\perp) \sqsubseteq f(f(\perp))$
- postupně počítáme  $f(\perp), f(f(\perp)), f(f(f(\perp))), \dots$
- $\exists k \in \mathbb{N} : f^k(\perp) = f^{k+1}(\perp)$
- $f^k(\perp)$  je nejmenší pevný bod zobrazení  $f$



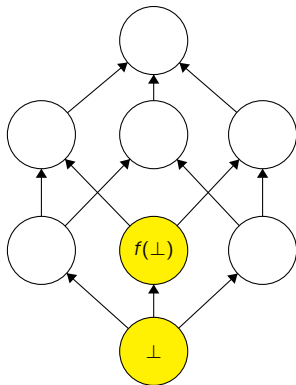
## Knaster-Tarskiho teorém

**Pevné body monotónního zobrazení  $f : D \rightarrow D$  nad úplným svazem  $(D, \sqsubseteq, \sqcup, \sqcap, \top, \perp)$  tvoří opět úplný svaz.**

(To garantuje existenci nejmenšího/největšího pevného bodu  $f$ )

### Nejmenší pevný bod

- iniciační hodnota  $\perp$
- $f$  je mon. rostoucí
- $\perp \sqsubseteq f(\perp) \Rightarrow f(\perp) \sqsubseteq f(f(\perp))$
- postupně počítáme  $f(\perp), f(f(\perp)), f(f(f(\perp))), \dots$
- $\exists k \in \mathbb{N} : f^k(\perp) = f^{k+1}(\perp)$
- $f^k(\perp)$  je nejmenší pevný bod zobrazení  $f$



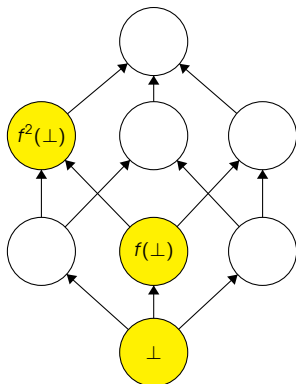
## Knaster-Tarskiho teorém

**Pevné body monotónního zobrazení  $f : D \rightarrow D$  nad úplným svazem  $(D, \sqsubseteq, \sqcup, \sqcap, \top, \perp)$  tvoří opět úplný svaz.**

(To garantuje existenci nejmenšího/největšího pevného bodu  $f$ )

### Nejmenší pevný bod

- iniciační hodnota  $\perp$
- $f$  je mon. rostoucí
- $\perp \sqsubseteq f(\perp) \Rightarrow f(\perp) \sqsubseteq f(f(\perp))$
- postupně počítáme  $f(\perp), f(f(\perp)), f(f(f(\perp))), \dots$
- $\exists k \in \mathbb{N} : f^k(\perp) = f^{k+1}(\perp)$
- $f^k(\perp)$  je nejmenší pevný bod zobrazení  $f$



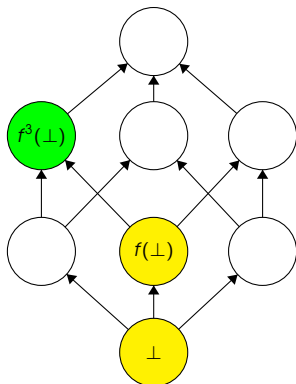
## Knaster-Tarskiho teorém

**Pevné body monotónního zobrazení  $f : D \rightarrow D$  nad úplným svazem  $(D, \sqsubseteq, \sqcup, \sqcap, \top, \perp)$  tvoří opět úplný svaz.**

(To garantuje existenci nejmenšího/největšího pevného bodu  $f$ )

### Nejmenší pevný bod

- iniciační hodnota  $\perp$
- $f$  je mon. rostoucí
- $\perp \sqsubseteq f(\perp) \Rightarrow f(\perp) \sqsubseteq f(f(\perp))$
- postupně počítáme  $f(\perp), f(f(\perp)), f(f(f(\perp))), \dots$
- $\exists k \in \mathbb{N} : f^k(\perp) = f^{k+1}(\perp)$
- $f^k(\perp)$  je nejmenší pevný bod zobrazení  $f$



## Konstrukce algoritmu zpřesňujícího odhad výsledku

Pro **BKG**  $G = (N, \Sigma, P, S)$  sestrojte algoritmus počítající množinu

$$N_\epsilon = \{A \in N \mid A \Rightarrow_G^+ \epsilon\}$$

## Konstrukce algoritmu zpřesňujícího odhad výsledku

Pro **BKG**  $G = (N, \Sigma, P, S)$  sestrojte algoritmus počítající množinu  
 $N_\epsilon = \{A \in N \mid A \Rightarrow_G^+ \epsilon\}$

## Analýza

- doména  $D = 2^N$

## Konstrukce algoritmu zpřesňujícího odhad výsledku

Pro BKG  $G = (N, \Sigma, P, S)$  sestrojte algoritmus počítající množinu  
$$N_\epsilon = \{A \in N \mid A \Rightarrow_G^+ \epsilon\}$$

## Analýza

- doména  $D = 2^N$
- uspořádání  $\sqsubseteq = \subseteq$

## Konstrukce algoritmu zpřesňujícího odhad výsledku

Pro BKG  $G = (N, \Sigma, P, S)$  sestrojte algoritmus počítající množinu  
$$N_\epsilon = \{A \in N \mid A \Rightarrow_G^+ \epsilon\}$$

## Analýza

- doména  $D = 2^N$
- uspořádání  $\sqsubseteq = \subseteq$
- výchozí hodnota  $\perp = \emptyset$



## Konstrukce algoritmu zpřesňujícího odhad výsledku

Pro BKG  $G = (N, \Sigma, P, S)$  sestrojte algoritmus počítající množinu  
$$N_\epsilon = \{A \in N \mid A \Rightarrow_G^+ \epsilon\}$$

## Analýza

- doména  $D = 2^N$
- uspořádání  $\sqsubseteq = \subseteq$
- výchozí hodnota  $\perp = \emptyset$
- úplný svaz  $(2^N, \subseteq, \cup, \cap, N, \emptyset)$

## Konstrukce algoritmu zpřesňujícího odhad výsledku

Pro **BKG**  $G = (N, \Sigma, P, S)$  sestrojte algoritmus počítající množinu

$$N_\epsilon = \{A \in N \mid A \Rightarrow_G^+ \epsilon\}$$

## Analýza

- doména  $D = 2^N$
- uspořádání  $\sqsubseteq = \subseteq$
- výchozí hodnota  $\perp = \emptyset$
- úplný svaz  $(2^N, \subseteq, \cup, \cap, N, \emptyset)$
- zpřesňující funkce  
 $f : 2^N \rightarrow 2^N$  mon. rostoucí

## Konstrukce algoritmu zpřesňujícího odhad výsledku

Pro **BKG**  $G = (N, \Sigma, P, S)$  sestrojte algoritmus počítající množinu

$$N_\epsilon = \{A \in N \mid A \Rightarrow_G^+ \epsilon\}$$

## Analýza

- doména  $D = 2^N$
- uspořádání  $\sqsubseteq = \subseteq$
- výchozí hodnota  $\perp = \emptyset$
- úplný svaz  $(2^N, \subseteq, \cup, \cap, N, \emptyset)$
- zpřesňující funkce  
 $f : 2^N \rightarrow 2^N$  mon. rostoucí
- $f(X) = \{A \in N \mid \exists(A, \alpha) \in P : \alpha \in X^*\}$

## Konstrukce algoritmu zpřesňujícího odhad výsledku

Pro **BKG**  $G = (N, \Sigma, P, S)$  sestrojte algoritmus počítající množinu  
 $N_\epsilon = \{A \in N \mid A \Rightarrow_G^+ \epsilon\}$

## Analýza

- doména  $D = 2^N$
- uspořádání  $\sqsubseteq = \subseteq$
- výchozí hodnota  $\perp = \emptyset$
- úplný svaz  $(2^N, \subseteq, \cup, \cap, N, \emptyset)$
- zpřesňující funkce  
 $f : 2^N \rightarrow 2^N$  mon. rostoucí
- $f(X) = \{A \in N \mid \exists(A, \alpha) \in P : \alpha \in X^*\}$
- hledáme nejmenší pevný bod  $f^k(\emptyset)$  funkce  $f$ ,  $k \in \mathbb{N}$

## Konstrukce algoritmu zpřesňujícího odhad výsledku

Pro BKG  $G = (N, \Sigma, P, S)$  sestrojte algoritmus počítající množinu

$$N_\epsilon = \{A \in N \mid A \Rightarrow_G^+ \epsilon\}$$

## Analýza

- doména  $D = 2^N$
- uspořádání  $\sqsubseteq = \subseteq$
- výchozí hodnota  $\perp = \emptyset$
- úplný svaz  $(2^N, \subseteq, \cup, \cap, N, \emptyset)$
- zpřesňující funkce  
 $f : 2^N \rightarrow 2^N$  mon. rostoucí
- $f(X) = \{A \in N \mid \exists(A, \alpha) \in P : \alpha \in X^*\}$
- hledáme nejmenší pevný bod  $f^k(\emptyset)$  funkce  $f$ ,  $k \in \mathbb{N}$

## Algoritmus

## Konstrukce algoritmu zpřesňujícího odhad výsledku

Pro **BKG**  $G = (N, \Sigma, P, S)$  sestrojte algoritmus počítající množinu  
 $N_\epsilon = \{A \in N \mid A \Rightarrow_G^+ \epsilon\}$

## Analýza

- doména  $D = 2^N$
- uspořádání  $\sqsubseteq = \subseteq$
- výchozí hodnota  $\perp = \emptyset$
- úplný svaz  $(2^N, \subseteq, \cup, \cap, N, \emptyset)$
- zpřesňující funkce  
 $f : 2^N \rightarrow 2^N$  mon. rostoucí
- $f(X) = \{A \in N \mid \exists(A, \alpha) \in P : \alpha \in X^*\}$
- hledáme nejmenší pevný bod  $f^k(\emptyset)$  funkce  $f$ ,  $k \in \mathbb{N}$

## Algoritmus

Vstup:  $G = (N, \Sigma, P, S)$

## Konstrukce algoritmu zpřesňujícího odhad výsledku

Pro **BKG**  $G = (N, \Sigma, P, S)$  sestojte algoritmus počítající množinu

$$N_\epsilon = \{A \in N \mid A \Rightarrow_G^+ \epsilon\}$$

## Analýza

- doména  $D = 2^N$
- uspořádání  $\sqsubseteq = \subseteq$
- výchozí hodnota  $\perp = \emptyset$
- úplný svaz  $(2^N, \subseteq, \cup, \cap, N, \emptyset)$
- zpřesňující funkce  
 $f : 2^N \rightarrow 2^N$  mon. rostoucí
- $f(X) = \{A \in N \mid \exists(A, \alpha) \in P : \alpha \in X^*\}$
- hledáme nejmenší pevný bod  $f^k(\emptyset)$  funkce  $f$ ,  $k \in \mathbb{N}$

## Algoritmus

Vstup:  $G = (N, \Sigma, P, S)$

Výstup:  $N_\epsilon = \{A \in N \mid A \Rightarrow_G^+ \epsilon\}$

## Konstrukce algoritmu zpřesňujícího odhad výsledku

Pro **BKG**  $G = (N, \Sigma, P, S)$  sestrojte algoritmus počítající množinu

$$N_\epsilon = \{A \in N \mid A \Rightarrow_G^+ \epsilon\}$$

## Analýza

- doména  $D = 2^N$
- uspořádání  $\sqsubseteq = \subseteq$
- výchozí hodnota  $\perp = \emptyset$
- úplný svaz  $(2^N, \subseteq, \cup, \cap, N, \emptyset)$
- zpřesňující funkce  
 $f : 2^N \rightarrow 2^N$  mon. rostoucí
- $f(X) = \{A \in N \mid \exists(A, \alpha) \in P : \alpha \in X^*\}$
- hledáme nejmenší pevný bod  $f^k(\emptyset)$  funkce  $f$ ,  $k \in \mathbb{N}$

## Algoritmus

Vstup:  $G = (N, \Sigma, P, S)$

Výstup:  $N_\epsilon = \{A \in N \mid A \Rightarrow_G^+ \epsilon\}$

Postup:



## Konstrukce algoritmu zpřesňujícího odhad výsledku

Pro **BKG**  $G = (N, \Sigma, P, S)$  sestrojte algoritmus počítající množinu  
 $N_\epsilon = \{A \in N \mid A \Rightarrow_G^+ \epsilon\}$

## Analýza

- doména  $D = 2^N$
- uspořádání  $\sqsubseteq = \subseteq$
- výchozí hodnota  $\perp = \emptyset$
- úplný svaz  $(2^N, \subseteq, \cup, \cap, N, \emptyset)$
- zpřesňující funkce  
 $f : 2^N \rightarrow 2^N$  mon. rostoucí
- $f(X) = \{A \in N \mid \exists(A, \alpha) \in P : \alpha \in X^*\}$
- hledáme nejmenší pevný bod  $f^k(\emptyset)$  funkce  $f$ ,  $k \in \mathbb{N}$

## Algoritmus

Vstup:  $G = (N, \Sigma, P, S)$

Výstup:  $N_\epsilon = \{A \in N \mid A \Rightarrow_G^+ \epsilon\}$

Postup:

- 1  $N_\epsilon^0 = \emptyset, i = 0$

## Konstrukce algoritmu zpřesňujícího odhad výsledku

Pro **BKG**  $G = (N, \Sigma, P, S)$  sestrojte algoritmus počítající množinu

$$N_\epsilon = \{A \in N \mid A \Rightarrow_G^+ \epsilon\}$$

## Analýza

- doména  $D = 2^N$
- uspořádání  $\sqsubseteq = \subseteq$
- výchozí hodnota  $\perp = \emptyset$
- úplný svaz  $(2^N, \subseteq, \cup, \cap, N, \emptyset)$
- zpřesňující funkce  
 $f : 2^N \rightarrow 2^N$  mon. rostoucí
- $f(X) = \{A \in N \mid \exists(A, \alpha) \in P : \alpha \in X^*\}$
- hledáme nejmenší pevný bod  $f^k(\emptyset)$  funkce  $f$ ,  $k \in \mathbb{N}$

## Algoritmus

Vstup:  $G = (N, \Sigma, P, S)$

Výstup:  $N_\epsilon = \{A \in N \mid A \Rightarrow_G^+ \epsilon\}$

Postup:

- 1  $N_\epsilon^0 = \emptyset, i = 0$
- 2  $N_\epsilon^{i+1} = \{A \in N \mid \exists(A, \alpha) \in P : \alpha \in (N_\epsilon^i)^*\}$

## Konstrukce algoritmu zpřesňujícího odhad výsledku

Pro **BKG**  $G = (N, \Sigma, P, S)$  sestrojte algoritmus počítající množinu

$$N_\epsilon = \{A \in N \mid A \Rightarrow_G^+ \epsilon\}$$

## Analýza

- doména  $D = 2^N$
- uspořádání  $\sqsubseteq = \subseteq$
- výchozí hodnota  $\perp = \emptyset$
- úplný svaz  $(2^N, \subseteq, \cup, \cap, N, \emptyset)$
- zpřesňující funkce  
 $f : 2^N \rightarrow 2^N$  mon. rostoucí
- $f(X) = \{A \in N \mid \exists(A, \alpha) \in P : \alpha \in X^*\}$
- hledáme nejmenší pevný bod  $f^k(\emptyset)$  funkce  $f$ ,  $k \in \mathbb{N}$

## Algoritmus

Vstup:  $G = (N, \Sigma, P, S)$

Výstup:  $N_\epsilon = \{A \in N \mid A \Rightarrow_G^+ \epsilon\}$

Postup:

- 1  $N_\epsilon^0 = \emptyset, i = 0$
- 2  $N_\epsilon^{i+1} = \{A \in N \mid \exists(A, \alpha) \in P : \alpha \in (N_\epsilon^i)^*\}$
- 3 pokud  $N_\epsilon^i \neq N_\epsilon^{i+1}$ 
  - $i = i + 1$
  - přejdi na bod 2

## Konstrukce algoritmu zpřesňujícího odhad výsledku

Pro BKG  $G = (N, \Sigma, P, S)$  sestrojte algoritmus počítající množinu  
 $N_\epsilon = \{A \in N \mid A \Rightarrow_G^+ \epsilon\}$

## Analýza

- doména  $D = 2^N$
- uspořádání  $\sqsubseteq = \subseteq$
- výchozí hodnota  $\perp = \emptyset$
- úplný svaz  $(2^N, \subseteq, \cup, \cap, N, \emptyset)$
- zpřesňující funkce  
 $f : 2^N \rightarrow 2^N$  mon. rostoucí
- $f(X) = \{A \in N \mid \exists(A, \alpha) \in P : \alpha \in X^*\}$
- hledáme nejmenší pevný bod  $f^k(\emptyset)$  funkce  $f$ ,  $k \in \mathbb{N}$

## Algoritmus

Vstup:  $G = (N, \Sigma, P, S)$

Výstup:  $N_\epsilon = \{A \in N \mid A \Rightarrow_G^+ \epsilon\}$

Postup:

- 1  $N_\epsilon^0 = \emptyset, i = 0$
- 2  $N_\epsilon^{i+1} = \{A \in N \mid \exists(A, \alpha) \in P : \alpha \in (N_\epsilon^i)^*\}$
- 3 pokud  $N_\epsilon^i \neq N_\epsilon^{i+1}$ 
  - $i = i + 1$
  - přejdi na bod 2
- 4  $N_\epsilon = N_\epsilon^i$

## Gramatika

- Demonstrujte algoritmus na BKG  $G = (N, \Sigma, P, S)$
- $N = \{S, A, B, C\}$
- $\Sigma = \{a, b, c\}$
- $P$ :
  - 1  $S \rightarrow AAAB \mid BC \mid c$
  - 2  $A \rightarrow a \mid aB \mid \epsilon$
  - 3  $B \rightarrow cBb \mid AA$
  - 4  $C \rightarrow ccC \mid Ab$

## Gramatika

- Demonstrujte algoritmus na BKG  $G = (N, \Sigma, P, S)$
- $N = \{S, A, B, C\}$
- $\Sigma = \{a, b, c\}$
- $P$ :
  - ①  $S \rightarrow AAAB \mid BC \mid c$
  - ②  $A \rightarrow a \mid aB \mid \epsilon$
  - ③  $B \rightarrow cBb \mid AA$
  - ④  $C \rightarrow ccC \mid Ab$

## Algoritmus

Postup:

- ①  $N_\epsilon^0 = \emptyset, i = 0$
- ②  $N_\epsilon^{i+1} = \{A \in N \mid \exists (A, \alpha) \in P : \alpha \in (N_\epsilon^i)^*\}$
- ③ pokud  $N_\epsilon^i \neq N_\epsilon^{i+1}$ 
  - $i = i + 1$
  - přejdi na bod 2
- ④  $N_\epsilon = N_\epsilon^i$

## Gramatika

- Demonstrujte algoritmus na BKG  $G = (N, \Sigma, P, S)$
- $N = \{S, A, B, C\}$
- $\Sigma = \{a, b, c\}$
- $P$ :
  - ①  $S \rightarrow AAAB \mid BC \mid c$
  - ②  $A \rightarrow a \mid aB \mid \epsilon$
  - ③  $B \rightarrow cBb \mid AA$
  - ④  $C \rightarrow ccC \mid Ab$

## Algoritmus

Postup:

- ①  $N_\epsilon^0 = \emptyset, i = 0$
- ②  $N_\epsilon^{i+1} = \{A \in N \mid \exists (A, \alpha) \in P : \alpha \in (N_\epsilon^i)^*\}$
- ③ pokud  $N_\epsilon^i \neq N_\epsilon^{i+1}$ 
  - $i = i + 1$
  - přejdi na bod 2
- ④  $N_\epsilon = N_\epsilon^i$

## Demonstrace

## Gramatika

- Demonstrujte algoritmus na BKG  $G = (N, \Sigma, P, S)$
- $N = \{S, A, B, C\}$
- $\Sigma = \{a, b, c\}$
- $P$ :
  - ①  $S \rightarrow AAAB \mid BC \mid c$
  - ②  $A \rightarrow a \mid aB \mid \epsilon$
  - ③  $B \rightarrow cBb \mid AA$
  - ④  $C \rightarrow ccC \mid Ab$

## Algoritmus

Postup:

- ①  $N_\epsilon^0 = \emptyset, i = 0$
- ②  $N_\epsilon^{i+1} = \{A \in N \mid \exists (A, \alpha) \in P : \alpha \in (N_\epsilon^i)^*\}$
- ③ pokud  $N_\epsilon^i \neq N_\epsilon^{i+1}$ 
  - $i = i + 1$
  - přejdi na bod 2
- ④  $N_\epsilon = N_\epsilon^i$

## Demonstrace

- $N_\epsilon^0 = \emptyset$



## Gramatika

- Demonstrujte algoritmus na BKG  $G = (N, \Sigma, P, S)$
- $N = \{S, A, B, C\}$
- $\Sigma = \{a, b, c\}$
- $P$ :
  - 1  $S \rightarrow AAAB \mid BC \mid c$
  - 2  $A \rightarrow a \mid aB \mid \epsilon$
  - 3  $B \rightarrow cBb \mid AA$
  - 4  $C \rightarrow ccC \mid Ab$

## Algoritmus

Postup:

- 1  $N_\epsilon^0 = \emptyset, i = 0$
- 2  $N_\epsilon^{i+1} = \{A \in N \mid \exists (A, \alpha) \in P : \alpha \in (N_\epsilon^i)^*\}$
- 3 pokud  $N_\epsilon^i \neq N_\epsilon^{i+1}$ 
  - $i = i + 1$
  - přejdi na bod 2
- 4  $N_\epsilon = N_\epsilon^i$

## Demonstrace

- $N_\epsilon^0 = \emptyset$
- $N_\epsilon^1 = \{A \in N \mid \exists (A, \alpha) \in P : \alpha \in (N_\epsilon^0)^* = \emptyset^* = \{\epsilon\}\} = \{A\}$

## Gramatika

- Demonstrujte algoritmus na BKG  $G = (N, \Sigma, P, S)$
- $N = \{S, A, B, C\}$
- $\Sigma = \{a, b, c\}$
- $P$ :
  - 1  $S \rightarrow AAAB \mid BC \mid c$
  - 2  $A \rightarrow a \mid aB \mid \epsilon$
  - 3  $B \rightarrow cBb \mid AA$
  - 4  $C \rightarrow ccC \mid Ab$

## Algoritmus

Postup:

- 1  $N_\epsilon^0 = \emptyset, i = 0$
- 2  $N_\epsilon^{i+1} = \{A \in N \mid \exists (A, \alpha) \in P : \alpha \in (N_\epsilon^i)^*\}$
- 3 pokud  $N_\epsilon^i \neq N_\epsilon^{i+1}$ 
  - $i = i + 1$
  - přejdi na bod 2
- 4  $N_\epsilon = N_\epsilon^i$

## Demonstrace

- $N_\epsilon^0 = \emptyset$
- $N_\epsilon^1 = \{A \in N \mid \exists (A, \alpha) \in P : \alpha \in (N_\epsilon^0)^* = \emptyset^* = \{\epsilon\}\} = \{A\}$
- $N_\epsilon^2 = \{A \in N \mid \exists (A, \alpha) \in P : \alpha \in (N_\epsilon^1)^* = \{A\}^*\} = \{A, B\}$

## Gramatika

- Demonstrujte algoritmus na BKG  $G = (N, \Sigma, P, S)$
- $N = \{S, A, B, C\}$
- $\Sigma = \{a, b, c\}$
- $P$ :
  - 1  $S \rightarrow AAAB \mid BC \mid c$
  - 2  $A \rightarrow a \mid aB \mid \epsilon$
  - 3  $B \rightarrow cBb \mid AA$
  - 4  $C \rightarrow ccC \mid Ab$

## Algoritmus

Postup:

- 1  $N_\epsilon^0 = \emptyset, i = 0$
- 2  $N_\epsilon^{i+1} = \{A \in N \mid \exists(A, \alpha) \in P : \alpha \in (N_\epsilon^i)^*\}$
- 3 pokud  $N_\epsilon^i \neq N_\epsilon^{i+1}$ 
  - $i = i + 1$
  - přejdi na bod 2
- 4  $N_\epsilon = N_\epsilon^i$

## Demonstrace

- $N_\epsilon^3 = \{A \in N \mid \exists(A, \alpha) \in P : \alpha \in (N_\epsilon^2)^* = \{A, B\}^*\} = \{A, B, S\}$

## Gramatika

- Demonstrujte algoritmus na BKG  $G = (N, \Sigma, P, S)$
- $N = \{S, A, B, C\}$
- $\Sigma = \{a, b, c\}$
- $P$ :
  - 1  $S \rightarrow AAAB \mid BC \mid c$
  - 2  $A \rightarrow a \mid aB \mid \epsilon$
  - 3  $B \rightarrow cBb \mid AA$
  - 4  $C \rightarrow ccC \mid Ab$

## Algoritmus

Postup:

- 1  $N_\epsilon^0 = \emptyset, i = 0$
- 2  $N_\epsilon^{i+1} = \{A \in N \mid \exists (A, \alpha) \in P : \alpha \in (N_\epsilon^i)^*\}$
- 3 pokud  $N_\epsilon^i \neq N_\epsilon^{i+1}$ 
  - $i = i + 1$
  - přejdi na bod 2
- 4  $N_\epsilon = N_\epsilon^i$

## Demonstrace

- $N_\epsilon^3 = \{A \in N \mid \exists (A, \alpha) \in P : \alpha \in (N_\epsilon^2)^* = \{A, B\}^*\} = \{A, B, S\}$
- $N_\epsilon^4 = \{A \in N \mid \exists (A, \alpha) \in P : \alpha \in (N_\epsilon^3)^* = \{A, B, S\}^*\} = \{A, B, S\}$

## Gramatika

- Demonstrujte algoritmus na BKG  $G = (N, \Sigma, P, S)$
- $N = \{S, A, B, C\}$
- $\Sigma = \{a, b, c\}$
- $P$ :
  - 1  $S \rightarrow AAAB \mid BC \mid c$
  - 2  $A \rightarrow a \mid aB \mid \epsilon$
  - 3  $B \rightarrow cBb \mid AA$
  - 4  $C \rightarrow ccC \mid Ab$

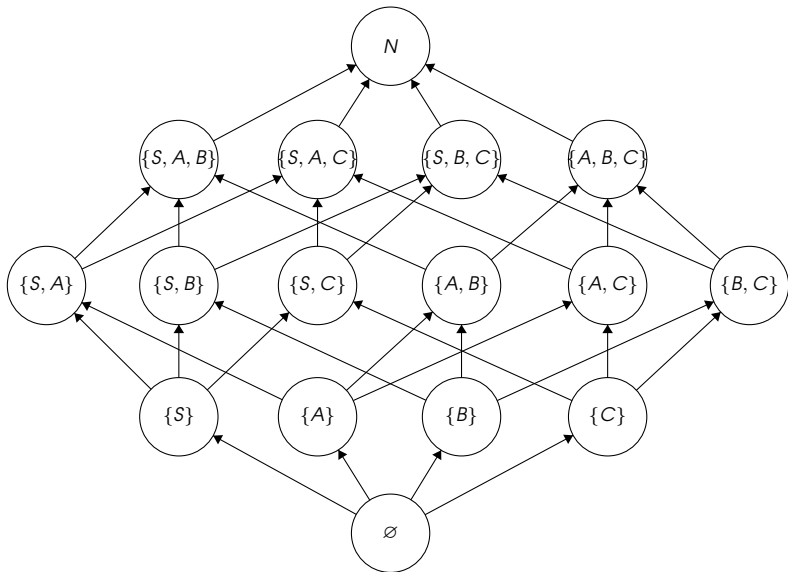
## Algoritmus

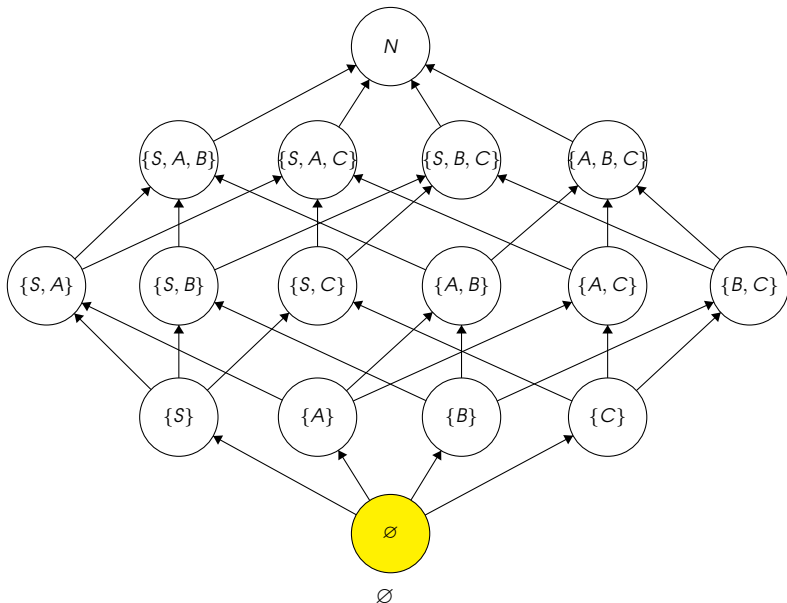
Postup:

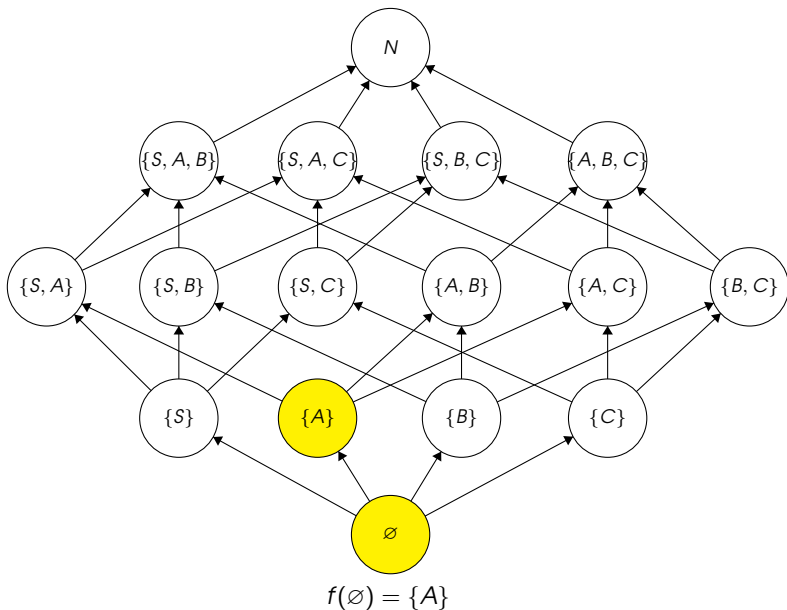
- 1  $N_\epsilon^0 = \emptyset, i = 0$
- 2  $N_\epsilon^{i+1} = \{A \in N \mid \exists (A, \alpha) \in P : \alpha \in (N_\epsilon^i)^*\}$
- 3 pokud  $N_\epsilon^i \neq N_\epsilon^{i+1}$ 
  - $i = i + 1$
  - přejdi na bod 2
- 4  $N_\epsilon = N_\epsilon^i$

## Demonstrace

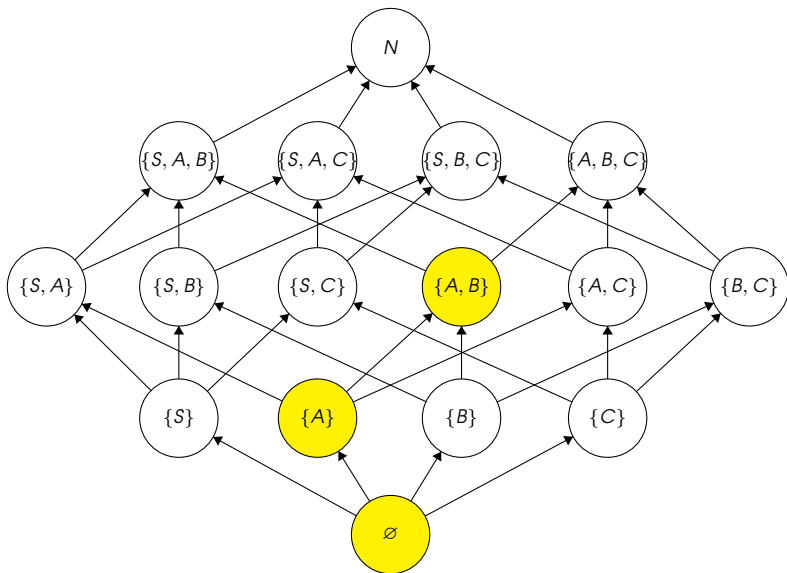
- $N_\epsilon^3 = \{A \in N \mid \exists (A, \alpha) \in P : \alpha \in (N_\epsilon^2)^* = \{A, B\}^*\} = \{A, B, S\}$
- $N_\epsilon^4 = \{A \in N \mid \exists (A, \alpha) \in P : \alpha \in (N_\epsilon^3)^* = \{A, B, S\}^*\} = \{A, B, S\}$
- $N_\epsilon = N_\epsilon^3 = \{A, B, S\}$



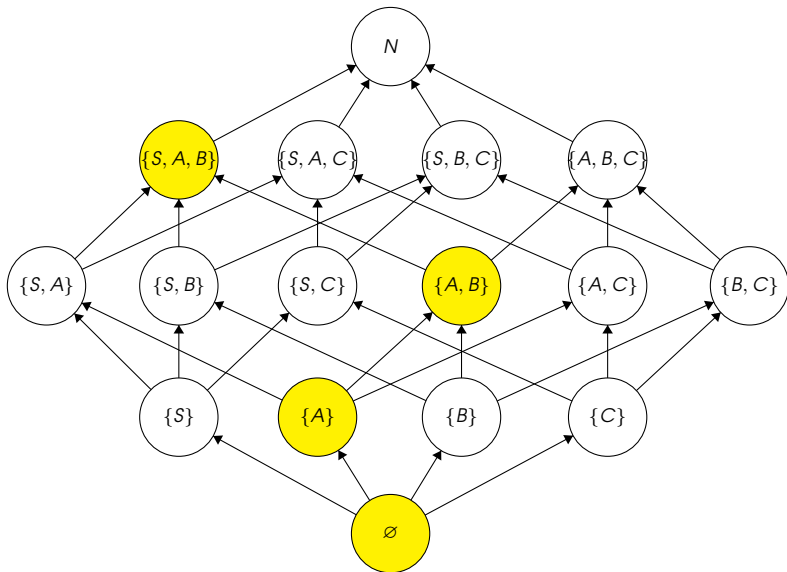




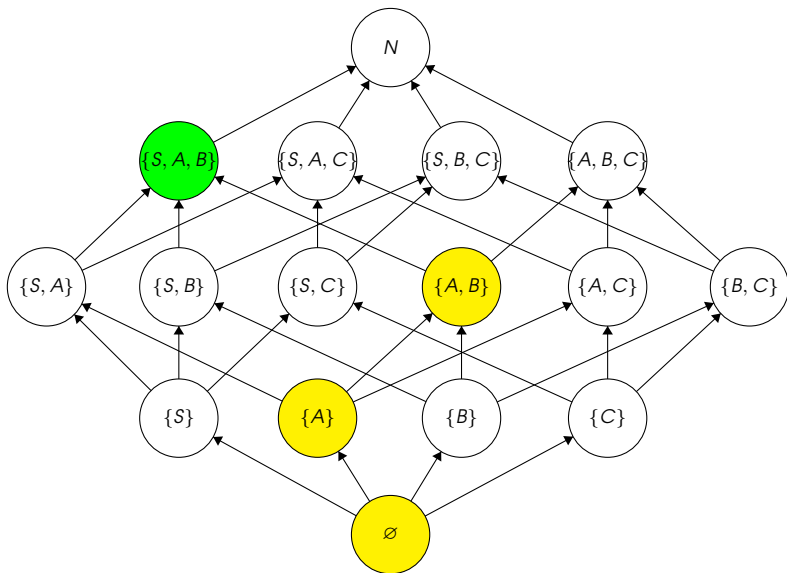




$$f^2(\emptyset) = f(\{A\}) = \{A, B\}$$



$$f^3(\emptyset) = f^2(\{A\}) = f(\{A, B\}) = \{A, B, S\}$$



$$f^4(\emptyset) = f^3(\{A\}) = f^2(\{A, B\}) = f(\{A, B, S\}) = \{A, B, S\}$$

## Konstrukce algoritmu zpřesňujícího odhad výsledku

Pro **BKG**  $G = (N, \Sigma, P, S)$  sestrojte algoritmus počítající množinu

$$N_{wa} = \{A \in N \mid \exists w \in \Sigma^* : A \Rightarrow_G^+ wa\}$$

## Konstrukce algoritmu zpřesňujícího odhad výsledku

Pro BKG  $G = (N, \Sigma, P, S)$  sestrojte algoritmus počítající množinu  
 $N_{wa} = \{A \in N \mid \exists w \in \Sigma^* : A \Rightarrow_G^+ wa\}$

## Idea

$$A \rightarrow \alpha \beta \gamma$$

- Hledáme pravidla typu  $A \rightarrow \alpha\beta\gamma$ , kde
  - $\alpha$  je přepsatelná na jakékoliv terminální symboly
  - $\beta$  nám garantuje, že vygeneruje větu se symbolem  $a$  vpravo
  - $\gamma$  je přepsatelná na  $\epsilon$

## Konstrukce algoritmu zpřesňujícího odhad výsledku

Pro BKG  $G = (N, \Sigma, P, S)$  sestrojte algoritmus počítající množinu  
 $N_{wa} = \{A \in N \mid \exists w \in \Sigma^* : A \Rightarrow_G^+ wa\}$

## Idea

$$A \rightarrow \alpha \beta \gamma$$

- Hledáme pravidla typu  $A \rightarrow \alpha\beta\gamma$ , kde
  - $\alpha$  je přepsatelná na jakékoliv terminální symboly
  - $\beta$  nám garantuje, že vygeneruje větu se symbolem  $a$  vpravo
  - $\gamma$  je přepsatelná na  $\epsilon$

## Pro výpočet potřebujeme množiny

- $N_\epsilon = \{A \in N \mid A \Rightarrow^* \epsilon\}$
- $N_f = \{A \in N \mid \exists w \in \Sigma^* : A \Rightarrow^* w\}$

## Konstrukce algoritmu zpřesňujícího odhad výsledku

Pro **BKG**  $G = (N, \Sigma, P, S)$  sestrojte algoritmus počítající množinu  
 $N_{wa} = \{A \in N \mid \exists w \in \Sigma^* : A \Rightarrow_G^+ wa\}$

## Analýza

- doména  $D = 2^N$

## Konstrukce algoritmu zpřesňujícího odhad výsledku

Pro **BKG**  $G = (N, \Sigma, P, S)$  sestrojte algoritmus počítající množinu  
 $N_{wa} = \{A \in N \mid \exists w \in \Sigma^* : A \Rightarrow_G^+ wa\}$

## Analýza

- doména  $D = 2^N$
- uspořádání  $\sqsubseteq = \subseteq$



## Konstrukce algoritmu zpřesňujícího odhad výsledku

Pro **BKG**  $G = (N, \Sigma, P, S)$  sestrojte algoritmus počítající množinu  
 $N_{wa} = \{A \in N \mid \exists w \in \Sigma^* : A \Rightarrow_G^+ wa\}$

## Analýza

- doména  $D = 2^N$
- uspořádání  $\sqsubseteq = \subseteq$
- výchozí hodnota  $\perp = \emptyset$

## Konstrukce algoritmu zpřesňujícího odhad výsledku

Pro **BKG**  $G = (N, \Sigma, P, S)$  sestrojte algoritmus počítající množinu  
 $N_{wa} = \{A \in N \mid \exists w \in \Sigma^* : A \Rightarrow_G^+ wa\}$

## Analýza

- doména  $D = 2^N$
- uspořádání  $\sqsubseteq = \subseteq$
- výchozí hodnota  $\perp = \emptyset$
- úplný svaz  $(2^N, \subseteq, \cup, \cap, N, \emptyset)$

## Konstrukce algoritmu zpřesňujícího odhad výsledku

Pro **BKG**  $G = (N, \Sigma, P, S)$  sestrojte algoritmus počítající množinu  
 $N_{wa} = \{A \in N \mid \exists w \in \Sigma^* : A \Rightarrow_G^+ wa\}$

## Analýza

- doména  $D = 2^N$
- uspořádání  $\sqsubseteq = \subseteq$
- výchozí hodnota  $\perp = \emptyset$
- úplný svaz  $(2^N, \subseteq, \cup, \cap, N, \emptyset)$
- zpřesňující funkce  $f : 2^N \rightarrow 2^N$  mon. rostoucí

## Konstrukce algoritmu zpřesňujícího odhad výsledku

Pro **BKG**  $G = (N, \Sigma, P, S)$  sestojte algoritmus počítající množinu  
 $N_{wa} = \{A \in N \mid \exists w \in \Sigma^* : A \Rightarrow_G^+ wa\}$

## Analýza

- doména  $D = 2^N$
- uspořádání  $\sqsubseteq = \subseteq$
- výchozí hodnota  $\perp = \emptyset$
- úplný svaz  $(2^N, \subseteq, \cup, \cap, N, \emptyset)$
- zpřesňující funkce  $f : 2^N \rightarrow 2^N$  mon. rostoucí
- $f(X) = \{A \in N \mid \exists (A, \alpha\beta\gamma) \in P : \alpha \in (N_f \cup \Sigma)^*, \beta \in (X \cup \{a\}) \wedge \gamma \in N_\epsilon^*\}$

## Konstrukce algoritmu zpřesňujícího odhad výsledku

Pro **BKG**  $G = (N, \Sigma, P, S)$  sestrojte algoritmus počítající množinu  
 $N_{wa} = \{A \in N \mid \exists w \in \Sigma^* : A \Rightarrow_G^+ wa\}$

## Analýza

- doména  $D = 2^N$
- uspořádání  $\sqsubseteq = \subseteq$
- výchozí hodnota  $\perp = \emptyset$
- úplný svaz  $(2^N, \subseteq, \cup, \cap, N, \emptyset)$
- zpřesňující funkce  $f : 2^N \rightarrow 2^N$  mon. rostoucí
- $f(X) = \{A \in N \mid \exists (A, \alpha\beta\gamma) \in P : \alpha \in (N_f \cup \Sigma)^*, \beta \in (X \cup \{a\}) \wedge \gamma \in N_e^*\}$
- hledáme nejmenší pevný bod  $f^k(\emptyset)$  funkce  $f$ ,  $k \in \mathbb{N}$

## Konstrukce algoritmu zpřesňujícího odhad výsledku

Pro BKG  $G = (N, \Sigma, P, S)$  sestrojte algoritmus počítající množinu

$$N_{wa} = \{A \in N \mid \exists w \in \Sigma^* : A \Rightarrow_G^+ wa\}$$

## Algoritmus

- Vstup: BKG  $G = (N, \Sigma, P, S)$ ,  $a \in \Sigma$
- Výstup: množina  $N_{wa} = \{A \in N \mid \exists w \in \Sigma^* : A \Rightarrow^* wa\}$
- Postup:
  - 1  $N_{wa}^0 = \emptyset, i = 0$
  - 2  $N_{wa}^{i+1} = \{A \in N \mid \exists (A \rightarrow \alpha) \in P : \alpha \in (N_t \cup \Sigma)^* (N_{wa}^i \cup \{a\}) N_\epsilon^*\}$
  - 3 pokud  $N_{wa}^{i+1} \neq N_{wa}^i$ 
    - $i = i + 1$
    - přejí na bod 2
  - 4  $N_{wa} = N_{wa}^i$

## Gramatika

- Demonstrujte algoritmus na BKG  $G = (N, \Sigma, P, S)$
- $N = \{S, A, B, C\}$
- $\Sigma = \{a, b, c\}$
- $P$ :
  - 1  $S \rightarrow ABBbCAS \mid bA \mid \epsilon$
  - 2  $A \rightarrow \epsilon \mid cA$
  - 3  $B \rightarrow bba \mid cB$
  - 4  $C \rightarrow aBA \mid Bc$

## Gramatika

- Demonstrujte algoritmus na BKG  $G = (N, \Sigma, P, S)$
- $N = \{S, A, B, C\}$
- $\Sigma = \{a, b, c\}$
- $P$ :
  - 1  $S \rightarrow ABBbCAS \mid bA \mid \epsilon$
  - 2  $A \rightarrow \epsilon \mid cA$
  - 3  $B \rightarrow bba \mid cB$
  - 4  $C \rightarrow aBA \mid Bc$

## Algoritmus

Postup:

- 1  $N_{wa}^0 = \emptyset, i = 0$
- 2  $N_{wa}^{i+1} = \{A \in N \mid \exists (A, \alpha) \in P : \alpha \in (N_T \cup \Sigma)^* (N_{wa}^i \cup \{a\}) N_\epsilon^*\}$
- 3 pokud  $N_{wa}^i \neq N_{wa}^{i+1}$ 
  - $i = i + 1$
  - přejdi na bod 2
- 4  $N_{wa} = N_{wa}^i$



## Gramatika

- Demonstrujte algoritmus na BKG  $G = (N, \Sigma, P, S)$
- $N = \{S, A, B, C\}$
- $\Sigma = \{a, b, c\}$
- $P$ :
  - 1  $S \rightarrow ABBbCAS \mid bA \mid \epsilon$
  - 2  $A \rightarrow \epsilon \mid cA$
  - 3  $B \rightarrow bba \mid cB$
  - 4  $C \rightarrow aBA \mid Bc$

## Množiny

$$N_\epsilon = \{A, S\}$$

$$N_t = \{A, B, C, S\}$$

## Algoritmus

Postup:

- 1  $N_{wa}^0 = \emptyset, i = 0$
- 2  $N_{wa}^{i+1} = \{A \in N \mid \exists (A, \alpha) \in P : \alpha \in (N_t \cup \Sigma)^*(N_{wa}^i \cup \{a\})N_\epsilon^*\}$
- 3 pokud  $N_{wa}^i \neq N_{wa}^{i+1}$ 
  - $i = i + 1$
  - přejdi na bod 2
- 4  $N_{wa} = N_{wa}^i$

## Gramatika

- Demonstrujte algoritmus na BKG  $G = (N, \Sigma, P, S)$
- $N = \{S, A, B, C\}$
- $\Sigma = \{a, b, c\}$
- $P$ :
  - 1  $S \rightarrow ABBbCAS \mid bA \mid \epsilon$
  - 2  $A \rightarrow \epsilon \mid cA$
  - 3  $B \rightarrow bba \mid cB$
  - 4  $C \rightarrow aBA \mid Bc$

## Množiny

$$N_\epsilon = \{A, S\}$$

$$N_t = \{A, B, C, S\}$$

## Algoritmus

Postup:

- 1  $N_{wa}^0 = \emptyset, i = 0$
- 2  $N_{wa}^{i+1} = \{A \in N \mid \exists (A, \alpha) \in P : \alpha \in (N_t \cup \Sigma)^* (N_{wa}^i \cup \{a\}) N_\epsilon^*\}$
- 3 pokud  $N_{wa}^i \neq N_{wa}^{i+1}$ 
  - $i = i + 1$
  - přejdi na bod 2
- 4  $N_{wa} = N_{wa}^i$

## Demonstrace

- $N_{wa}^0 = \emptyset$

## Gramatika

- Demonstrujte algoritmus na BKG  $G = (N, \Sigma, P, S)$
- $N = \{S, A, B, C\}$
- $\Sigma = \{a, b, c\}$
- $P$ :
  - 1  $S \rightarrow ABBbCAS \mid bA \mid \epsilon$
  - 2  $A \rightarrow \epsilon \mid cA$
  - 3  $B \rightarrow bba \mid cB$
  - 4  $C \rightarrow aBA \mid Bc$

## Množiny

$$N_\epsilon = \{A, S\}$$

$$N_f = \{A, B, C, S\}$$

## Algoritmus

Postup:

- 1  $N_{wa}^0 = \emptyset, i = 0$
- 2  $N_{wa}^{i+1} = \{A \in N \mid \exists (A, \alpha) \in P : \alpha \in (N_f \cup \Sigma)^*(N_{wa}^i \cup \{a\})N_\epsilon^*\}$
- 3 pokud  $N_{wa}^i \neq N_{wa}^{i+1}$ 
  - $i = i + 1$
  - přejdi na bod 2
- 4  $N_{wa} = N_{wa}^i$

## Demonstrace

- $N_{wa}^0 = \emptyset$
- $N_{wa}^1 = \{B\}$

## Gramatika

- Demonstrujte algoritmus na BKG  $G = (N, \Sigma, P, S)$
- $N = \{S, A, B, C\}$
- $\Sigma = \{a, b, c\}$
- $P$ :
  - 1  $S \rightarrow ABBbCAS \mid bA \mid \epsilon$
  - 2  $A \rightarrow \epsilon \mid cA$
  - 3  $B \rightarrow bba \mid cB$
  - 4  $C \rightarrow aBA \mid Bc$

## Množiny

$$N_\epsilon = \{A, S\}$$

$$N_t = \{A, B, C, S\}$$

## Algoritmus

Postup:

- 1  $N_{wa}^0 = \emptyset, i = 0$
- 2  $N_{wa}^{i+1} = \{A \in N \mid \exists (A, \alpha) \in P : \alpha \in (N_t \cup \Sigma)^*(N_{wa}^i \cup \{a\})N_\epsilon^*\}$
- 3 pokud  $N_{wa}^i \neq N_{wa}^{i+1}$ 
  - $i = i + 1$
  - přejdi na bod 2
- 4  $N_{wa} = N_{wa}^i$

## Demonstrace

- $N_{wa}^2 = \{B, C\}$

## Gramatika

- Demonstrujte algoritmus na BKG  $G = (N, \Sigma, P, S)$
- $N = \{S, A, B, C\}$
- $\Sigma = \{a, b, c\}$
- $P$ :
  - 1  $S \rightarrow ABBbCAS \mid bA \mid \epsilon$
  - 2  $A \rightarrow \epsilon \mid cA$
  - 3  $B \rightarrow bba \mid cB$
  - 4  $C \rightarrow aBA \mid Bc$

## Množiny

$$N_\epsilon = \{A, S\}$$

$$N_f = \{A, B, C, S\}$$

## Algoritmus

Postup:

- 1  $N_{wa}^0 = \emptyset, i = 0$
- 2  $N_{wa}^{i+1} = \{A \in N \mid \exists (A, \alpha) \in P : \alpha \in (N_f \cup \Sigma)^* (N_{wa}^i \cup \{a\}) N_\epsilon^*\}$
- 3 pokud  $N_{wa}^i \neq N_{wa}^{i+1}$ 
  - $i = i + 1$
  - přejdi na bod 2
- 4  $N_{wa} = N_{wa}^i$

## Demonstrace

- $N_{wa}^2 = \{B, C\}$
- $N_{wa}^3 = \{B, C, S\}$

## Gramatika

- Demonstrujte algoritmus na BKG  $G = (N, \Sigma, P, S)$
- $N = \{S, A, B, C\}$
- $\Sigma = \{a, b, c\}$
- $P$ :
  - 1  $S \rightarrow ABBbCAS \mid bA \mid \epsilon$
  - 2  $A \rightarrow \epsilon \mid cA$
  - 3  $B \rightarrow bba \mid cB$
  - 4  $C \rightarrow aBA \mid Bc$

## Algoritmus

Postup:

- 1  $N_{wa}^0 = \emptyset, i = 0$
- 2  $N_{wa}^{i+1} = \{A \in N \mid \exists (A, \alpha) \in P : \alpha \in (N_t \cup \Sigma)^*(N_{wa}^i \cup \{a\})N_\epsilon^*\}$
- 3 pokud  $N_{wa}^i \neq N_{wa}^{i+1}$ 
  - $i = i + 1$
  - přejdi na bod 2
- 4  $N_{wa} = N_{wa}^i$

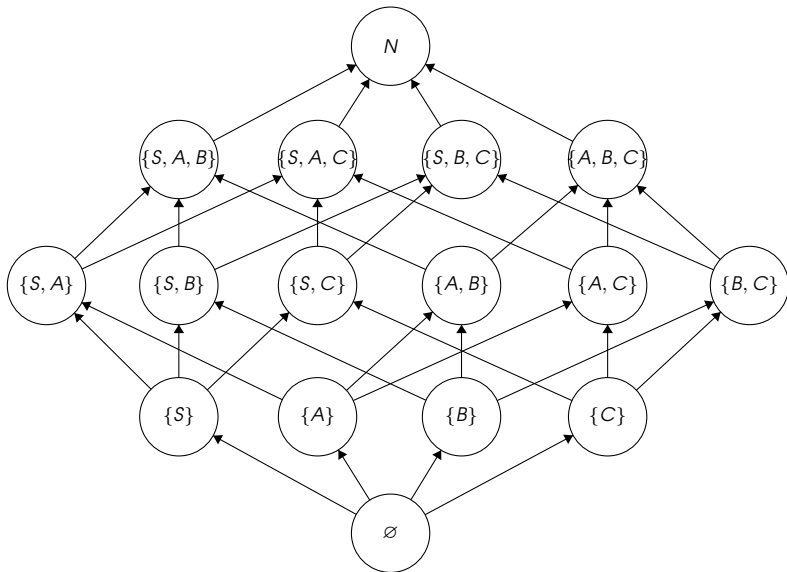
## Množiny

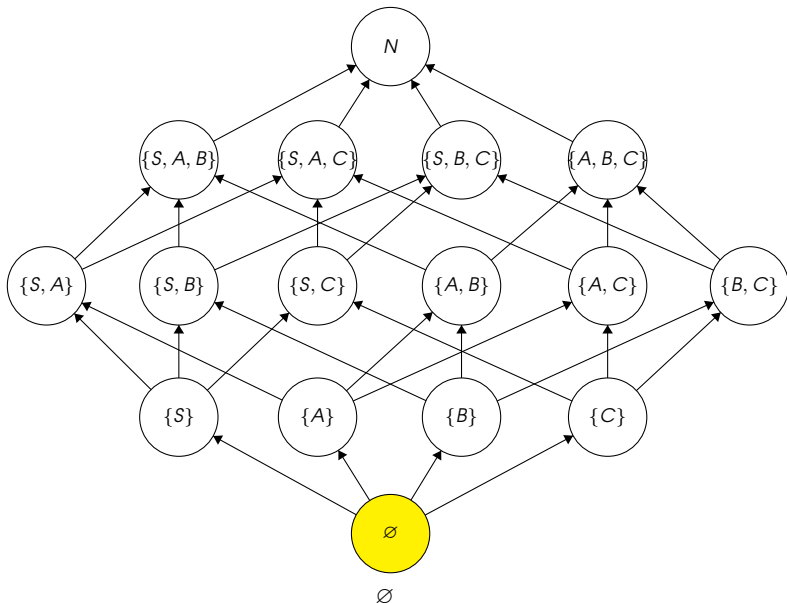
$$N_\epsilon = \{A, S\}$$

$$N_t = \{A, B, C, S\}$$

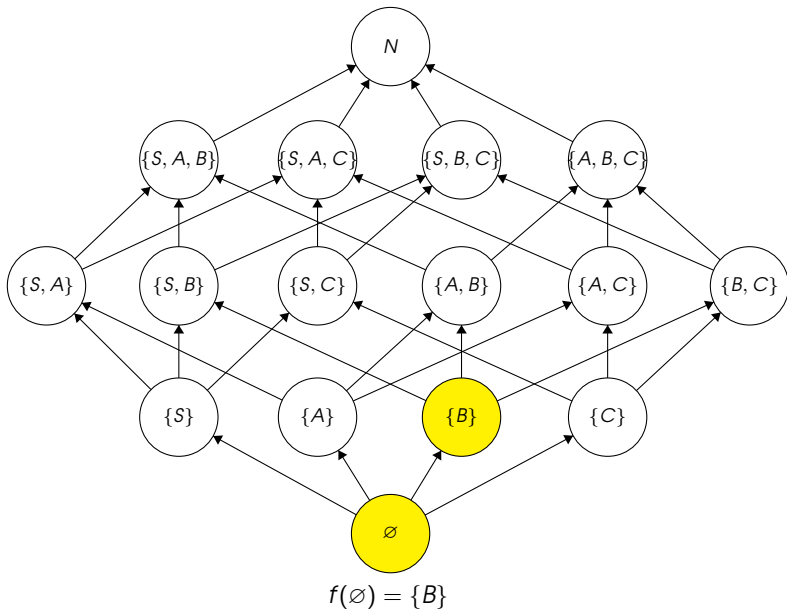
## Demonstrace

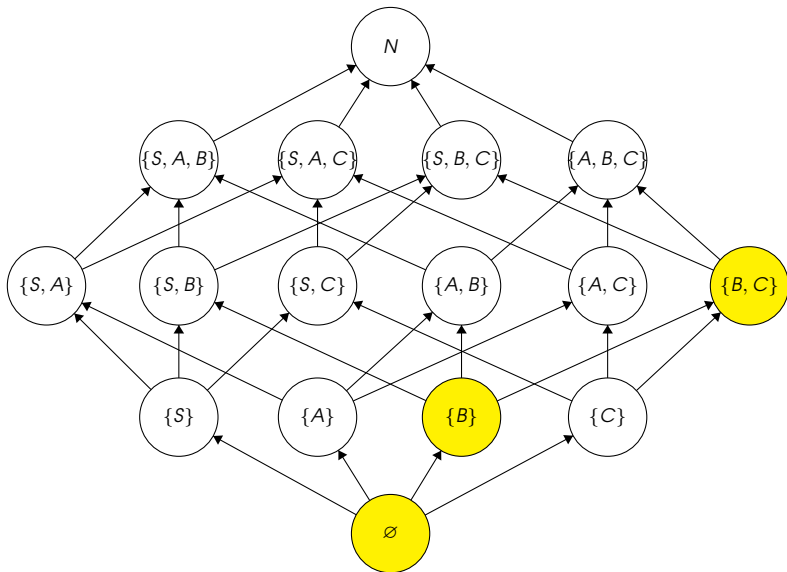
- $N_{wa}^4 = \{B, C, S\} = N_{wa}^3 = N_{wa}^2 = N_{wa}^1 = N_{wa}^0 = \emptyset$



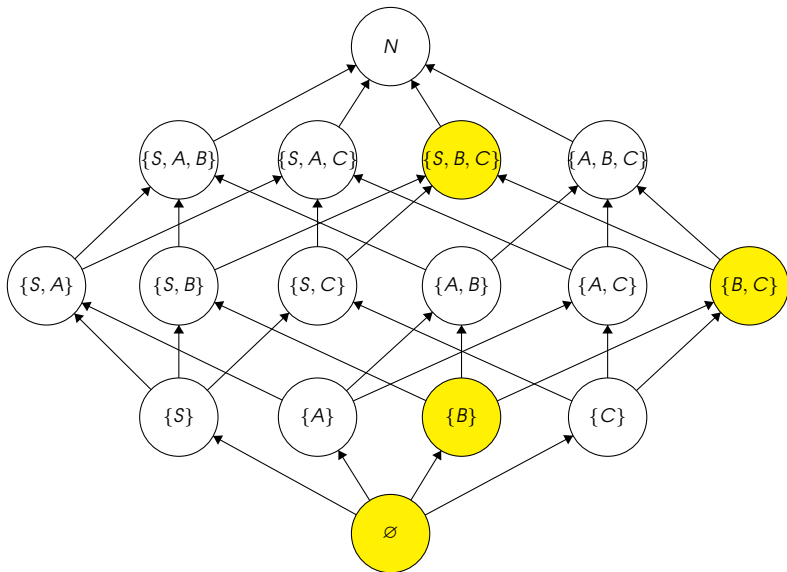




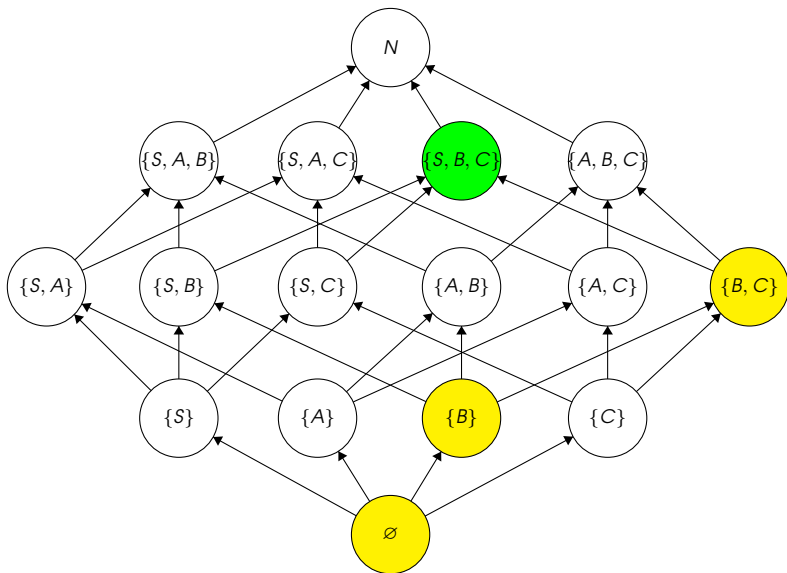




$$f^2(\emptyset) = f(\{B\}) = \{B, C\}$$



$$f^3(\emptyset) = f^2(\{B\}) = f(\{B, C\}) = \{B, C, S\}$$



$$f^4(\emptyset) = f^3(\{B\}) = f^2(\{B, C\}) = f(\{B, C, S\}) = \{B, C, S\}$$

Algoritmy využívající tranzitivní uzávěry relací

## Algoritmy využívající tranzitivní uzávěry relací

Sestrojte algoritmus, jenž rozhodne, zda daná bezkontextová gramatika  $G = (N, \Sigma, P, S)$  obsahuje cyklus

## Algoritmy využívající tranzitivní uzávěry relací

Sestrojte algoritmus, jenž rozhodne, zda daná bezkontextová gramatika  $G = (N, \Sigma, P, S)$  obsahuje cyklus

## Cyklus

- $G = (N, \Sigma, P, S), A \in N$
- $A$  má cyklus v  $G$ , pokud  $A \Rightarrow_G^+ A$

## Algoritmy využívající tranzitivní uzávěry relací

Sestrojte algoritmus, jenž rozhodne, zda daná bezkontextová gramatika  $G = (N, \Sigma, P, S)$  obsahuje cyklus

## Cyklus

- $G = (N, \Sigma, P, S), A \in N$
- $A$  má **cyklus** v  $G$ , pokud  $A \Rightarrow_G^+ A$

## Rekurze

- $G = (N, \Sigma, P, S), A \in N$
- $A$  má **rekurzi** v  $G$ , pokud  $A \Rightarrow_G^+ \alpha A \beta, \alpha, \beta \in (N \cup \Sigma)^*$



## Algoritmy využívající tranzitivní uzávěry relací

Sestrojte algoritmus, jenž rozhodne, zda daná bezkontextová gramatika  $G = (N, \Sigma, P, S)$  obsahuje cyklus

## Cyklus

- $G = (N, \Sigma, P, S), A \in N$
- $A$  má **cyklus** v  $G$ , pokud  $A \Rightarrow_G^+ A$

## Rekurze

- $G = (N, \Sigma, P, S), A \in N$
- $A$  má **rekurzi** v  $G$ , pokud  $A \Rightarrow_G^+ \alpha A \beta, \alpha, \beta \in (N \cup \Sigma)^*$

## Zdroje cyklu

- jednoduchá pravidla  $A \rightarrow A$
- $\epsilon$ -pravidla  $A \rightarrow AB, B \rightarrow \epsilon$

## Algoritmy využívající tranzitivní uzávěry relací

Sestrojte algoritmus, jenž rozhodne, zda daná bezkontextová gramatika  $G = (N, \Sigma, P, S)$  obsahuje cyklus

## Cyklus

- $G = (N, \Sigma, P, S), A \in N$
- $A$  má **cyklus** v  $G$ , pokud  $A \Rightarrow_G^+ A$

## Rekurze

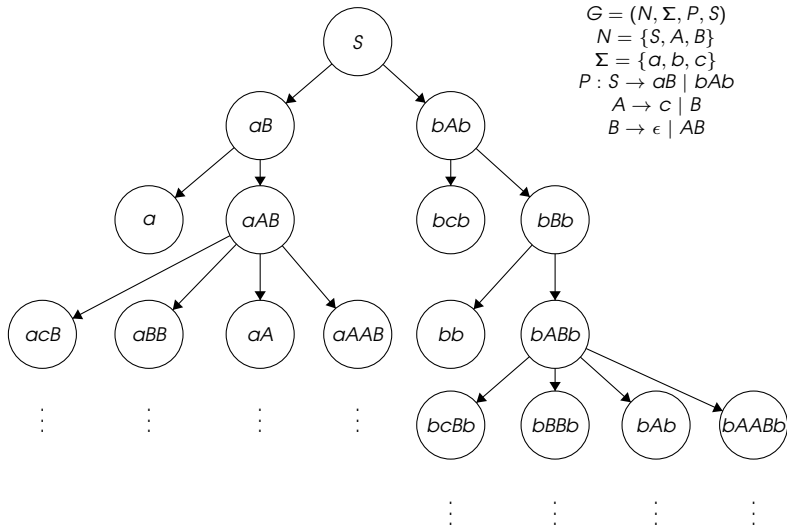
- $G = (N, \Sigma, P, S), A \in N$
- $A$  má **rekurzi** v  $G$ , pokud  $A \Rightarrow_G^+ \alpha A \beta, \alpha, \beta \in (N \cup \Sigma)^*$

## Zdroje cyklu

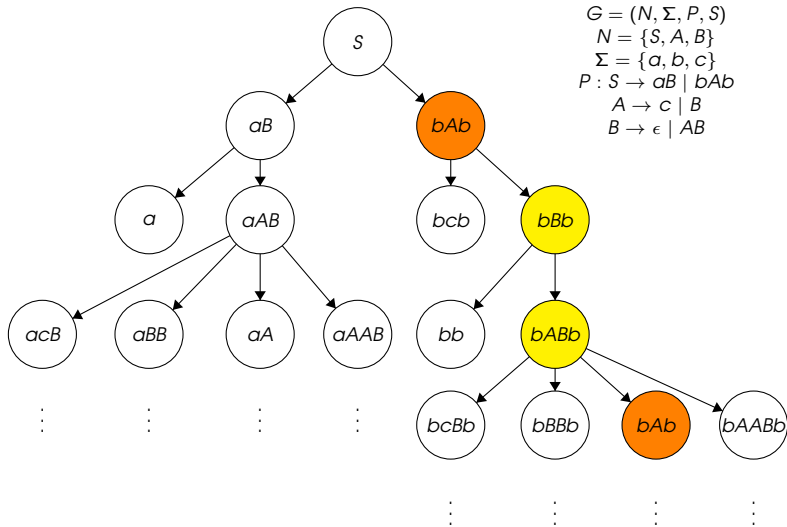
- jednoduchá pravidla  $A \rightarrow A$
- $\epsilon$ -pravidla  $A \rightarrow AB, B \rightarrow \epsilon$

## Ukázka cyklu

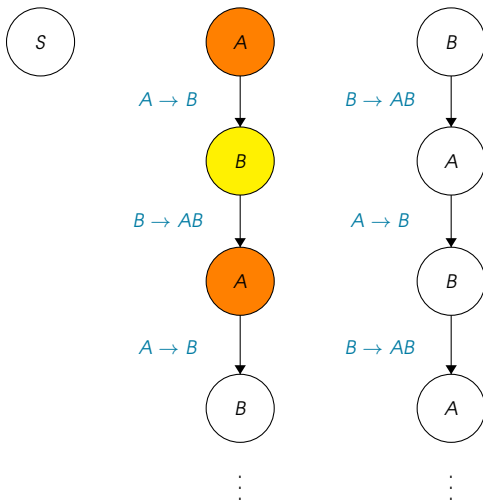
- $G = (\{S, A\}, \{a\}, P, S)$
- $P : S \rightarrow aSb \mid AA$
- $A \rightarrow \epsilon \mid A \mid AA \mid S$
- $A \Rightarrow_G A$
- $A \Rightarrow_G S \Rightarrow_G AA \Rightarrow_G A$



Obsahuje tato gramatika cyklus?



Obsahuje tato gramatika cyklus?



$$\begin{aligned}
 G &= (N, \Sigma, P, S) \\
 N &= \{S, A, B\} \\
 \Sigma &= \{a, b, c\} \\
 P &: S \rightarrow aB \mid bAb \\
 & \quad A \rightarrow c \mid B \\
 & \quad B \rightarrow \epsilon \mid AB
 \end{aligned}$$

Definujeme vhodnou relaci  $\lambda$  na množině neterminálů

## Algoritmy využívající tranzitivní uzávěry relací

**Sestrojte algoritmus, jenž rozhodne, zda daná bezkontextová gramatika  $G = (N, \Sigma, P, S)$  obsahuje cyklus**

## Algoritmy využívající tranzitivní uzávěry relací

**Sestrojte algoritmus, jenž rozhodne, zda daná bezkontextová gramatika  $G = (N, \Sigma, P, S)$  obsahuje cyklus**

## Algoritmus

**Vstup:** bezkontextová gramatika  $G = (N, \Sigma, P, S)$

## Algoritmy využívající tranzitivní uzávěry relací

**Sestrojte algoritmus, jenž rozhodne, zda daná bezkontextová gramatika  $G = (N, \Sigma, P, S)$  obsahuje cyklus**

## Algoritmus

**Vstup:** bezkontextová gramatika  $G = (N, \Sigma, P, S)$

**Výstup:** ANO, pokud  $\exists A \in N : A \Rightarrow^+ A$ , jinak NE



## Algoritmy využívající tranzitivní uzávěry relací

**Sestrojte algoritmus, jenž rozhodne, zda daná bezkontextová gramatika  $G = (N, \Sigma, P, S)$  obsahuje cyklus**

## Algoritmus

**Vstup:** bezkontextová gramatika  $G = (N, \Sigma, P, S)$

**Výstup:** ANO, pokud  $\exists A \in N : A \Rightarrow^+ A$ , jinak NE

**Postup:**

## Algoritmy využívající tranzitivní uzávěry relací

**Sestrojte algoritmus, jenž rozhodne, zda daná bezkontextová gramatika  $G = (N, \Sigma, P, S)$  obsahuje cyklus**

## Algoritmus

**Vstup:** bezkontextová gramatika  $G = (N, \Sigma, P, S)$

**Výstup:** ANO, pokud  $\exists A \in N : A \Rightarrow^+ A$ , jinak NE

**Postup:**

- 1 Najdi množinu  $N_\epsilon$

## Algoritmy využívající tranzitivní uzávěry relací

Sestrojte algoritmus, jenž rozhodne, zda daná bezkontextová gramatika  $G = (N, \Sigma, P, S)$  obsahuje cyklus

## Algoritmus

**Vstup:** bezkontextová gramatika  $G = (N, \Sigma, P, S)$

**Výstup:** ANO, pokud  $\exists A \in N : A \Rightarrow^+ A$ , jinak NE

**Postup:**

- 1 Najdi množinu  $N_\epsilon$
- 2 Spočti relaci  $\lambda \subseteq N \times N$  definovanou následovně:  
$$\forall A, B \in N : A\lambda B \Leftrightarrow \exists (A, \alpha B\beta) \in P : \alpha, \beta \in (N_\epsilon)^*$$

## Algoritmy využívající tranzitivní uzávěry relací

Sestrojte algoritmus, jenž rozhodne, zda daná bezkontextová gramatika  $G = (N, \Sigma, P, S)$  obsahuje cyklus

## Algoritmus

**Vstup:** bezkontextová gramatika  $G = (N, \Sigma, P, S)$

**Výstup:** ANO, pokud  $\exists A \in N : A \Rightarrow^+ A$ , jinak NE

**Postup:**

- 1 Najdi množinu  $N_\epsilon$
- 2 Spočti relaci  $\lambda \subseteq N \times N$  definovanou následovně:  
$$\forall A, B \in N : A\lambda B \Leftrightarrow \exists (A, \alpha B\beta) \in P : \alpha, \beta \in (N_\epsilon)^*$$
- 3 Spočti  $\lambda^+$  (tranzitivní uzávěr relace  $\lambda$ )

## Algoritmy využívající tranzitivní uzávěry relací

Sestrojte algoritmus, jenž rozhodne, zda daná bezkontextová gramatika  $G = (N, \Sigma, P, S)$  obsahuje cyklus

## Algoritmus

**Vstup:** bezkontextová gramatika  $G = (N, \Sigma, P, S)$

**Výstup:** ANO, pokud  $\exists A \in N : A \Rightarrow^+ A$ , jinak NE

**Postup:**

- 1 Najdi množinu  $N_\epsilon$
- 2 Spočti relaci  $\lambda \subseteq N \times N$  definovanou následovně:  
 $\forall A, B \in N : A\lambda B \Leftrightarrow \exists (A, \alpha B\beta) \in P : \alpha, \beta \in (N_\epsilon)^*$
- 3 Spočti  $\lambda^+$  (tranzitivní uzávěr relace  $\lambda$ )
- 4 Pokud je  $\lambda^+$  ireflexivní, vrať NE, jinak vrať ANO

## Demonstrace algoritmu

- Demonstrujte algoritmus na BKG  $G = (N, \Sigma, P, S)$ , kde

①  $N = \{S, A, B, C\}$

②  $\Sigma = \{a, b, c\}$

③  $P :$

- $S \rightarrow AB \mid Aa$
- $A \rightarrow \epsilon \mid aAb$
- $B \rightarrow C \mid cAc$
- $C \rightarrow AA \mid ASA$

## Demonstrace algoritmu

- Demonstrujte algoritmus na BKG  $G = (N, \Sigma, P, S)$ , kde

①  $N = \{S, A, B, C\}$

②  $\Sigma = \{a, b, c\}$

③  $P$ :

- $S \rightarrow AB \mid Aa$
- $A \rightarrow \epsilon \mid aAb$
- $B \rightarrow C \mid cAc$
- $C \rightarrow AA \mid ASA$

## Výpočet

## Demonstrace algoritmu

- Demonstrujte algoritmus na BKG  $G = (N, \Sigma, P, S)$ , kde

- $N = \{S, A, B, C\}$

- $\Sigma = \{a, b, c\}$

- $P$ :

- $S \rightarrow AB \mid Aa$
- $A \rightarrow \epsilon \mid aAb$
- $B \rightarrow C \mid cAc$
- $C \rightarrow AA \mid ASA$

- $N_\epsilon^0 = \emptyset$
- $N_\epsilon^1 = \{A\}$
- $N_\epsilon^2 = \{A, C\}$
- $N_\epsilon^3 = \{A, C, B\}$
- $N_\epsilon^4 = \{A, C, B, S\}$
- $N_\epsilon^5 = N_\epsilon^4 = N_\epsilon$

## Výpočet

- $N_\epsilon = \{S, A, B, C\}$



## Demonstrace algoritmu

- Demonstrujte algoritmus na BKG  $G = (N, \Sigma, P, S)$ , kde

1  $N = \{S, A, B, C\}$

2  $\Sigma = \{a, b, c\}$

3  $P$ :

- $S \rightarrow AB \mid Aa$
- $A \rightarrow \epsilon \mid aAb$
- $B \rightarrow C \mid cAc$
- $C \rightarrow AA \mid ASA$

A

B

C

S

## Výpočet

1  $N_\epsilon = \{S, A, B, C\}$

2  $\lambda = \{ \}$

## Demonstrace algoritmu

- Demonstrujte algoritmus na BKG  $G = (N, \Sigma, P, S)$ , kde

1  $N = \{S, A, B, C\}$

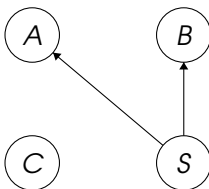
2  $\Sigma = \{a, b, c\}$

3  $P$ :

- $S \rightarrow AB \mid Aa$
- $A \rightarrow \epsilon \mid aAb$
- $B \rightarrow C \mid cAc$
- $C \rightarrow AA \mid ASA$

## Výpočet

- $N_\epsilon = \{S, A, B, C\}$
- $\lambda = \{(S, A), (S, B)\}$



## Demonstrace algoritmu

- Demonstrujte algoritmus na BKG  $G = (N, \Sigma, P, S)$ , kde

- $N = \{S, A, B, C\}$

- $\Sigma = \{a, b, c\}$

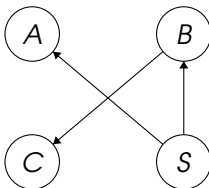
- $P$ :

- $S \rightarrow AB \mid Aa$
- $A \rightarrow \epsilon \mid aAb$
- $B \rightarrow C \mid cAc$
- $C \rightarrow AA \mid ASA$

## Výpočet

- $N_\epsilon = \{S, A, B, C\}$

- $\lambda = \{(S, A), (S, B), (B, C)\}$



## Demonstrace algoritmu

- Demonstrujte algoritmus na BKG  $G = (N, \Sigma, P, S)$ , kde

1  $N = \{S, A, B, C\}$

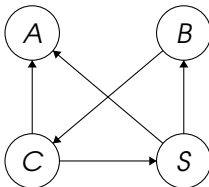
2  $\Sigma = \{a, b, c\}$

3  $P$ :

- $S \rightarrow AB \mid Aa$
- $A \rightarrow \epsilon \mid aAb$
- $B \rightarrow C \mid cAc$
- $C \rightarrow AA \mid ASA$

## Výpočet

- 1  $N_\epsilon = \{S, A, B, C\}$
- 2  $\lambda = \{(S, A), (S, B), (B, C), (C, A), (C, S)\}$



## Demonstrace algoritmu

- Demonstrujte algoritmus na BKG  $G = (N, \Sigma, P, S)$ , kde

1  $N = \{S, A, B, C\}$

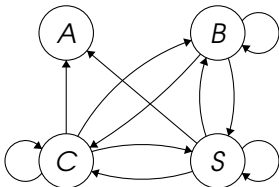
2  $\Sigma = \{a, b, c\}$

3  $P$ :

- $S \rightarrow AB \mid Aa$
- $A \rightarrow \epsilon \mid aAb$
- $B \rightarrow C \mid cAc$
- $C \rightarrow AA \mid ASA$

## Výpočet

- $N_\epsilon = \{S, A, B, C\}$
- $\lambda = \{(S, A), (S, B), (B, C), (C, A), (C, S)\}$
- $\lambda^+ = \lambda \cup \{(B, S), (B, B), (S, C), (S, S), (C, B), (C, C)\}$



## Demonstrace algoritmu

- Demonstrujte algoritmus na BKG  $G = (N, \Sigma, P, S)$ , kde

1  $N = \{S, A, B, C\}$

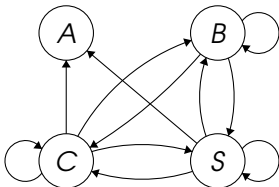
2  $\Sigma = \{a, b, c\}$

3  $P$ :

- $S \rightarrow AB \mid Aa$
- $A \rightarrow \epsilon \mid aAb$
- $B \rightarrow C \mid cAc$
- $C \rightarrow AA \mid ASA$

## Výpočet

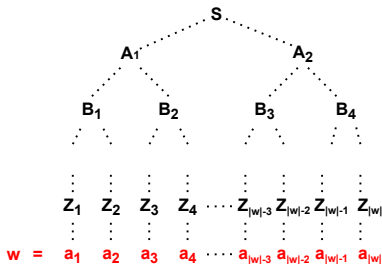
- $N_\epsilon = \{S, A, B, C\}$
- $\lambda = \{(S, A), (S, B), (B, C), (C, A), (C, S)\}$
- $\lambda^+ = \lambda \cup \{(B, S), (B, B), (S, C), (S, S), (C, B), (C, C)\}$
- $\lambda^+$  není ireflexivní, gramatika  $G$  má cyklus v neterminálech  $B, C, S$



Pumping lemma pro bezkontextové jazyky

## Chomského normální forma

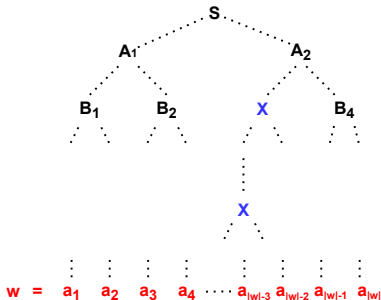
- $G = (N, \Sigma, P, S)$
- $G$  je v Chomského normální formě (CNF), pokud jsou pravidla v  $P$  ve tvaru:
  - 1  $A \rightarrow BC, A, B, C \in N$
  - 2  $A \rightarrow a, A \in N, a \in \Sigma$
  - 3  $S \rightarrow \epsilon$ , pokud  $S$  není na pravé straně žádného pravidla
- pokud má derivační strom pro slovo  $w \in L(G)$  výšku  $n - 1$ , pak  $|w| \leq 2^{n-2}$

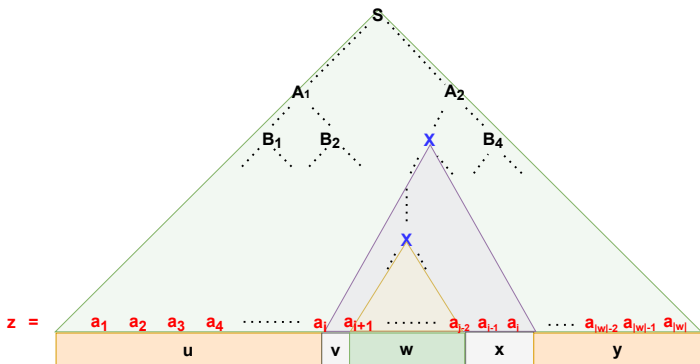




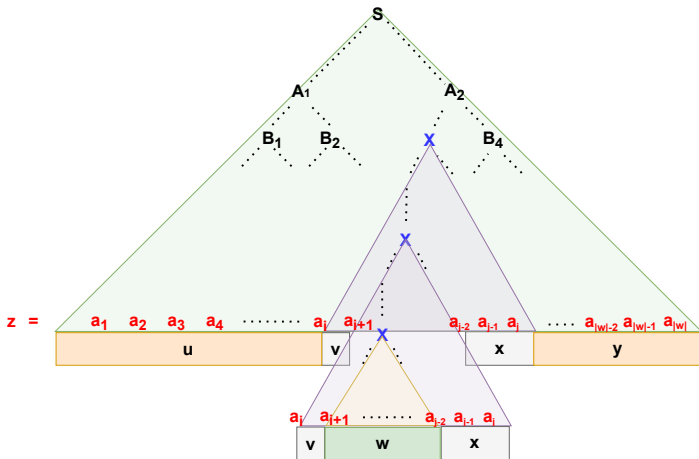
## Opakování neterminálu na nejdelší cestě z kořenu k listu

- mějme  $G = (N, \Sigma, P, S)$  v *CNF*, kde  $L(G)$  je nekonečný jazyk
- mějme řetězec  $w \in L(G)$ ,  $|w| \geq 2^{|N|}$
- $|w| \leq 2^{n-2}$ , kde výška derivačního stromu je  $n - 1$
- $2^{|N|} \leq |w| \leq 2^{n-2} \Rightarrow |N| + 2 \leq n$
- některý neterminál se na některé cestě od kořene k listu objeví alespoň dvakrát

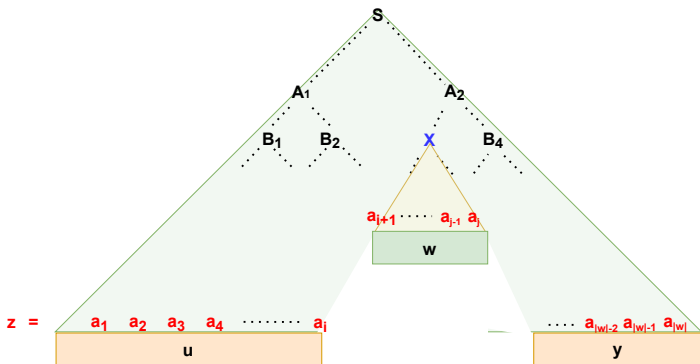




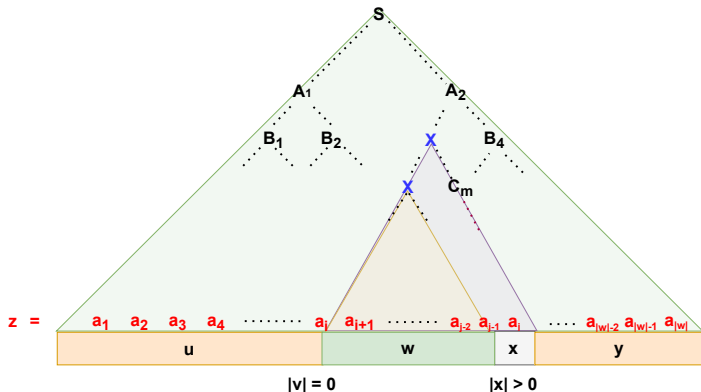
$$S \Rightarrow^+ uXy \Rightarrow^+ uvXxy \Rightarrow^+ uvwxy$$



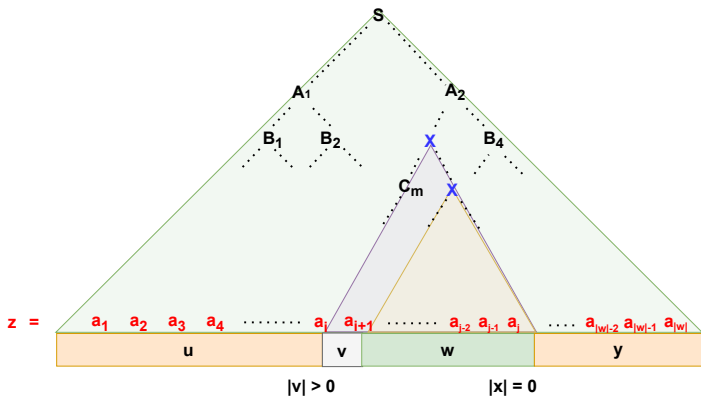
$$S \Rightarrow^+ uXy \Rightarrow^+ uvXxy \Rightarrow^+ uv^2Xx^2y \Rightarrow^+ uv^2wx^2y$$



$$S \Rightarrow^+ uXy \Rightarrow^+ uwy$$



Alespoň jedna z částí  $v, x$  bude vždy neprázdná.



Alespoň jedna z částí  $v, x$  bude vždy neprázdná.

Znění Pumping lemmatu pro  $\mathcal{L}_2$ 

$$L \in \mathcal{L}_2 \implies ( \exists k \in \mathbb{N}^+ : \forall z \in \Sigma^* : z \in L \wedge |z| \geq k \implies \\ (\exists u, v, w, x, y \in \Sigma^* : uvwxy = z \wedge |vx| > 0 \\ \wedge |vwx| \leq k \wedge \forall i \in \mathbb{N} : uv^iwx^iy \in L ) )$$

## Obměněná věta

$$(\varphi \implies \psi) \Leftrightarrow (\neg\psi \implies \neg\varphi)$$

Znění Pumping lemmatu pro  $\mathcal{L}_2$  ve tvaru obměněné věty

$$( \forall k \in \mathbb{N}^+ : \exists z \in \Sigma^* : z \in L \wedge |z| \geq k \wedge \\ (\forall u, v, w, x, y \in \Sigma^* : uvwxy = z \wedge \\ |vx| > 0 \wedge |vwx| \leq k \implies \exists i \in \mathbb{N} : \\ uv^iwx^iy \notin L ) ) \implies L \notin \mathcal{L}_2$$

## Pumping lemma pro bezkontextové jazyky

**Dokažte, že**  $L = \{w \in \{a, b, c\}^* \mid \#_a(w) > \#_b(w) > \#_c(w)\} \notin \mathcal{L}_2$



## Pumping lemma pro bezkontextové jazyky

**Dokažte, že**  $L = \{w \in \{a, b, c\}^* \mid \#_a(w) > \#_b(w) > \#_c(w)\} \notin \mathcal{L}_2$

## Postup (neformálně)

- 1 Uvažujeme o každém kladném přirozeném čísle  $k$

## Pumping lemma pro bezkontextové jazyky

**Dokažte, že**  $L = \{w \in \{a, b, c\}^* \mid \#_a(w) > \#_b(w) > \#_c(w)\} \notin \mathcal{L}_2$

## Postup (neformálně)

- 1 Uvažujeme o každém kladném přirozeném čísle  $k$
- 2 Zvolíme slovo  $z \in \{a, b, c\}^*$  parametricky závislé na  $k$  tak, aby  $|z| \geq k$  a  $z \in L$

## Pumping lemma pro bezkontextové jazyky

**Dokažte, že**  $L = \{w \in \{a, b, c\}^* \mid \#_a(w) > \#_b(w) > \#_c(w)\} \notin \mathcal{L}_2$

## Postup (neformálně)

- 1 Uvažujeme o každém kladném přirozeném čísle  $k$
- 2 Zvolíme slovo  $z \in \{a, b, c\}^*$  parametricky závislé na  $k$  tak, aby  $|z| \geq k$  a  $z \in L$
- 3 Uvažujeme o všech možných rozděleních slova  $z$  na pět částí  $u, v, w, x, y$ , kde  $uvwxy = z$ ,  $|vx| > 0$  a  $|vwx| \leq k$

## Pumping lemma pro bezkontextové jazyky

**Dokažte, že**  $L = \{w \in \{a, b, c\}^* \mid \#_a(w) > \#_b(w) > \#_c(w)\} \notin \mathcal{L}_2$

## Postup (neformálně)

- 1 Uvažujeme o každém kladném přirozeném čísle  $k$
- 2 Zvolíme slovo  $z \in \{a, b, c\}^*$  parametricky závislé na  $k$  tak, aby  $|z| \geq k$  a  $z \in L$
- 3 Uvažujeme o všech možných rozděleních slova  $z$  na pět částí  $u, v, w, x, y$ , kde  $uvwxy = z$ ,  $|vx| > 0$  a  $|vwx| \leq k$
- 4 Pro každé takové rozdělení najdeme přirozené číslo  $i$  tak, aby  $uv^iwx^iy \notin L$

## Pumping lemma pro bezkontextové jazyky

**Dokažte, že**  $L = \{w \in \{a, b, c\}^* \mid \#_a(w) > \#_b(w) > \#_c(w)\} \notin \mathcal{L}_2$

## Postup (neformálně)

- 1 Uvažujeme o každém kladném přirozeném čísle  $k$
- 2 Zvolíme slovo  $z \in \{a, b, c\}^*$  parametricky závislé na  $k$  tak, aby  $|z| \geq k$  a  $z \in L$
- 3 Uvažujeme o všech možných rozděleních slova  $z$  na pět částí  $u, v, w, x, y$ , kde  $uvwxy = z$ ,  $|vx| > 0$  a  $|vwx| \leq k$
- 4 Pro každé takové rozdělení najdeme přirozené číslo  $i$  tak, aby  $uv^iwx^iy \notin L$
- 5 Pokud se nám to povede, ukážeme tím, že  $L \notin \mathcal{L}_2$

## Pumping lemma pro bezkontextové jazyky

**Dokažte, že**  $L = \{w \in \{a, b, c\}^* \mid \#_a(w) > \#_b(w) > \#_c(w)\} \notin \mathcal{L}_2$

## Pumping lemma pro bezkontextové jazyky

**Dokažte, že**  $L = \{w \in \{a, b, c\}^* \mid \#_a(w) > \#_b(w) > \#_c(w)\} \notin \mathcal{L}_2$

## Volba a rozdělení slova


**zvolíme slovo**  $z = a^{k+2}b^{k+1}c^k$

## Pumping lemma pro bezkontextové jazyky

Dokažte, že  $L = \{w \in \{a, b, c\}^* \mid \#_a(w) > \#_b(w) > \#_c(w)\} \notin \mathcal{L}_2$

## Volba a rozdělení slova

zvolíme slovo  $z = a^{k+2}b^{k+1}c^k$



Různých typů rozdělení je příliš mnoho.



## Pumping lemma pro bezkontextové jazyky

Dokažte, že  $L = \{w \in \{a, b, c\}^* \mid \#_a(w) > \#_b(w) > \#_c(w)\} \notin \mathcal{L}_2$

## Volba a rozdělení slova

zvolíme slovo  $z = a^{k+2}b^{k+1}c^k$

$a^{k+2}$	$b^{k+1}$	$c^k$
-----------	-----------	-------

u	v	w	x	y
---	---	---	---	---

Různých typů rozdělení je příliš mnoho.

## Pumping lemma pro bezkontextové jazyky

Dokažte, že  $L = \{w \in \{a, b, c\}^* \mid \#_a(w) > \#_b(w) > \#_c(w)\} \notin \mathcal{L}_2$

## Volba a rozdělení slova

zvolíme slovo  $z = a^{k+2}b^{k+1}c^k$

$a^{k+2}$	$b^{k+1}$	$c^k$
-----------	-----------	-------

u	v	w	x	y
---	---	---	---	---

Různých typů rozdělení je příliš mnoho.

## Pumping lemma pro bezkontextové jazyky

Dokažte, že  $L = \{w \in \{a, b, c\}^* \mid \#_a(w) > \#_b(w) > \#_c(w)\} \notin \mathcal{L}_2$

## Volba a rozdělení slova

zvolíme slovo  $z = a^{k+2}b^{k+1}c^k$

$a^{k+2}$	$b^{k+1}$	$c^k$
-----------	-----------	-------

u	v	w	x	y
---	---	---	---	---

Různých typů rozdělení je příliš mnoho.

## Pumping lemma pro bezkontextové jazyky

Dokažte, že  $L = \{w \in \{a, b, c\}^* \mid \#_a(w) > \#_b(w) > \#_c(w)\} \notin \mathcal{L}_2$

## Volba a rozdělení slova

zvolíme slovo  $z = a^{k+2}b^{k+1}c^k$

$a^{k+2}$	$b^{k+1}$	$c^k$
-----------	-----------	-------

u	v	w	x	y
---	---	---	---	---

Různých typů rozdělení je příliš mnoho.

## Pumping lemma pro bezkontextové jazyky

**Dokažte, že**  $L = \{w \in \{a, b, c\}^* \mid \#_a(w) > \#_b(w) > \#_c(w)\} \notin \mathcal{L}_2$

## Volba a rozdělení slova

zvolíme slovo  $z = a^{k+2}b^{k+1}c^k$

$a^{k+2}$	$b^{k+1}$	$c^k$
-----------	-----------	-------

u	v	w	x	y
---	---	---	---	---

Různých typů rozdělení je příliš mnoho.

## Pumping lemma pro bezkontextové jazyky

Dokažte, že  $L = \{w \in \{a, b, c\}^* \mid \#_a(w) > \#_b(w) > \#_c(w)\} \notin \mathcal{L}_2$

## Volba a rozdělení slova

zvolíme slovo  $z = a^{k+2}b^{k+1}c^k$

$a^{k+2}$	$b^{k+1}$	$c^k$
-----------	-----------	-------

u	v	w	x	y
---	---	---	---	---

Různých typů rozdělení je příliš mnoho.

## Pumping lemma pro bezkontextové jazyky

**Dokažte, že**  $L = \{w \in \{a, b, c\}^* \mid \#_a(w) > \#_b(w) > \#_c(w)\} \notin \mathcal{L}_2$

## Volba a rozdělení slova

zvolíme slovo  $z = a^{k+2}b^{k+1}c^k$

$a^{k+2}$	$b^{k+1}$	$c^k$
-----------	-----------	-------

$u$	$v$	$w$	$x$	$y$
-----	-----	-----	-----	-----

Různých typů rozdělení je příliš mnoho.

## Pumping lemma pro bezkontextové jazyky

**Dokažte, že**  $L = \{w \in \{a, b, c\}^* \mid \#_a(w) > \#_b(w) > \#_c(w)\} \notin \mathcal{L}_2$

## Volba a rozdělení slova

zvolíme slovo  $z = a^{k+2}b^{k+1}c^k$

$a^{k+2}$	$b^{k+1}$	$c^k$
-----------	-----------	-------

$u$	$v$	$w$	$x$	$y$
-----	-----	-----	-----	-----

Různých typů rozdělení je příliš mnoho.



## Pumping lemma pro bezkontextové jazyky

**Dokažte, že**  $L = \{w \in \{a, b, c\}^* \mid \#_a(w) > \#_b(w) > \#_c(w)\} \notin \mathcal{L}_2$

## Řešení

- 1 Uvažujeme o libovolném kladném přirozeném  $k$

## Pumping lemma pro bezkontextové jazyky

**Dokažte, že**  $L = \{w \in \{a, b, c\}^* \mid \#_a(w) > \#_b(w) > \#_c(w)\} \notin \mathcal{L}_2$

## Řešení

- 1 Uvažujeme o libovolném kladném přirozeném  $k$
- 2 Zvolíme pro každé takové  $k$  slovo  $z = a^{k+2}b^{k+1}c^k$

## Pumping lemma pro bezkontextové jazyky

**Dokažte, že**  $L = \{w \in \{a, b, c\}^* \mid \#_a(w) > \#_b(w) > \#_c(w)\} \notin \mathcal{L}_2$

## Řešení

- 1 Uvažujeme o libovolném kladném přirozeném  $k$
- 2 Zvolíme pro každé takové  $k$  slovo  $z = a^{k+2}b^{k+1}c^k$
- 3 Určitě platí, že  $z \in L$  a  $|z| \geq k$
- 4 Pro každé takové slovo uvažujme o všech možných rozděleních na 5 částí  $u, v, w, x, y$ , kde  $uvwxy = z$ ,  $|vx| > 0$  a  $|vwx| \leq k$

## Pumping lemma pro bezkontextové jazyky

**Dokažte, že**  $L = \{w \in \{a, b, c\}^* \mid \#_a(w) > \#_b(w) > \#_c(w)\} \notin \mathcal{L}_2$

## Řešení

- 1 Uvažujeme o libovolném kladném přirozeném  $k$
- 2 Zvolíme pro každé takové  $k$  slovo  $z = a^{k+2}b^{k+1}c^k$
- 3 Určitě platí, že  $z \in L$  a  $|z| \geq k$
- 4 Pro každé takové slovo uvažujme o všech možných rozděleních na 5 částí  $u, v, w, x, y$ , kde  $uvwxy = z$ ,  $|vx| > 0$  a  $|vwx| \leq k$
- 5 Taková rozdělení můžeme roztřídit do tří skupin:

## Pumping lemma pro bezkontextové jazyky

**Dokažte, že**  $L = \{w \in \{a, b, c\}^* \mid \#_a(w) > \#_b(w) > \#_c(w)\} \notin \mathcal{L}_2$

## Řešení

- 1 Uvažujeme o libovolném kladném přirozeném  $k$
- 2 Zvolíme pro každé takové  $k$  slovo  $z = a^{k+2}b^{k+1}c^k$
- 3 Určitě platí, že  $z \in L$  a  $|z| \geq k$
- 4 Pro každé takové slovo uvažujme o všech možných rozděleních na 5 částí  $u, v, w, x, y$ , kde  $uvwxy = z$ ,  $|vx| > 0$  a  $|vwx| \leq k$
- 5 Taková rozdělení můžeme rozřadit do tří skupin:
  - $vx$  obsahuje pouze symboly  $a$
  - $vx$  obsahuje alespoň jeden symbol  $b$  a neobsahuje symbol  $c$
  - $vx$  obsahuje alespoň jeden symbol  $c$

## Pumping lemma pro bezkontextové jazyky

**Dokažte, že**  $L = \{w \in \{a, b, c\}^* \mid \#_a(w) > \#_b(w) > \#_c(w)\} \notin \mathcal{L}_2$

## Řešení

- 6 vx obsahuje pouze symboly  $a$

## Pumping lemma pro bezkontextové jazyky

Dokažte, že  $L = \{w \in \{a, b, c\}^* \mid \#_a(w) > \#_b(w) > \#_c(w)\} \notin \mathcal{L}_2$

## Řešení

6  $vx$  obsahuje pouze symboly  $a$

- zvolíme  $i = 0$
- ve slově  $uv^iwx^iy = uv^0wx^0y$  dojde k narušení podmínky  $\#_a(w) > \#_b(w)$
- pracujeme totiž s řetězcem  $z = a^{k+2}b^{k+1}c^k$  a  $|vx| > 0$

## Pumping lemma pro bezkontextové jazyky

**Dokažte, že**  $L = \{w \in \{a, b, c\}^* \mid \#_a(w) > \#_b(w) > \#_c(w)\} \notin \mathcal{L}_2$

## Řešení

6  $vx$  obsahuje pouze symboly  $a$

- zvolíme  $i = 0$
- ve slově  $uv^iwx^iy = uv^0wx^0y$  dojde k narušení podmínky  $\#_a(w) > \#_b(w)$
- pracujeme totiž s řetězcem  $z = a^{k+2}b^{k+1}c^k$  a  $|vx| > 0$

$a^{k+2}$	$b^{k+1}$	$c^k$
-----------	-----------	-------

$u$	$v$	$w$	$x$	$y$
-----	-----	-----	-----	-----



## Pumping lemma pro bezkontextové jazyky

**Dokažte, že**  $L = \{w \in \{a, b, c\}^* \mid \#_a(w) > \#_b(w) > \#_c(w)\} \notin \mathcal{L}_2$

## Řešení

- 7  $vx$  obsahuje alespoň jeden symbol  $b$  a neobsahuje  $c$

## Pumping lemma pro bezkontextové jazyky

Dokažte, že  $L = \{w \in \{a, b, c\}^* \mid \#_a(w) > \#_b(w) > \#_c(w)\} \notin \mathcal{L}_2$

## Řešení

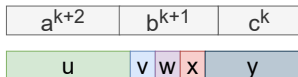
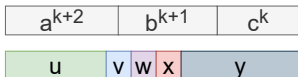
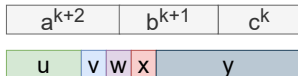
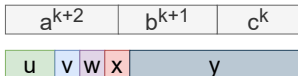
- $vx$  obsahuje alespoň jeden symbol  $b$  a neobsahuje  $c$ 
  - zvolíme  $i = 0$
  - ve slově  $uv^iwx^i y = uv^0wx^0y$  dojde k narušení podmínky  $\#_b(w) > \#_c(w)$
  - pracujeme totiž s řetězcem  $z = a^{k+2}b^{k+1}c^k$  a  $|vx| > 0$

## Pumping lemma pro bezkontextové jazyky

**Dokažte, že**  $L = \{w \in \{a, b, c\}^* \mid \#_a(w) > \#_b(w) > \#_c(w)\} \notin \mathcal{L}_2$

## Řešení

- 7  $vx$  obsahuje alespoň jeden symbol  $b$  a neobsahuje  $c$
- zvolíme  $i = 0$
  - ve slově  $uv^iwx^i y = uv^0wx^0 y$  dojde k narušení podmínky  $\#_b(w) > \#_c(w)$
  - pracujeme totiž s řetězcem  $z = a^{k+2}b^{k+1}c^k$  a  $|vx| > 0$



## Pumping lemma pro bezkontextové jazyky

**Dokažte, že**  $L = \{w \in \{a, b, c\}^* \mid \#_a(w) > \#_b(w) > \#_c(w)\} \notin \mathcal{L}_2$

## Řešení

- 8 vx obsahuje alespoň jeden symbol  $c$

## Pumping lemma pro bezkontextové jazyky

Dokažte, že  $L = \{w \in \{a, b, c\}^* \mid \#_a(w) > \#_b(w) > \#_c(w)\} \notin \mathcal{L}_2$

## Řešení

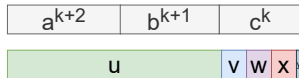
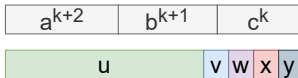
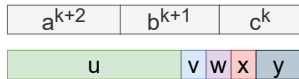
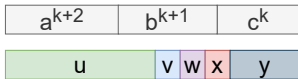
- 8  $vx$  obsahuje alespoň jeden symbol  $c$
- zvolíme  $i = 3$
  - ve slově  $uv^iwx^iy = uv^3wx^3y$  dojde k narušení podmínky  $\#_a(w) > \#_c(w)$
  - pracujeme totiž s řetězcem  $z = a^{k+2}b^{k+1}c^k$  a  $|vx| > 0$

## Pumping lemma pro bezkontextové jazyky

**Dokažte, že**  $L = \{w \in \{a, b, c\}^* \mid \#_a(w) > \#_b(w) > \#_c(w)\} \notin \mathcal{L}_2$

## Řešení

- 8  $vx$  obsahuje alespoň jeden symbol  $c$
- zvolíme  $i = 3$
  - ve slově  $uv^iwx^i y = uv^3wx^3y$  dojde k narušení podmínky  $\#_a(w) > \#_c(w)$
  - pracujeme totiž s řetězcem  $z = a^{k+2}b^{k+1}c^k$  a  $|vx| > 0$



## Pumping lemma pro bezkontextové jazyky

**Dokažte, že**  $L = \{w \in \{a, b, c\}^* \mid \#_a(w) > \#_b(w) > \#_c(w)\} \notin \mathcal{L}_2$

## Řešení

- 9 ukázali jsme, že pro každé uvažované rozdělení lze najít  $i \in \mathbb{N}$  tak, že  $uv^iwx^iy \notin L$

## Pumping lemma pro bezkontextové jazyky

**Dokažte, že**  $L = \{w \in \{a, b, c\}^* \mid \#_a(w) > \#_b(w) > \#_c(w)\} \notin \mathcal{L}_2$

## Řešení

- ukázali jsme, že pro každé uvažované rozdělení lze najít  $i \in \mathbb{N}$  tak, že  $uv^iwx^iy \notin L$
- Pro jazyk  $L$  tedy neplatí pravá strana Pumping lemmatu pro  $\mathcal{L}_2$



## Pumping lemma pro bezkontextové jazyky

**Dokažte, že**  $L = \{w \in \{a, b, c\}^* \mid \#_a(w) > \#_b(w) > \#_c(w)\} \notin \mathcal{L}_2$

## Řešení

- ukázali jsme, že pro každé uvažované rozdělení lze najít  $i \in \mathbb{N}$  tak, že  $uv^iwx^iy \notin L$
- Pro jazyk  $L$  tedy neplatí pravá strana Pumping lemmatu pro  $\mathcal{L}_2$
- $L \notin \mathcal{L}_2$

## Pumping lemma pro bezkontextové jazyky

Dokažte, že  $L = \{w \in \{a, b, c\}^* \mid \#_a(w) > \#_b(w) > \#_c(w)\} \notin \mathcal{L}_2$

## Příklady špatného výběru slova

1  $z = a^{k+2}b$

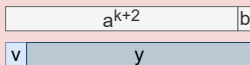
## Pumping lemma pro bezkontextové jazyky

Dokažte, že  $L = \{w \in \{a, b, c\}^* \mid \#_a(w) > \#_b(w) > \#_c(w)\} \notin \mathcal{L}_2$

## Příklady špatného výběru slova

1  $z = a^{k+2}b$

- mějme rozdělení  $u = \epsilon, v = a, w = \epsilon, x = \epsilon, y = a^{k+1}b$
- pro každé  $i \in \mathbb{N}$  platí  $uv^iwx^iy = a^i a^{k+1}b \in L$



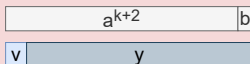
## Pumping lemma pro bezkontextové jazyky

Dokažte, že  $L = \{w \in \{a, b, c\}^* \mid \#_a(w) > \#_b(w) > \#_c(w)\} \notin \mathcal{L}_2$

## Příklady špatného výběru slova

①  $z = a^{k+2}b$

- mějme rozdělení  $u = \epsilon, v = a, w = \epsilon, x = \epsilon, y = a^{k+1}b$
- pro každé  $i \in \mathbb{N}$  platí  $uv^iwx^iy = a^i a^{k+1} b \in L$



②  $z = aa(abc)^k b$

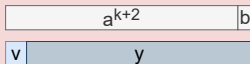
## Pumping lemma pro bezkontextové jazyky

**Dokažte, že**  $L = \{w \in \{a, b, c\}^* \mid \#_a(w) > \#_b(w) > \#_c(w)\} \notin \mathcal{L}_2$

## Příklady špatného výběru slova

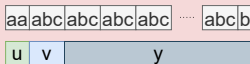
①  $z = a^{k+2}b$

- mějme rozdělení  $u = \epsilon, v = a, w = \epsilon, x = \epsilon, y = a^{k+1}b$
- pro každé  $i \in \mathbb{N}$  platí  $uv^iwx^iy = a^i a^{k+1}b \in L$



②  $z = aa(abc)^k b$

- mějme rozdělení  $u = aa, v = abc, w = \epsilon, x = \epsilon, y = (abc)^{k-1}aab$
- pro každé  $i \in \mathbb{N}$  platí  $uv^iwx^iy = (abc)^i(abc)^{k-1}b \in L$



## Pumping lemma pro bezkontextové jazyky

Dokažte, že  $L = \{w \in \{a, b, c\}^* \mid \#_a(w) > \#_b(w) > \#_c(w)\} \notin \mathcal{L}_2$

## Příklady špatného výběru slova

3  $z = a^{k+4}b^{k+2}c^k$

## Pumping lemma pro bezkontextové jazyky

Dokažte, že  $L = \{w \in \{a, b, c\}^* \mid \#_a(w) > \#_b(w) > \#_c(w)\} \notin \mathcal{L}_2$

## Příklady špatného výběru slova

3  $z = a^{k+4}b^{k+2}c^k$

- mějme rozdělení  $u = \epsilon, v = a, w = \epsilon, x = \epsilon, y = a^{k+3}b^{k+2}c^k$
- pro každé  $i \in \mathbb{N}$  platí  $uv^iwx^iy = a^i a^{k+3} b^{k+2} c^k \in L$

a	$a^{k+3}$	$b^{k+2}$	$c^k$
---	-----------	-----------	-------

v	y
---	---

## Pumping lemma pro bezkontextové jazyky

Dokažte, že  $L = \{w \in \{a, b, c\}^* \mid \#_a(w) > \#_b(w) > \#_c(w)\} \notin \mathcal{L}_2$

## Příklady špatného výběru slova

3  $z = a^{k+4}b^{k+2}c^k$

- mějme rozdělení  $u = \epsilon, v = a, w = \epsilon, x = \epsilon, y = a^{k+3}b^{k+2}c^k$
- pro každé  $i \in \mathbb{N}$  platí  $uv^iwx^iy = a^i a^{k+3} b^{k+2} c^k \in L$

a	$a^{k+3}$	$b^{k+2}$	$c^k$
---	-----------	-----------	-------

v	y
---	---

4  $z = a^k b^k c^k$



## Pumping lemma pro bezkontextové jazyky

**Dokažte, že**  $L = \{w \in \{a, b, c\}^* \mid \#_a(w) > \#_b(w) > \#_c(w)\} \notin \mathcal{L}_2$

## Příklady špatného výběru slova

3  $z = a^{k+4}b^{k+2}c^k$

- mějme rozdělení  $u = \epsilon, v = a, w = \epsilon, x = \epsilon, y = a^{k+3}b^{k+2}c^k$
- pro každé  $i \in \mathbb{N}$  platí  $uv^iwx^iy = a^i a^{k+3} b^{k+2} c^k \in L$

a	$a^{k+3}$	$b^{k+2}$	$c^k$
---	-----------	-----------	-------

v	y
---	---

4  $z = a^k b^k c^k$

- vůbec nepatří do jazyka  $L$

## Pumping lemma pro bezkontextové jazyky

Dokažte, že  $L = \{w \in \{a, b, c\}^* \mid \#_a(w) > \#_b(w) > \#_c(w)\} \notin \mathcal{L}_2$

## Příklady špatného výběru slova

3  $z = a^{k+4}b^{k+2}c^k$

- mějme rozdělení  $u = \epsilon, v = a, w = \epsilon, x = \epsilon, y = a^{k+3}b^{k+2}c^k$
- pro každé  $i \in \mathbb{N}$  platí  $uv^iwx^iy = a^i a^{k+3} b^{k+2} c^k \in L$

a	$a^{k+3}$	$b^{k+2}$	$c^k$
---	-----------	-----------	-------

v	y
---	---

4  $z = a^k b^k c^k$

- vůbec nepatří do jazyka  $L$

5  $z = a^2 b$

## Pumping lemma pro bezkontextové jazyky

**Dokažte, že**  $L = \{w \in \{a, b, c\}^* \mid \#_a(w) > \#_b(w) > \#_c(w)\} \notin \mathcal{L}_2$

## Příklady špatného výběru slova

3  $z = a^{k+4}b^{k+2}c^k$

- mějme rozdělení  $u = \epsilon, v = a, w = \epsilon, x = \epsilon, y = a^{k+3}b^{k+2}c^k$
- pro každé  $i \in \mathbb{N}$  platí  $uv^iwx^iy = a^i a^{k+3} b^{k+2} c^k \in L$

a	$a^{k+3}$	$b^{k+2}$	$c^k$
v	y		

4  $z = a^k b^k c^k$

- vůbec nepatří do jazyka  $L$

5  $z = a^2 b$

- pro  $k > 3$  neplatí, že  $|z| \geq k$

Tvrzení o bezkontextových jazycích

## Abeceda

Uvažujme o abecedě  $\Sigma = \{a, b, c\}$

Rozhodněte a dokažte, zda platí následující tvrzení

$$L_1 \in \mathcal{L}_3 \vee L_2 \in \mathcal{L}_2 \Rightarrow L_1 \cup L_2 \in \mathcal{L}_2$$

## Abeceda

Uvažujme o abecedě  $\Sigma = \{a, b, c\}$

Rozhodněte a dokažte, zda platí následující tvrzení

$$L_1 \in \mathcal{L}_3 \vee L_2 \in \mathcal{L}_2 \Rightarrow L_1 \cup L_2 \in \mathcal{L}_2$$

## Řešení

- Tvrzení *neplatí*

## Abeceda

Uvažujme o abecedě  $\Sigma = \{a, b, c\}$

Rozhodněte a dokažte, zda platí následující tvrzení

$$L_1 \in \mathcal{L}_3 \vee L_2 \in \mathcal{L}_2 \Rightarrow L_1 \cup L_2 \in \mathcal{L}_2$$

## Řešení

- Tvrzení *neplatí*
- V rámci protipříkladu zvolme:
  - $L_1 = \emptyset$
  - $L_2 = \{a^n b^n c^n \mid n \geq 0\}$

## Abeceda

Uvažujme o abecedě  $\Sigma = \{a, b, c\}$

Rozhodněte a dokažte, zda platí následující tvrzení

$$L_1 \in \mathcal{L}_3 \vee L_2 \in \mathcal{L}_2 \Rightarrow L_1 \cup L_2 \in \mathcal{L}_2$$

## Řešení

- Tvrzení *neplatí*
- V rámci protipříkladu zvolme:
  - $L_1 = \emptyset$
  - $L_2 = \{a^n b^n c^n \mid n \geq 0\}$
- Potom ale  $L_1 \cup L_2 = L_2 \notin \mathcal{L}_2$



## Abeceda

Uvažujme o abecedě  $\Sigma = \{a, b, c\}$

Rozhodněte a dokažte, zda platí následující tvrzení

$$\forall L_1 \in \mathcal{L}_2 : \forall L_2 \in \mathcal{L}_3 : L_1 \subseteq L_2 \Rightarrow \overline{L_1 \cup L_2} \in \mathcal{L}_3$$

## Abeceda

Uvažujme o abecedě  $\Sigma = \{a, b, c\}$

Rozhodněte a dokažte, zda platí následující tvrzení

$$\forall L_1 \in \mathcal{L}_2 : \forall L_2 \in \mathcal{L}_3 : L_1 \subseteq L_2 \Rightarrow \overline{L_1 \cup L_2} \in \mathcal{L}_3$$

## Řešení

- Tvrzení platí

## Abeceda

Uvažujme o abecedě  $\Sigma = \{a, b, c\}$

Rozhodněte a dokažte, zda platí následující tvrzení

$$\forall L_1 \in \mathcal{L}_2 : \forall L_2 \in \mathcal{L}_3 : L_1 \subseteq L_2 \Rightarrow \overline{L_1 \cup L_2} \in \mathcal{L}_3$$

## Řešení

- Tvrzení platí
- Pokud  $L_1 \subseteq L_2$ , pak  $L_1 \cup L_2 = L_2$

## Abeceda

Uvažujme o abecedě  $\Sigma = \{a, b, c\}$

Rozhodněte a dokažte, zda platí následující tvrzení

$$\forall L_1 \in \mathcal{L}_2 : \forall L_2 \in \mathcal{L}_3 : L_1 \subseteq L_2 \Rightarrow \overline{L_1 \cup L_2} \in \mathcal{L}_3$$

## Řešení

- Tvrzení platí
- Pokud  $L_1 \subseteq L_2$ , pak  $L_1 \cup L_2 = L_2$
- Potom  $\overline{L_1 \cup L_2} = \overline{L_2} \in \mathcal{L}_3$ , neboť  $\mathcal{L}_3$  jazyky jsou uzavřeny na doplněk

## Abeceda

Uvažujme o abecedě  $\Sigma = \{a, b, c\}$

Rozhodněte a dokažte, zda platí následující tvrzení

$$\forall L_1 \in \mathcal{L}_2 : \forall L_2 \in \mathcal{L}_3 : L_1 \subseteq L_2 \Rightarrow \overline{L_1 \cap L_2} \in \mathcal{L}_2$$

## Abeceda

Uvažujme o abecedě  $\Sigma = \{a, b, c\}$

Rozhodněte a dokažte, zda platí následující tvrzení

$$\forall L_1 \in \mathcal{L}_2 : \forall L_2 \in \mathcal{L}_3 : L_1 \subseteq L_2 \Rightarrow \overline{L_1 \cap L_2} \in \mathcal{L}_2$$

## Řešení

- Tvrzení *neplatí*

## Abeceda

Uvažujme o abecedě  $\Sigma = \{a, b, c\}$

Rozhodněte a dokažte, zda platí následující tvrzení

$$\forall L_1 \in \mathcal{L}_2 : \forall L_2 \in \mathcal{L}_3 : L_1 \subseteq L_2 \Rightarrow \overline{L_1 \cap L_2} \in \mathcal{L}_2$$

## Řešení

- Tvrzení *neplatí*
- V rámci protipříkladu zvolme:
  - $L_1 = \{a^n b^n c^n \mid n \geq 0\} \in \mathcal{L}_2$
  - $L_2 = \Sigma^* \in \mathcal{L}_3$

## Abeceda

Uvažujme o abecedě  $\Sigma = \{a, b, c\}$

Rozhodněte a dokažte, zda platí následující tvrzení

$$\forall L_1 \in \mathcal{L}_2 : \forall L_2 \in \mathcal{L}_3 : L_1 \subseteq L_2 \Rightarrow \overline{L_1 \cap L_2} \in \mathcal{L}_2$$

## Řešení

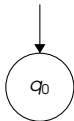
- Tvrzení *neplatí*
- V rámci protipříkladu zvolme:
  - $L_1 = \{\overline{a^n b^n c^n} \mid n \geq 0\} \in \mathcal{L}_2$
  - $L_2 = \Sigma^* \in \mathcal{L}_3$
- Potom ale  $\overline{L_1 \cap L_2} = \overline{L_1} = \{a^n b^n c^n \mid n \geq 0\} \notin \mathcal{L}_2$



# Turingovy stroje

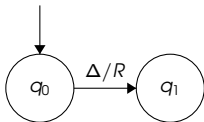
## Konstrukce jednopáskového Turingova stroje

Sestrojte jednopáskový TS přijímající jazyk  $\{wcw \mid w \in \{a, b\}^*\}$

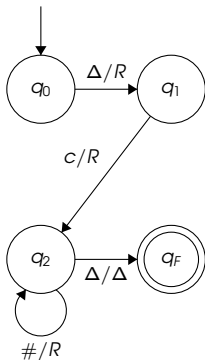


## Konstrukce jednopáskového Turingova stroje

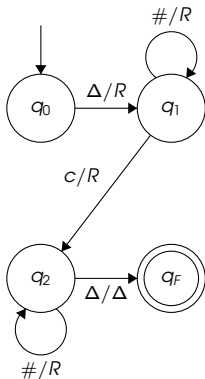
Sestrojte jednopáskový TS přijímající jazyk  $\{w\bar{c}w \mid w \in \{a, b\}^*\}$



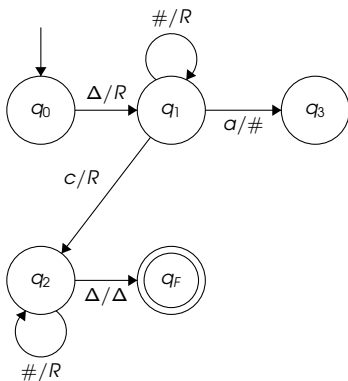
## Konstrukce jednopáskového Turingova stroje

Sestrojte jednopáskový TS přijímající jazyk  $\{wcw \mid w \in \{a, b\}^*\}$ 

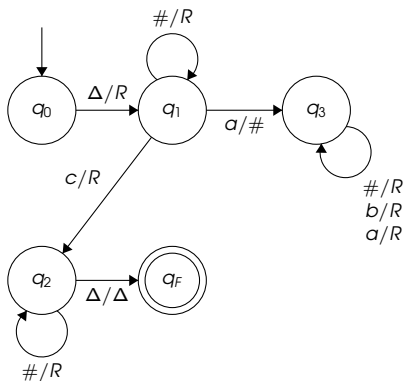
## Konstrukce jednopáskového Turingova stroje

Sestrojte jednopáskový TS přijímající jazyk  $\{wcw \mid w \in \{a, b\}^*\}$ 

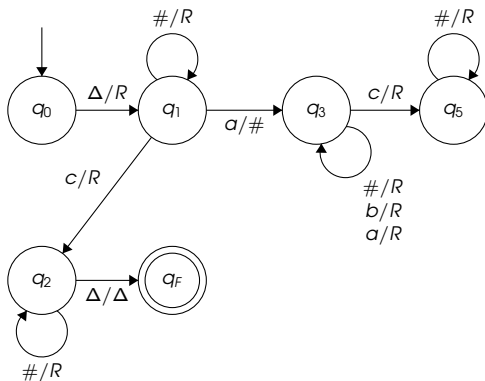
## Konstrukce jednopáskového Turingova stroje

Sestrojte jednopáskový TS přijímající jazyk  $\{wcw \mid w \in \{a, b\}^*\}$ 

## Konstrukce jednopáskového Turingova stroje

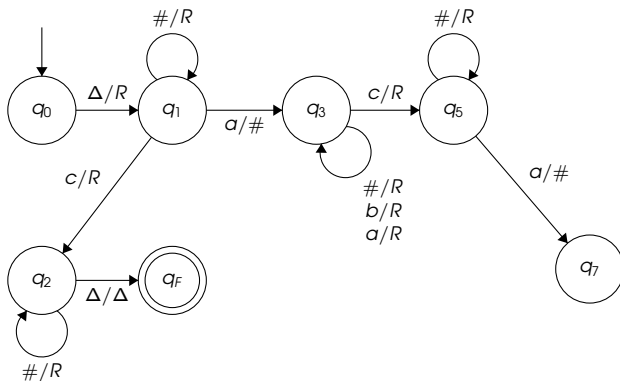
Sestrojte jednopáskový TS přijímající jazyk  $\{wcw \mid w \in \{a, b\}^*\}$ 

## Konstrukce jednopáskového Turingova stroje

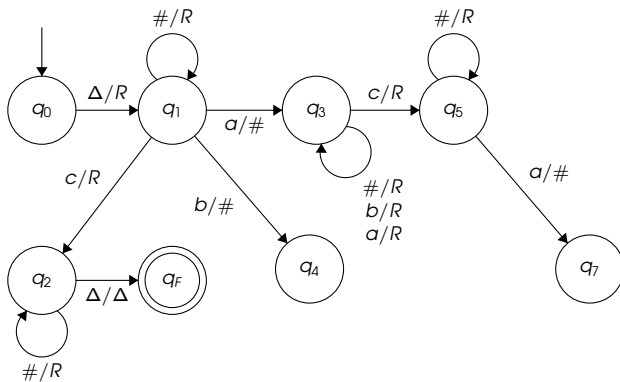
Sestrojte jednopáskový TS přijímající jazyk  $\{wcw \mid w \in \{a, b\}^*\}$ 



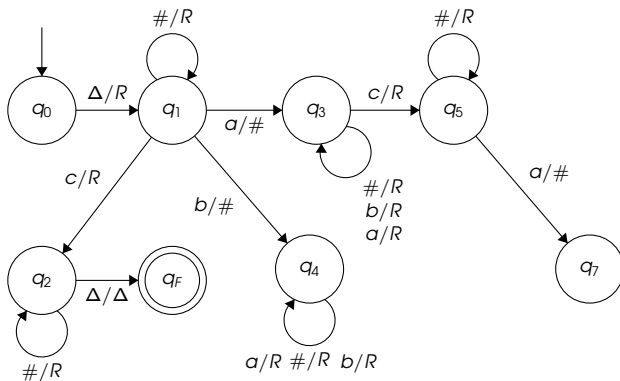
## Konstrukce jednopáskového Turingova stroje

Sestrojte jednopáskový TS přijímající jazyk  $\{wcw \mid w \in \{a, b\}^*\}$ 

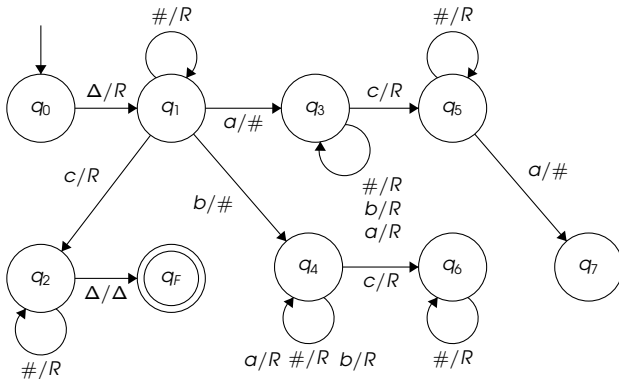
## Konstrukce jednopáskového Turingova stroje

Sestrojte jednopáskový TS přijímající jazyk  $\{wcw \mid w \in \{a, b\}^*\}$ 

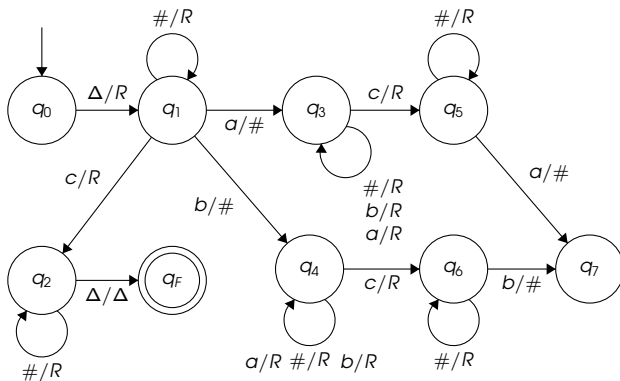
## Konstrukce jednopáskového Turingova stroje

Sestrojte jednopáskový TS přijímající jazyk  $\{wcw \mid w \in \{a, b\}^*\}$ 

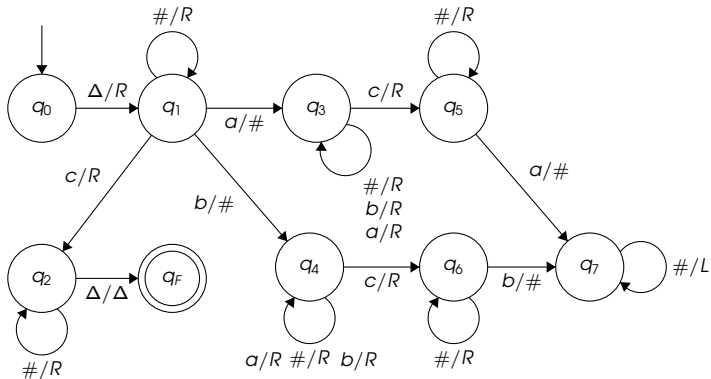
## Konstrukce jednopáskového Turingova stroje

Sestrojte jednopáskový TS přijímající jazyk  $\{wcw \mid w \in \{a, b\}^*\}$ 

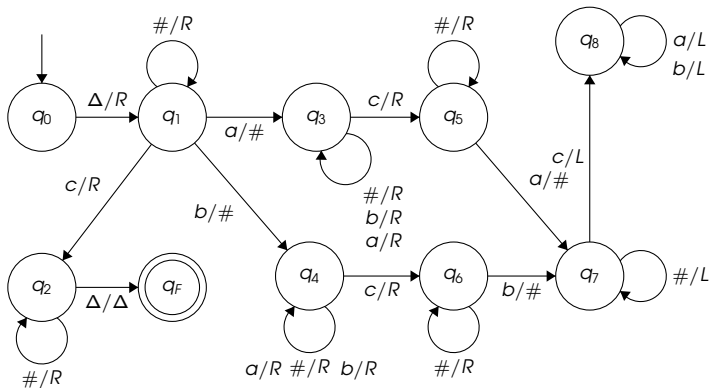
## Konstrukce jednopáskového Turingova stroje

Sestrojte jednopáskový TS přijímající jazyk  $\{wcw \mid w \in \{a, b\}^*\}$ 

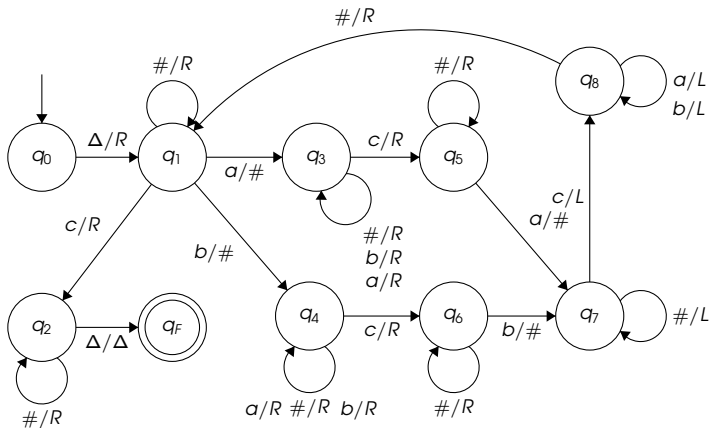
## Konstrukce jednopáskového Turingova stroje

Sestrojte jednopáskový TS přijímající jazyk  $\{wcw \mid w \in \{a, b\}^*\}$ 

## Konstrukce jednopáskového Turingova stroje

Sestrojte jednopáskový TS přijímající jazyk  $\{wcw \mid w \in \{a, b\}^*\}$ 

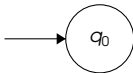
## Konstrukce jednopáskového Turingova stroje

Sestrojte jednopáskový TS přijímající jazyk  $\{wcw \mid w \in \{a, b\}^*\}$ 

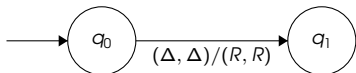


## Konstrukce vícepáskového Turingova stroje

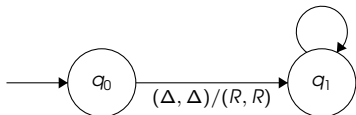
Sestrojte vícepáskový TS přijímající jazyk  $\{wcw \mid w \in \{a, b\}^*\}$



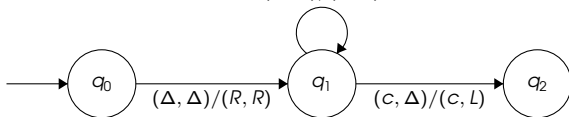
## Konstrukce vícepáskového Turingova stroje

Sestrojte vícepáskový TS přijímající jazyk  $\{wcw \mid w \in \{a, b\}^*\}$ 

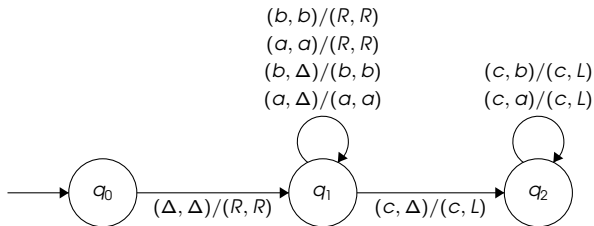
## Konstrukce vícepáskového Turingova stroje

Sestrojte vícepáskový TS přijímající jazyk  $\{wcw \mid w \in \{a, b\}^*\}$  $(b, b)/(R, R)$  $(a, a)/(R, R)$  $(b, \Delta)/(b, b)$  $(a, \Delta)/(a, a)$ 

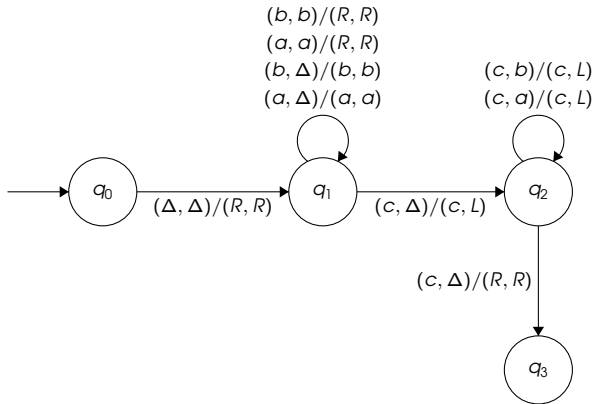
## Konstrukce vícepáskového Turingova stroje

Sestrojte vícepáskový TS přijímající jazyk  $\{wcw \mid w \in \{a, b\}^*\}$  $(b, b)/(R, R)$  $(a, a)/(R, R)$  $(b, \Delta)/(b, b)$  $(a, \Delta)/(a, a)$ 

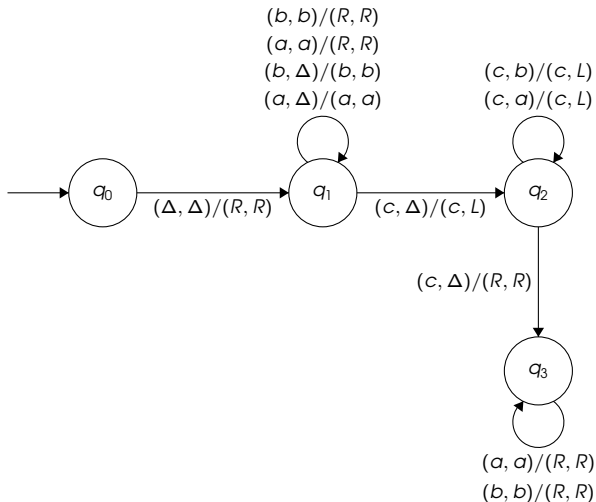
## Konstrukce vícepáskového Turingova stroje

Sestrojte vícepáskový TS přijímající jazyk  $\{wcw \mid w \in \{a, b\}^*\}$ 

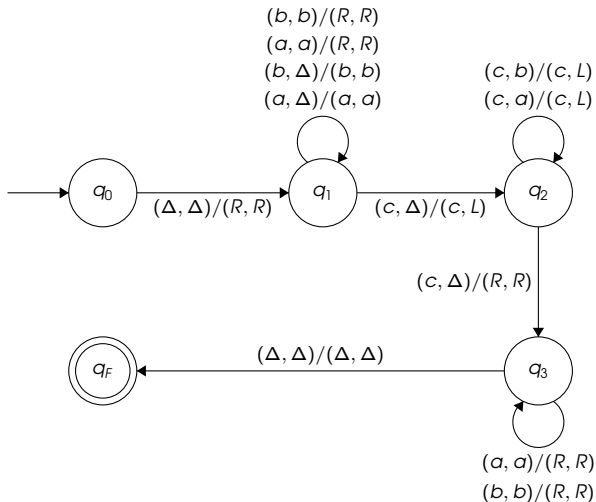
## Konstrukce vícepáskového Turingova stroje

Sestrojte vícepáskový TS přijímající jazyk  $\{wcw \mid w \in \{a, b\}^*\}$ 

## Konstrukce vícepáskového Turingova stroje

Sestrojte vícepáskový TS přijímající jazyk  $\{wcw \mid w \in \{a, b\}^*\}$ 

## Konstrukce vícepáskového Turingova stroje

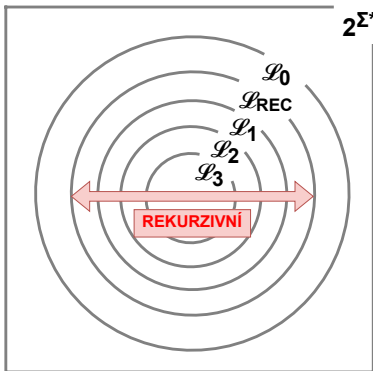
Sestrojte vícepáskový TS přijímající jazyk  $\{wcw \mid w \in \{a, b\}^*\}$ 



Důkazy rekurzivní vyčísitelnosti

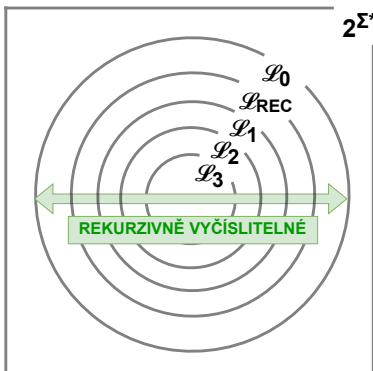
## Rekurzivní jazyk

- Jazyk  $L$  nad abecedou  $\Sigma$  je rekurzivní ( $L \in \mathcal{L}_{REC}$ ) tehdy, pokud existuje úplný Turingův stroj  $M$  takový, že  $L(M) = L$
- Úplný Turingův stroj je takový Turingův stroj, který zastaví pro každý svůj vstup



## Rekurzivně vyčíslitelný jazyk

- Jazyk  $L$  nad abecedou  $\Sigma$  je rekurzivně vyčíslitelný ( $L \in \mathcal{L}_{RE}$ ) tehdy, pokud existuje (obecný) Turingův stroj  $M$  takový, že  $L(M) = L$
- Turingův stroj  $M$  může na některých vstupech cyklit



## Důkaz rekurzivní vyčíslitelnosti

- Chceme-li dokázat, že  $L$  je **rekurzivně vyčíslitelný**, stačí popsat konstrukci (**obecného**) Turingova stroje  $M$ , kde  $L = L(M)$

## Důkaz rekurzivní vyčísitelnosti

- Chceme-li dokázat, že  $L$  je **rekurzivně vyčísitelný**, stačí popsat konstrukci (**obecného**) Turingova stroje  $M$ , kde  $L = L(M)$
- Stroj  $M$  může být
  - deterministický nebo nedeterministický
  - jednopáskový nebo vícepáskový

## Důkaz rekurzivní vyčíslitelnosti

- Chceme-li dokázat, že  $L$  je **rekurzivně vyčíslitelný**, stačí popsat konstrukci (**obecného**) Turingova stroje  $M$ , kde  $L = L(M)$
- Stroj  $M$  může být
  - deterministický nebo nedeterministický
  - jednopáskový nebo vícepáskový

## Vysokoúrovňový popis chování Turingova stroje

- Nebudeme popisovat chování stroje na úrovni přechodů
- O různých operacích víme, že je možné je v rámci běhu Turingova stroje provést, nebudeme je tedy v důkazu rozvádět do detailů:
  - spuštění/pozastavení simulace jiného Turingova stroje
  - nedeterministické vygenerování nějakého řetězce
  - test, zda je řetězec kódem Turingova stroje
  - ...

## Důkaz rekurzivní vyčíslitelnosti

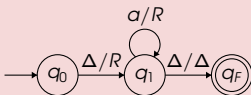
Dokažte, že následující jazyk  $L$  je rekurzivně vyčíslitelný:

$$L = \{ \langle M \rangle \mid \langle M \rangle \text{ je kód TS } M, \text{ kde } L(M) \neq \emptyset \}$$

## Důkaz rekurzivní vyčísitelnosti

**Dokažte, že následující jazyk  $L$  je rekurzivně vyčísitelný:**

$$L = \{ \langle M \rangle \mid \langle M \rangle \text{ je kód TS } M, \text{ kde } L(M) \neq \emptyset \}$$

Příklady řetězců patřících do jazyka  $L$ 

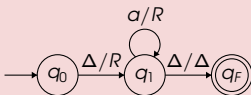
- $L(M_1) = \{a^n \mid n \geq 0\}$
- $\langle M_1 \rangle \in L$



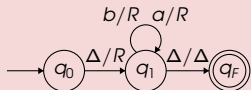
## Důkaz rekurzivní vyčíslitelnosti

Dokažte, že následující jazyk  $L$  je rekurzivně vyčíslitelný:

$$L = \{ \langle M \rangle \mid \langle M \rangle \text{ je kód TS } M, \text{ kde } L(M) \neq \emptyset \}$$

Příklady řetězců patřících do jazyka  $L$ 

- $L(M_1) = \{a^n \mid n \geq 0\}$
- $\langle M_1 \rangle \in L$

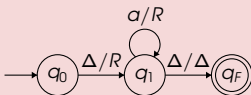


- $L(M_2) = \{a, b\}^*$
- $\langle M_2 \rangle \in L$

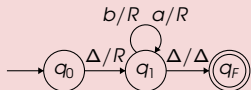
## Důkaz rekurzivní vyčíslitelnosti

Dokažte, že následující jazyk  $L$  je rekurzivně vyčíslitelný:

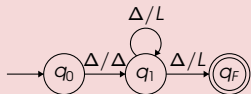
$$L = \{ \langle M \rangle \mid \langle M \rangle \text{ je kód TS } M, \text{ kde } L(M) \neq \emptyset \}$$

Příklady řetězců patřících do jazyka  $L$ 

- $L(M_1) = \{a^n \mid n \geq 0\}$
- $\langle M_1 \rangle \in L$



- $L(M_2) = \{a, b\}^*$
- $\langle M_2 \rangle \in L$



- $L(M_3) = \emptyset$
- $\langle M_3 \rangle \notin L$

## Důkaz rekurzivní vyčísitelnosti

Dokažte, že následující jazyk  $L$  je rekurzivně vyčísitelný:

$$L = \{ \langle M \rangle \mid \langle M \rangle \text{ je kód TS } M, \text{ kde } L(M) \neq \emptyset \}$$

## Důkaz rekurzivní vyčíslitelnosti

Dokažte, že následující jazyk  $L$  je rekurzivně vyčíslitelný:

$$L = \{ \langle M \rangle \mid \langle M \rangle \text{ je kód TS } M, \text{ kde } L(M) \neq \emptyset \}$$

Simulace nedeterministicky vygenerovaného slova

může skončit akceptováním

		krok simulace							.....
		1	2	3	4	5	6	7	
W	$w_0$								.....
	$w_1$								.....
	$w_2$								.....
	$w_3$	✗							.....
		⋮	⋮	⋮	⋮	⋮	⋮	⋮	⋮

## Důkaz rekurzivní vyčíslitelnosti

Dokažte, že následující jazyk  $L$  je rekurzivně vyčíslitelný:

$$L = \{ \langle M \rangle \mid \langle M \rangle \text{ je kód TS } M, \text{ kde } L(M) \neq \emptyset \}$$

Simulace nedeterministicky vygenerovaného slova

může skončit akceptováním

		krok simulace							.....
		1	2	3	4	5	6	7	
W	$w_0$								.....
	$w_1$								.....
	$w_2$								.....
	$w_3$	✗	✗						.....
		⋮	⋮	⋮	⋮	⋮	⋮	⋮	⋮

## Důkaz rekurzivní vyčíslitelnosti

Dokažte, že následující jazyk  $L$  je rekurzivně vyčíslitelný:

$$L = \{ \langle M \rangle \mid \langle M \rangle \text{ je kód TS } M, \text{ kde } L(M) \neq \emptyset \}$$

Simulace nedeterministicky vygenerovaného slova

může skončit akceptováním

		krok simulace							.....
		1	2	3	4	5	6	7	
W	$w_0$								.....
	$w_1$								.....
	$w_2$								.....
	$w_3$	✗	✗	✗					.....
		⋮	⋮	⋮	⋮	⋮	⋮	⋮	⋮

## Důkaz rekurzivní vyčíslitelnosti

Dokažte, že následující jazyk  $L$  je rekurzivně vyčíslitelný:

$$L = \{ \langle M \rangle \mid \langle M \rangle \text{ je kód TS } M, \text{ kde } L(M) \neq \emptyset \}$$

Simulace nedeterministicky vygenerovaného slova

může skončit akceptováním

		krok simulace							.....	
		1	2	3	4	5	6	7		
W	$w_0$									.....
	$w_1$									.....
	$w_2$									.....
	$w_3$	✗	✗	✗	●					.....
		⋮	⋮	⋮	⋮	⋮	⋮	⋮	⋮	⋮

## Důkaz rekurzivní vyčíslitelnosti

Dokažte, že následující jazyk  $L$  je rekurzivně vyčíslitelný:

$$L = \{ \langle M \rangle \mid \langle M \rangle \text{ je kód TS } M, \text{ kde } L(M) \neq \emptyset \}$$

Simulace nedeterministicky vygenerovaného slova

může skončit odmítnutím

		krok simulace							.....
		1	2	3	4	5	6	7	
W	$w_0$								.....
	$w_1$								.....
	$w_2$	✗							.....
	$w_3$								.....
		⋮	⋮	⋮	⋮	⋮	⋮	⋮	⋮



## Důkaz rekurzivní vyčíslitelnosti

Dokažte, že následující jazyk  $L$  je rekurzivně vyčíslitelný:

$$L = \{ \langle M \rangle \mid \langle M \rangle \text{ je kód TS } M, \text{ kde } L(M) \neq \emptyset \}$$

Simulace nedeterministicky vygenerovaného slova

může skončit odmítnutím

		krok simulace							.....
		1	2	3	4	5	6	7	
W	$w_0$								.....
	$w_1$								.....
	$w_2$	×	×						.....
	$w_3$								.....
		⋮	⋮	⋮	⋮	⋮	⋮	⋮	⋮

## Důkaz rekurzivní vyčíslitelnosti

Dokažte, že následující jazyk  $L$  je rekurzivně vyčíslitelný:

$$L = \{ \langle M \rangle \mid \langle M \rangle \text{ je kód TS } M, \text{ kde } L(M) \neq \emptyset \}$$

Simulace nedeterministicky vygenerovaného slova

může skončit odmítnutím

		krok simulace							.....
		1	2	3	4	5	6	7	
W	$w_0$								.....
	$w_1$								.....
	$w_2$	×	×	●					.....
	$w_3$								.....
		⋮	⋮	⋮	⋮	⋮	⋮	⋮	⋮

## Důkaz rekurzivní vyčíslitelnosti

Dokažte, že následující jazyk  $L$  je rekurzivně vyčíslitelný:

$$L = \{ \langle M \rangle \mid \langle M \rangle \text{ je kód TS } M, \text{ kde } L(M) \neq \emptyset \}$$

Simulace nedeterministicky vygenerovaného slova

může cyklit

		krok simulace							.....
		1	2	3	4	5	6	7	
w	w <sub>0</sub>	✗							.....
	w <sub>1</sub>								.....
	w <sub>2</sub>								.....
	w <sub>3</sub>								.....
		⋮	⋮	⋮	⋮	⋮	⋮	⋮	⋮

## Důkaz rekurzivní vyčíslitelnosti

Dokažte, že následující jazyk  $L$  je rekurzivně vyčíslitelný:

$$L = \{ \langle M \rangle \mid \langle M \rangle \text{ je kód TS } M, \text{ kde } L(M) \neq \emptyset \}$$

Simulace nedeterministicky vygenerovaného slova

může cyklit

		krok simulace							.....
		1	2	3	4	5	6	7	
W	$w_0$	✗	✗						.....
	$w_1$								.....
	$w_2$								.....
	$w_3$								.....
		⋮	⋮	⋮	⋮	⋮	⋮	⋮	⋮

## Důkaz rekurzivní vyčísitelnosti

Dokažte, že následující jazyk  $L$  je rekurzivně vyčísitelný:

$$L = \{ \langle M \rangle \mid \langle M \rangle \text{ je kód TS } M, \text{ kde } L(M) \neq \emptyset \}$$

Simulace nedeterministicky vygenerovaného slova

může cyklit

		krok simulace							.....
		1	2	3	4	5	6	7	
W	$w_0$	×	×	×					.....
	$w_1$								.....
	$w_2$								.....
	$w_3$								.....
		⋮	⋮	⋮	⋮	⋮	⋮	⋮	⋮

## Důkaz rekurzivní vyčíslitelnosti

Dokažte, že následující jazyk  $L$  je rekurzivně vyčíslitelný:

$$L = \{ \langle M \rangle \mid \langle M \rangle \text{ je kód TS } M, \text{ kde } L(M) \neq \emptyset \}$$

Simulace nedeterministicky vygenerovaného slova

může cyklit

		krok simulace							.....
		1	2	3	4	5	6	7	
W	$w_0$	×	×	×	×				.....
	$w_1$								.....
	$w_2$								.....
	$w_3$								.....
		⋮	⋮	⋮	⋮	⋮	⋮	⋮	⋮

## Důkaz rekurzivní vyčíslitelnosti

Dokažte, že následující jazyk  $L$  je rekurzivně vyčíslitelný:

$$L = \{ \langle M \rangle \mid \langle M \rangle \text{ je kód TS } M, \text{ kde } L(M) \neq \emptyset \}$$

Simulace nedeterministicky vygenerovaného slova

může cyklit

		krok simulace							.....
		1	2	3	4	5	6	7	
W	$w_0$	×	×	×	×	×			.....
	$w_1$								.....
	$w_2$								.....
	$w_3$								.....
		⋮	⋮	⋮	⋮	⋮	⋮	⋮	⋮

## Důkaz rekurzivní vyčíslitelnosti

Dokažte, že následující jazyk  $L$  je rekurzivně vyčíslitelný:

$$L = \{ \langle M \rangle \mid \langle M \rangle \text{ je kód TS } M, \text{ kde } L(M) \neq \emptyset \}$$

Simulace nedeterministicky vygenerovaného slova

může cyklit

		krok simulace							.....
		1	2	3	4	5	6	7	
W	$w_0$	×	×	×	×	×	×		.....
	$w_1$								.....
	$w_2$								.....
	$w_3$								.....
		⋮	⋮	⋮	⋮	⋮	⋮	⋮	⋮



## Důkaz rekurzivní vyčíslitelnosti

Dokažte, že následující jazyk  $L$  je rekurzivně vyčíslitelný:

$$L = \{ \langle M \rangle \mid \langle M \rangle \text{ je kód TS } M, \text{ kde } L(M) \neq \emptyset \}$$

Simulace nedeterministicky vygenerovaného slova

může cyklit

		krok simulace							.....
		1	2	3	4	5	6	7	
W	$w_0$	×	×	×	×	×	×	×	.....
	$w_1$								.....
	$w_2$								.....
	$w_3$								.....
		⋮	⋮	⋮	⋮	⋮	⋮	⋮	⋮

## Důkaz rekurzivní vyčísitelnosti

Dokažte, že následující jazyk  $L$  je rekurzivně vyčísitelný:

$$L = \{ \langle M \rangle \mid \langle M \rangle \text{ je kód TS } M, \text{ kde } L(M) \neq \emptyset \}$$

Řešení pomocí **nedeterministického** Turingova stroje

- 1 Konstruujeme **NTS**  $T$  takový, aby  $L(T) = L$

## Důkaz rekurzivní vyčíslitelnosti

Dokažte, že následující jazyk  $L$  je rekurzivně vyčíslitelný:

$$L = \{ \langle M \rangle \mid \langle M \rangle \text{ je kód TS } M, \text{ kde } L(M) \neq \emptyset \}$$

Řešení pomocí **nedeterministického** Turingova stroje

- 1 Konstruujeme **NTS**  $T$  takový, aby  $L(T) = L$
- 2 **NTS**  $T$  má na svém vstupu řetězec nad abecedou  $\{0, 1\}$

## Důkaz rekurzivní vyčíslitelnosti

Dokažte, že následující jazyk  $L$  je rekurzivně vyčíslitelný:

$$L = \{ \langle M \rangle \mid \langle M \rangle \text{ je kód TS } M, \text{ kde } L(M) \neq \emptyset \}$$

Řešení pomocí **nedeterministického** Turingova stroje

- 1 Konstruujeme **NTS**  $T$  takový, aby  $L(T) = L$
- 2 **NTS**  $T$  má na svém vstupu řetězec nad abecedou  $\{0, 1\}$
- 3 **NTS**  $T$  ověří, zda jeho vstup odpovídá validnímu kódu  $\langle M \rangle$  nějakého TS  $M$ . Pokud ne, **odmítne**, jinak pokračuje

## Důkaz rekurzivní vyčíslitelnosti

Dokažte, že následující jazyk  $L$  je rekurzivně vyčíslitelný:

$$L = \{ \langle M \rangle \mid \langle M \rangle \text{ je kód TS } M, \text{ kde } L(M) \neq \emptyset \}$$

Řešení pomocí **nedeterministického** Turingova stroje

- 1 Konstruujeme **NTS**  $T$  takový, aby  $L(T) = L$
- 2 **NTS**  $T$  má na svém vstupu řetězec nad abecedou  $\{0, 1\}$
- 3 **NTS**  $T$  ověří, zda jeho vstup odpovídá validnímu kódu  $\langle M \rangle$  nějakého TS  $M$ . Pokud ne, **odmítne**, jinak pokračuje
- 4 **NTS**  $T$  nedeterministicky vygeneruje nějaký řetězec  $w$  nad abecedou  $\Sigma$  stroje  $M$

## Důkaz rekurzivní vyčíslitelnosti

Dokažte, že následující jazyk  $L$  je rekurzivně vyčíslitelný:

$$L = \{ \langle M \rangle \mid \langle M \rangle \text{ je kód TS } M, \text{ kde } L(M) \neq \emptyset \}$$

Řešení pomocí **nedeterministického** Turingova stroje

- 1 Konstruujeme **NTS**  $T$  takový, aby  $L(T) = L$
- 2 **NTS**  $T$  má na svém vstupu řetězec nad abecedou  $\{0, 1\}$
- 3 **NTS**  $T$  ověří, zda jeho vstup odpovídá validnímu kódu  $\langle M \rangle$  nějakého TS  $M$ . Pokud ne, **odmítne**, jinak pokračuje
- 4 **NTS**  $T$  nedeterministicky vygeneruje nějaký řetězec  $w$  nad abecedou  $\Sigma$  stroje  $M$
- 5 **NTS**  $T$  spustí simulaci stroje  $M$  na řetězci  $w$

## Důkaz rekurzivní vyčíslitelnosti

Dokažte, že následující jazyk  $L$  je rekurzivně vyčíslitelný:

$$L = \{ \langle M \rangle \mid \langle M \rangle \text{ je kód TS } M, \text{ kde } L(M) \neq \emptyset \}$$

Řešení pomocí **nedeterministického** Turingova stroje

- 1 Konstruujeme **NTS**  $T$  takový, aby  $L(T) = L$
- 2 **NTS**  $T$  má na svém vstupu řetězec nad abecedou  $\{0, 1\}$
- 3 **NTS**  $T$  ověří, zda jeho vstup odpovídá validnímu kódu  $\langle M \rangle$  nějakého TS  $M$ . Pokud ne, **odmítne**, jinak pokračuje
- 4 **NTS**  $T$  nedeterministicky vygeneruje nějaký řetězec  $w$  nad abecedou  $\Sigma$  stroje  $M$
- 5 **NTS**  $T$  spustí simulaci stroje  $M$  na řetězci  $w$
- 6 Skončí-li simulace přijetím, **NTS**  $T$  akceptuje vstup  $\langle M \rangle$

## Důkaz rekurzivní vyčíslitelnosti

Dokažte, že následující jazyk  $L$  je rekurzivně vyčíslitelný:

$$L = \{ \langle M \rangle \mid \langle M \rangle \text{ je kód TS } M, \text{ kde } L(M) \neq \emptyset \}$$

Řešení pomocí **nedeterministického** Turingova stroje

- 1 Konstruuje **NTS**  $T$  takový, aby  $L(T) = L$
- 2 **NTS**  $T$  má na svém vstupu řetězec nad abecedou  $\{0, 1\}$
- 3 **NTS**  $T$  ověří, zda jeho vstup odpovídá validnímu kódu  $\langle M \rangle$  nějakého TS  $M$ . Pokud ne, **odmítne**, jinak pokračuje
- 4 **NTS**  $T$  nedeterministicky vygeneruje nějaký řetězec  $w$  nad abecedou  $\Sigma$  stroje  $M$
- 5 **NTS**  $T$  spustí simulaci stroje  $M$  na řetězci  $w$
- 6 Skončí-li simulace přijetím, **NTS**  $T$  akceptuje vstup  $\langle M \rangle$
- 7 Skončí-li simulace odmítnutím, **NTS**  $T$  odmítne vstup  $\langle M \rangle$



## Důkaz rekurzivní vyčíslitelnosti

Dokažte, že následující jazyk  $L$  je rekurzivně vyčíslitelný:

$$L = \{ \langle M \rangle \mid \langle M \rangle \text{ je kód TS } M, \text{ kde } L(M) \neq \emptyset \}$$

Řešení pomocí **nedeterministického** Turingova stroje

- 1 Konstruujeme **NTS**  $T$  takový, aby  $L(T) = L$
- 2 **NTS**  $T$  má na svém vstupu řetězec nad abecedou  $\{0, 1\}$
- 3 **NTS**  $T$  ověří, zda jeho vstup odpovídá validnímu kódu  $\langle M \rangle$  nějakého TS  $M$ . Pokud ne, **odmítne**, jinak pokračuje
- 4 **NTS**  $T$  nedeterministicky vygeneruje nějaký řetězec  $w$  nad abecedou  $\Sigma$  stroje  $M$
- 5 **NTS**  $T$  spustí simulaci stroje  $M$  na řetězci  $w$
- 6 Skončí-li simulace přijetím, **NTS**  $T$  akceptuje vstup  $\langle M \rangle$
- 7 Skončí-li simulace odmítnutím, **NTS**  $T$  odmítne vstup  $\langle M \rangle$
- 8 Cyklí-li simulace, cyklí i stroj **NTS**  $T$

## Determinismus

- Při použití deterministického Turingova stroje nelze provést krok nedeterministické volby řetězce  $w$
- Je třeba systematicky generovat všechny řetězce nad abecedou simulovaného stroje

## Determinismus

- Při použití **deterministického Turingova stroje** nelze provést krok **nedeterministické** volby řetězce  $w$
- Je třeba **systematicky generovat všechny řetězce** nad abecedou simulovaného stroje

## Strategie systematického provádění simulací

**Spouštění simulací na jednotlivých slovech (nefunguje)**

		krok simulace							.....
		1	2	3	4	5	6	7	
w	w <sub>0</sub>								.....
	w <sub>1</sub>								.....
	w <sub>2</sub>								.....
	w <sub>3</sub>								.....
		⋮	⋮	⋮	⋮	⋮	⋮	⋮	⋮

## Determinismus

- Při použití **deterministického Turingova stroje** nelze provést krok **nedeterministické** volby řetězce  $w$
- Je třeba **systematicky generovat všechny řetězce** nad abecedou simulovaného stroje

## Strategie systematického provádění simulací

**Spouštění simulací na jednotlivých slovech (nefunguje)**

		krok simulace							.....
		1	2	3	4	5	6	7	
w	w <sub>0</sub>	✗							.....
	w <sub>1</sub>								.....
	w <sub>2</sub>								.....
	w <sub>3</sub>								.....
		⋮	⋮	⋮	⋮	⋮	⋮	⋮	⋮

## Determinismus

- Při použití **deterministického Turingova stroje** nelze provést krok **nedeterministické** volby řetězce  $w$
- Je třeba **systematicky generovat všechny řetězce** nad abecedou simulovaného stroje

## Strategie systematického provádění simulací

**Spouštění simulací na jednotlivých slovech (nefunguje)**

		krok simulace							.....
		1	2	3	4	5	6	7	
w	w <sub>0</sub>	×	×						.....
	w <sub>1</sub>								.....
	w <sub>2</sub>								.....
	w <sub>3</sub>								.....
		⋮	⋮	⋮	⋮	⋮	⋮	⋮	⋮

## Determinismus

- Při použití **deterministického Turingova stroje** nelze provést krok **nedeterministické** volby řetězce  $w$
- Je třeba **systematicky generovat všechny řetězce** nad abecedou simulovaného stroje

Strategie systematického provádění simulací

Spouštění simulací na jednotlivých slovech (**nefunguje**)

		krok simulace							.....
		1	2	3	4	5	6	7	
w	w <sub>0</sub>	×	×	×					.....
	w <sub>1</sub>								.....
	w <sub>2</sub>								.....
	w <sub>3</sub>								.....
		⋮	⋮	⋮	⋮	⋮	⋮	⋮	⋮

## Determinismus

- Při použití **deterministického Turingova stroje** nelze provést krok **nedeterministické** volby řetězce  $w$
- Je třeba **systematicky generovat všechny řetězce** nad abecedou simulovaného stroje

## Strategie systematického provádění simulací

**Spouštění simulací na jednotlivých slovech (nefunguje)**

		krok simulace							.....
		1	2	3	4	5	6	7	
w	w <sub>0</sub>	×	×	×	×				.....
	w <sub>1</sub>								.....
	w <sub>2</sub>								.....
	w <sub>3</sub>								.....
		⋮	⋮	⋮	⋮	⋮	⋮	⋮	⋮

## Determinismus

- Při použití **deterministického Turingova stroje** nelze provést krok **nedeterministické** volby řetězce  $w$
- Je třeba **systematicky generovat všechny řetězce** nad abecedou simulovaného stroje

Strategie systematického provádění simulací

Spouštění simulací na jednotlivých slovech (**nefunguje**)

		krok simulace							.....
		1	2	3	4	5	6	7	
w	w <sub>0</sub>	×	×	×	×	×			.....
	w <sub>1</sub>								.....
	w <sub>2</sub>								.....
	w <sub>3</sub>								.....
		⋮	⋮	⋮	⋮	⋮	⋮	⋮	⋮



## Determinismus

- Při použití **deterministického Turingova stroje** nelze provést krok **nedeterministické** volby řetězce  $w$
- Je třeba **systematicky generovat všechny řetězce** nad abecedou simulovaného stroje

## Strategie systematického provádění simulací

**Spouštění simulací na jednotlivých slovech (nefunguje)**

		krok simulace						
		1	2	3	4	5	6	7
w	w <sub>0</sub>	×	×	×	×	×	×	
	w <sub>1</sub>							
	w <sub>2</sub>							
	w <sub>3</sub>							

.....

.....

.....

.....

.....

.....

.....

.....

.....

.....

## Determinismus

- Při použití **deterministického Turingova stroje** nelze provést krok **nedeterministické** volby řetězce  $w$
- Je třeba **systematicky generovat všechny řetězce** nad abecedou simulovaného stroje

Strategie systematického provádění simulací

Spouštění simulací na jednotlivých slovech (**nefunguje**)

		krok simulace							.....
		1	2	3	4	5	6	7	
w	w <sub>0</sub>	×	×	×	×	×	×	×	.....
	w <sub>1</sub>								.....
	w <sub>2</sub>								.....
	w <sub>3</sub>								.....
		⋮	⋮	⋮	⋮	⋮	⋮	⋮	⋮

## Determinismus

- Při použití **deterministického Turingova stroje** nelze provést krok **nedeterministické** volby řetězce  $w$
- Je třeba **systematicky generovat všechny řetězce** nad abecedou simulovaného stroje

## Strategie systematického provádění simulací

**Spouštění prvních kroků všech simulací (nefunguje)**

		krok simulace							.....
		1	2	3	4	5	6	7	
w	w <sub>0</sub>	✗							.....
	w <sub>1</sub>								.....
	w <sub>2</sub>								.....
	w <sub>3</sub>								.....
		⋮	⋮	⋮	⋮	⋮	⋮	⋮	⋮

## Determinismus

- Při použití **deterministického Turingova stroje** nelze provést krok **nedeterministické** volby řetězce  $w$
- Je třeba **systematicky generovat všechny řetězce** nad abecedou simulovaného stroje

## Strategie systematického provádění simulací

**Spouštění prvních kroků všech simulací (nefunguje)**

		krok simulace							.....
		1	2	3	4	5	6	7	
w	w <sub>0</sub>	✗							.....
	w <sub>1</sub>	✗							.....
	w <sub>2</sub>								.....
	w <sub>3</sub>								.....
		⋮	⋮	⋮	⋮	⋮	⋮	⋮	⋮

## Determinismus

- Při použití **deterministického Turingova stroje** nelze provést krok **nedeterministické** volby řetězce  $w$
- Je třeba **systematicky generovat všechny řetězce** nad abecedou simulovaného stroje

## Strategie systematického provádění simulací

**Spouštění prvních kroků všech simulací (nefunguje)**

		krok simulace							.....
		1	2	3	4	5	6	7	
w	w <sub>0</sub>	✗							.....
	w <sub>1</sub>	✗							.....
	w <sub>2</sub>	✗							.....
	w <sub>3</sub>								.....
		⋮	⋮	⋮	⋮	⋮	⋮	⋮	⋮

## Determinismus

- Při použití **deterministického Turingova stroje** nelze provést krok **nedeterministické** volby řetězce  $w$
- Je třeba **systematicky generovat všechny řetězce** nad abecedou simulovaného stroje

## Strategie systematického provádění simulací

**Spouštění prvních kroků všech simulací (nefunguje)**

		krok simulace							.....
		1	2	3	4	5	6	7	
w	w <sub>0</sub>	✗							.....
	w <sub>1</sub>	✗							.....
	w <sub>2</sub>	✗							.....
	w <sub>3</sub>	✗							.....
		⋮	⋮	⋮	⋮	⋮	⋮	⋮	⋮

## Determinismus

- Při použití **deterministického Turingova stroje** nelze provést krok **nedeterministické** volby řetězce  $w$
- Je třeba **systematicky generovat všechny řetězce** nad abecedou simulovaného stroje

## Strategie systematického provádění simulací

**"Diagonální" střídání simulací po krocích (funguje)**

		krok simulace							.....
		1	2	3	4	5	6	7	
w	w <sub>0</sub>	✗							.....
	w <sub>1</sub>								.....
	w <sub>2</sub>								.....
	w <sub>3</sub>								.....
		⋮	⋮	⋮	⋮	⋮	⋮	⋮	⋮

## Determinismus

- Při použití **deterministického Turingova stroje** nelze provést krok **nedeterministické** volby řetězce  $w$
- Je třeba **systematicky generovat všechny řetězce** nad abecedou simulovaného stroje

## Strategie systematického provádění simulací

**"Diagonální" střídání simulací po krocích (funguje)**

		krok simulace							.....
		1	2	3	4	5	6	7	
w	w <sub>0</sub>	×	×						.....
	w <sub>1</sub>								.....
	w <sub>2</sub>								.....
	w <sub>3</sub>								.....
		⋮	⋮	⋮	⋮	⋮	⋮	⋮	⋮



## Determinismus

- Při použití **deterministického Turingova stroje** nelze provést krok **nedeterministické** volby řetězce  $w$
- Je třeba **systematicky generovat všechny řetězce** nad abecedou simulovaného stroje

## Strategie systematického provádění simulací

**"Diagonální" střídání simulací po krocích (funguje)**

		krok simulace							.....
		1	2	3	4	5	6	7	
w	w <sub>0</sub>	×	×						.....
	w <sub>1</sub>	×							.....
	w <sub>2</sub>								.....
	w <sub>3</sub>								.....
		⋮	⋮	⋮	⋮	⋮	⋮	⋮	⋮

## Determinismus

- Při použití **deterministického Turingova stroje** nelze provést krok **nedeterministické** volby řetězce  $w$
- Je třeba **systematicky generovat všechny řetězce** nad abecedou simulovaného stroje

## Strategie systematického provádění simulací

**"Diagonální" střídání simulací po krocích (funguje)**

		krok simulace							.....
		1	2	3	4	5	6	7	
w	w <sub>0</sub>	×	×	×					.....
	w <sub>1</sub>	×							.....
	w <sub>2</sub>								.....
	w <sub>3</sub>								.....
		⋮	⋮	⋮	⋮	⋮	⋮	⋮	⋮

## Determinismus

- Při použití **deterministického Turingova stroje** nelze provést krok **nedeterministické** volby řetězce  $w$
- Je třeba **systematicky generovat všechny řetězce** nad abecedou simulovaného stroje

## Strategie systematického provádění simulací

**"Diagonální" střídání simulací po krocích (funguje)**

		krok simulace							.....
		1	2	3	4	5	6	7	
w	w <sub>0</sub>	×	×	×					.....
	w <sub>1</sub>	×	×						.....
	w <sub>2</sub>								.....
	w <sub>3</sub>								.....
		⋮	⋮	⋮	⋮	⋮	⋮	⋮	⋮

## Determinismus

- Při použití **deterministického Turingova stroje** nelze provést krok **nedeterministické** volby řetězce  $w$
- Je třeba **systematicky generovat všechny řetězce** nad abecedou simulovaného stroje

## Strategie systematického provádění simulací

**"Diagonální" střídání simulací po krocích (funguje)**

		krok simulace							.....
		1	2	3	4	5	6	7	
w	w <sub>0</sub>	×	×	×					.....
	w <sub>1</sub>	×	×						.....
	w <sub>2</sub>	×							.....
	w <sub>3</sub>								.....
		⋮	⋮	⋮	⋮	⋮	⋮	⋮	⋮

## Determinismus

- Při použití **deterministického Turingova stroje** nelze provést krok **nedeterministické** volby řetězce  $w$
- Je třeba **systematicky generovat všechny řetězce** nad abecedou simulovaného stroje

## Strategie systematického provádění simulací

**"Diagonální" střídání simulací po krocích (funguje)**

		krok simulace							.....
		1	2	3	4	5	6	7	
w	w <sub>0</sub>	×	×	×	×				.....
	w <sub>1</sub>	×	×						.....
	w <sub>2</sub>	×							.....
	w <sub>3</sub>								.....
		⋮	⋮	⋮	⋮	⋮	⋮	⋮	⋮

## Determinismus

- Při použití **deterministického Turingova stroje** nelze provést krok **nedeterministické** volby řetězce  $w$
- Je třeba **systematicky generovat všechny řetězce** nad abecedou simulovaného stroje

## Strategie systematického provádění simulací

**"Diagonální" střídání simulací po krocích (funguje)**

		krok simulace							.....
		1	2	3	4	5	6	7	
w	w <sub>0</sub>	×	×	×	×				.....
	w <sub>1</sub>	×	×	×					.....
	w <sub>2</sub>	×							.....
	w <sub>3</sub>								.....
		⋮	⋮	⋮	⋮	⋮	⋮	⋮	⋮

## Determinismus

- Při použití **deterministického Turingova stroje** nelze provést krok **nedeterministické** volby řetězce  $w$
- Je třeba **systematicky generovat všechny řetězce** nad abecedou simulovaného stroje

## Strategie systematického provádění simulací

**"Diagonální" střídání simulací po krocích (funguje)**

		krok simulace						
		1	2	3	4	5	6	7
w	w <sub>0</sub>	×	×	×	×			
	w <sub>1</sub>	×	×	×				
	w <sub>2</sub>	×	×					
	w <sub>3</sub>							

⋮    ⋮    ⋮    ⋮    ⋮    ⋮    ⋮    ⋮

## Determinismus

- Při použití **deterministického Turingova stroje** nelze provést krok **nedeterministické** volby řetězce  $w$
- Je třeba **systematicky generovat všechny řetězce** nad abecedou simulovaného stroje

## Strategie systematického provádění simulací

**"Diagonální" střídání simulací po krocích (funguje)**

		krok simulace						
		1	2	3	4	5	6	7
w	w <sub>0</sub>	×	×	×	×			
	w <sub>1</sub>	×	×	×				
	w <sub>2</sub>	×	×					
	w <sub>3</sub>	×						

⋮    ⋮    ⋮    ⋮    ⋮    ⋮    ⋮    ↘



## Determinismus

- Při použití **deterministického Turingova stroje** nelze provést krok **nedeterministické** volby řetězce  $w$
- Je třeba **systematicky generovat všechny řetězce** nad abecedou simulovaného stroje

## Strategie systematického provádění simulací

**"Diagonální" střídání simulací po krocích (funguje)**

		krok simulace						
		1	2	3	4	5	6	7
w	w <sub>0</sub>	×	×	×	×	×		
	w <sub>1</sub>	×	×	×				
	w <sub>2</sub>	×	×					
	w <sub>3</sub>	×						

⋮    ⋮    ⋮    ⋮    ⋮    ⋮    ⋮    ⋮

## Determinismus

- Při použití **deterministického Turingova stroje** nelze provést krok **nedeterministické** volby řetězce  $w$
- Je třeba **systematicky generovat všechny řetězce** nad abecedou simulovaného stroje

## Strategie systematického provádění simulací

**"Diagonální" střídání simulací po krocích (funguje)**

		krok simulace						
		1	2	3	4	5	6	7
w	w <sub>0</sub>	×	×	×	×	×		
	w <sub>1</sub>	×	×	×	×			
	w <sub>2</sub>	×	×					
	w <sub>3</sub>	×						
		⋮	⋮	⋮	⋮	⋮	⋮	⋮

## Determinismus

- Při použití **deterministického Turingova stroje** nelze provést krok **nedeterministické** volby řetězce  $w$
- Je třeba **systematicky generovat všechny řetězce** nad abecedou simulovaného stroje

## Strategie systematického provádění simulací

**"Diagonální" střídání simulací po krocích (funguje)**

		krok simulace						
		1	2	3	4	5	6	7
w	w <sub>0</sub>	×	×	×	×	×		
	w <sub>1</sub>	×	×	×	×			
	w <sub>2</sub>	×	×	●				
	w <sub>3</sub>	×						
		⋮	⋮	⋮	⋮	⋮	⋮	⋮

## Důkaz rekurzivní vyčísitelnosti

Dokažte, že následující jazyk  $L$  je rekurzivně vyčísitelný:

$$L = \{ \langle M \rangle \mid \langle M \rangle \text{ je kód TS } M, \text{ kde } L(M) \neq \emptyset \}$$

## Důkaz rekurzivní vyčísitelnosti

Dokažte, že následující jazyk  $L$  je rekurzivně vyčísitelný:

$$L = \{ \langle M \rangle \mid \langle M \rangle \text{ je kód TS } M, \text{ kde } L(M) \neq \emptyset \}$$

Řešení pomocí **deterministického** Turingova stroje

- Konstruujeme **DTS**  $T$  takový, aby  $L(T) = L$

## Důkaz rekurzivní vyčísitelnosti

Dokažte, že následující jazyk  $L$  je rekurzivně vyčísitelný:

$$L = \{ \langle M \rangle \mid \langle M \rangle \text{ je kód TS } M, \text{ kde } L(M) \neq \emptyset \}$$

Řešení pomocí **deterministického** Turingova stroje

- Konstruujeme **DTS**  $T$  takový, aby  $L(T) = L$
- **DTS**  $T$  má na svém vstupu řetězec nad abecedou  $\{0, 1\}$

## Důkaz rekurzivní vyčíslitelnosti

**Dokažte, že následující jazyk  $L$  je rekurzivně vyčíslitelný:**

$$L = \{ \langle M \rangle \mid \langle M \rangle \text{ je kód TS } M, \text{ kde } L(M) \neq \emptyset \}$$

Řešení pomocí **deterministického** Turingova stroje

- Konstruujeme **DTS**  $T$  takový, aby  $L(T) = L$
- **DTS**  $T$  má na svém vstupu řetězec nad abecedou  $\{0, 1\}$
- **DTS**  $T$  ověří, zda jeho vstup odpovídá validnímu kódu  $\langle M \rangle$  nějakého TS  $M$ . Pokud ne, **odmítne**, jinak pokračuje.

## Důkaz rekurzivní vyčíslitelnosti

**Dokažte, že následující jazyk  $L$  je rekurzivně vyčíslitelný:**

$$L = \{ \langle M \rangle \mid \langle M \rangle \text{ je kód TS } M, \text{ kde } L(M) \neq \emptyset \}$$

Řešení pomocí **deterministického** Turingova stroje

- Konstruujeme **DTS**  $T$  takový, aby  $L(T) = L$
- **DTS**  $T$  má na svém vstupu řetězec nad abecedou  $\{0, 1\}$
- **DTS**  $T$  ověří, zda jeho vstup odpovídá validnímu kódu  $\langle M \rangle$  nějakého TS  $M$ . Pokud ne, **odmítne**, jinak pokračuje.
- **DTS**  $T$  postupně generuje veškeré řetězce nad abecedou  $\Sigma$  stroje  $M$  v lexikografickém pořadí  $w_0, w_1, w_2, \dots$



## Důkaz rekurzivní vyčíslitelnosti

**Dokažte, že následující jazyk  $L$  je rekurzivně vyčíslitelný:**

$$L = \{ \langle M \rangle \mid \langle M \rangle \text{ je kód TS } M, \text{ kde } L(M) \neq \emptyset \}$$

Řešení pomocí **deterministického** Turingova stroje

- Konstruujeme **DTS**  $T$  takový, aby  $L(T) = L$
- **DTS**  $T$  má na svém vstupu řetězec nad abecedou  $\{0, 1\}$
- **DTS**  $T$  ověří, zda jeho vstup odpovídá validnímu kódu  $\langle M \rangle$  nějakého TS  $M$ . Pokud ne, **odmítne**, jinak pokračuje.
- **DTS**  $T$  postupně generuje veškeré řetězce nad abecedou  $\Sigma$  stroje  $M$  v lexikografickém pořadí  $w_0, w_1, w_2, \dots$
- **DTS**  $T$  spustí první krok simulace stroje  $M$  na řetězci  $w_0$ , simulaci poté pozastaví a uloží si řídicí informace na pomocnou pásku

## Důkaz rekurzivní vyčísitelnosti

**Dokažte, že následující jazyk  $L$  je rekurzivně vyčísitelný:**

$$L = \{ \langle M \rangle \mid \langle M \rangle \text{ je kód TS } M, \text{ kde } L(M) \neq \emptyset \}$$

Řešení pomocí **deterministického** Turingova stroje

- **DTS**  $T$  následně opakovaně provádí následující postup:
  - provede **jeden** krok všech rozpracovaných simulací
  - provede **první** krok simulace následujícího dosud nepoužitého řetězce v uvedeném lexikografickém pořadí

## Důkaz rekurzivní vyčíslitelnosti

**Dokažte, že následující jazyk  $L$  je rekurzivně vyčíslitelný:**

$$L = \{ \langle M \rangle \mid \langle M \rangle \text{ je kód TS } M, \text{ kde } L(M) \neq \emptyset \}$$

Řešení pomocí **deterministického** Turingova stroje

- **DTS**  $T$  následně opakovaně provádí následující postup:
  - provede **jeden** krok všech rozpracovaných simulací
  - provede **první** krok simulace následujícího dosud nepoužitého řetězce v uvedeném lexikografickém pořadí
- Pokud některá simulace skončí odmítnutím, napříště již není spouštěna

## Důkaz rekurzivní vyčíslitelnosti

**Dokažte, že následující jazyk  $L$  je rekurzivně vyčíslitelný:**

$$L = \{ \langle M \rangle \mid \langle M \rangle \text{ je kód TS } M, \text{ kde } L(M) \neq \emptyset \}$$

Řešení pomocí **deterministického** Turingova stroje

- **DTS**  $T$  následně opakovně provádí následující postup:
  - provede **jeden** krok všech rozpracovaných simulací
  - provede **první** krok simulace následujícího dosud nepoužitého řetězce v uvedeném lexikografickém pořadí
- Pokud některá simulace skončí odmítnutím, napříště již není spouštěna
- Pokud některá simulace skončí akceptováním, **DTS**  $T$  akceptuje svůj vstup  $\langle M \rangle$

## Důkaz rekurzivní vyčíslitelnosti

**Dokažte, že následující jazyk  $L$  je rekurzivně vyčíslitelný:**

$$L = \{ \langle M \rangle \mid \langle M \rangle \text{ je kód TS } M, \text{ kde } L(M) \neq \emptyset \}$$

Řešení pomocí **deterministického** Turingova stroje

- **DTS**  $T$  následně opakovaně provádí následující postup:
  - provede **jeden** krok všech rozpracovaných simulací
  - provede **první** krok simulace následujícího dosud nepoužitého řetězce v uvedeném lexikografickém pořadí
- Pokud některá simulace skončí odmítnutím, napříště již není spouštěna
- Pokud některá simulace skončí akceptováním, **DTS**  $T$  akceptuje svůj vstup  $\langle M \rangle$
- Pokud je jazyk stroje  $M$  prázdný, **DTS**  $T$  cyklí

## Důkaz rekurzivní vyčísitelnosti

Dokažte, že následující jazyk  $L$  je rekurzivně vyčísitelný:

$$L = \{ \langle M \rangle \# \langle n \rangle \mid \forall w \in \Sigma^* : |w| \leq n \Rightarrow w \in L(M) \}$$

		krok simulace							.....	
		1	2	3	4	5	6	7		
w	w <sub>0</sub>									.....
	w <sub>1</sub>									.....
	w <sub>2</sub>									.....
	w <sub>3</sub>									.....
		⋮	⋮	⋮	⋮	⋮	⋮	⋮	⋮	⋮

## Důkaz rekurzivní vyčíslitelnosti

**Dokažte, že následující jazyk  $L$  je rekurzivně vyčíslitelný:**

$$L = \{\langle M \rangle \# \langle n \rangle \mid \forall w \in \Sigma^* : |w| \leq n \Rightarrow w \in L(M)\}$$

## Důkaz rekurzivní vyčísitelnosti

Dokažte, že následující jazyk **L** je rekurzivně vyčísitelný:

$$L = \{\langle M \rangle \# \langle n \rangle \mid \forall w \in \Sigma^* : |w| \leq n \Rightarrow w \in L(M)\}$$

Řešení pomocí **deterministického** Turingova stroje

- Konstruujeme **DTS**  $T$  takový, aby  $L(T) = L$



## Důkaz rekurzivní vyčísitelnosti

Dokažte, že následující jazyk **L** je rekurzivně vyčísitelný:

$$L = \{\langle M \rangle \# \langle n \rangle \mid \forall w \in \Sigma^* : |w| \leq n \Rightarrow w \in L(M)\}$$

Řešení pomocí **deterministického** Turingova stroje

- Konstruujeme **DTS**  $T$  takový, aby  $L(T) = L$
- **DTS**  $T$  má na svém vstupu řetězec nad abecedou  $\{0, 1, \#\}$

## Důkaz rekurzivní vyčíslitelnosti

**Dokažte, že následující jazyk  $L$  je rekurzivně vyčíslitelný:**

$$L = \{\langle M \rangle \# \langle n \rangle \mid \forall w \in \Sigma^* : |w| \leq n \Rightarrow w \in L(M)\}$$

Řešení pomocí **deterministického** Turingova stroje

- Konstruujeme **DTS**  $T$  takový, aby  $L(T) = L$
- **DTS**  $T$  má na svém vstupu řetězec nad abecedou  $\{0, 1, \#\}$
- **DTS**  $T$  ověří, zda jeho vstup je ve tvaru  $\langle M \rangle \# \langle n \rangle$ , kde  $\langle M \rangle$  je kód Turingova stroje  $M$  a  $\langle n \rangle$  je kód přirozeného čísla  $n$

## Důkaz rekurzivní vyčíslitelnosti

**Dokažte, že následující jazyk  $L$  je rekurzivně vyčíslitelný:**

$$L = \{\langle M \rangle \# \langle n \rangle \mid \forall w \in \Sigma^* : |w| \leq n \Rightarrow w \in L(M)\}$$

Řešení pomocí **deterministického** Turingova stroje

- Konstruujeme **DTS**  $T$  takový, aby  $L(T) = L$
- **DTS**  $T$  má na svém vstupu řetězec nad abecedou  $\{0, 1, \#\}$
- **DTS**  $T$  ověří, zda jeho vstup je ve tvaru  $\langle M \rangle \# \langle n \rangle$ , kde  $\langle M \rangle$  je kód Turingova stroje  $M$  a  $\langle n \rangle$  je kód přirozeného čísla  $n$
- Pokud tomu tak není, **DTS**  $T$  odmítne, jinak pokračuje

## Důkaz rekurzivní vyčíslitelnosti

**Dokažte, že následující jazyk  $L$  je rekurzivně vyčíslitelný:**

$$L = \{ \langle M \rangle \# \langle n \rangle \mid \forall w \in \Sigma^* : |w| \leq n \Rightarrow w \in L(M) \}$$

Řešení pomocí **deterministického** Turingova stroje

- Konstruujeme **DTS**  $T$  takový, aby  $L(T) = L$
- **DTS**  $T$  má na svém vstupu řetězec nad abecedou  $\{0, 1, \#\}$
- **DTS**  $T$  ověří, zda jeho vstup je ve tvaru  $\langle M \rangle \# \langle n \rangle$ , kde  $\langle M \rangle$  je kód Turingova stroje  $M$  a  $\langle n \rangle$  je kód přirozeného čísla  $n$
- Pokud tomu tak není, **DTS**  $T$  odmítne, jinak pokračuje
- **DTS**  $T$  postupně generuje veškeré řetězce  $w_0, w_1, \dots$  nad abecedou stroje  $M$ , které mají délku nejvýše  $n$

## Důkaz rekurzivní vyčíslitelnosti

**Dokažte, že následující jazyk  $L$  je rekurzivně vyčíslitelný:**

$$L = \{ \langle M \rangle \# \langle n \rangle \mid \forall w \in \Sigma^* : |w| \leq n \Rightarrow w \in L(M) \}$$

Řešení pomocí **deterministického** Turingova stroje

- Konstruujeme **DTS**  $T$  takový, aby  $L(T) = L$
- **DTS**  $T$  má na svém vstupu řetězec nad abecedou  $\{0, 1, \#\}$
- **DTS**  $T$  ověří, zda jeho vstup je ve tvaru  $\langle M \rangle \# \langle n \rangle$ , kde  $\langle M \rangle$  je kód Turingova stroje  $M$  a  $\langle n \rangle$  je kód přirozeného čísla  $n$
- Pokud tomu tak není, **DTS**  $T$  odmítne, jinak pokračuje
- **DTS**  $T$  postupně generuje veškeré řetězce  $w_0, w_1, \dots$  nad abecedou stroje  $M$ , které mají délku nejvýše  $n$
- **DTS**  $T$  postupně spouští simulace stroje  $M$  nad všemi těmito řetězci

## Důkaz rekurzivní vyčíslitelnosti

Dokažte, že následující jazyk **L** je rekurzivně vyčíslitelný:

$$L = \{\langle M \rangle \# \langle n \rangle \mid \forall w \in \Sigma^* : |w| \leq n \Rightarrow w \in L(M)\}$$

Řešení pomocí **deterministického** Turingova stroje

- Pokud některá simulace skončí odmítnutím, odmítne i stroj  $T$

## Důkaz rekurzivní vyčísitelnosti

Dokažte, že následující jazyk **L** je rekurzivně vyčísitelný:

$$L = \{\langle M \rangle \# \langle n \rangle \mid \forall w \in \Sigma^* : |w| \leq n \Rightarrow w \in L(M)\}$$

Řešení pomocí **deterministického** Turingova stroje

- Pokud některá simulace skončí odmítnutím, odmítne i stroj  $T$
- Pokud některá simulace cyklí, cyklí i stroj  $T$

## Důkaz rekurzivní vyčísitelnosti

**Dokažte, že následující jazyk  $L$  je rekurzivně vyčísitelný:**

$$L = \{\langle M \rangle \# \langle n \rangle \mid \forall w \in \Sigma^* : |w| \leq n \Rightarrow w \in L(M)\}$$

Řešení pomocí **deterministického** Turingova stroje

- Pokud některá simulace skončí odmítnutím, odmítne i stroj  $T$
- Pokud některá simulace cyklí, cyklí i stroj  $T$
- Pokud veškeré simulace skončily akceptováním, stroj  $T$  akceptuje



Dotazy